

ΜΑΚΡΗΣ ΠΑΝΑΓΙΩΤΗΣ

ΕΞΑΣΚΗΣΗ ΣΤΙΣ ΒΑΣΙΚΕΣ ΠΡΟΜΑΘΗΜΑΤΙΚΕΣ ΕΝΝΟΙΕΣ

ΦΥΛΛΑ ΕΡΓΑΣΙΑΣ

1. Προμαθηματικές έννοιες- πάνω-κάτω

2. Προμαθηματικές έννοιες-μεγαλύτερο-μικρότερο (α)

3. Προμαθηματικές έννοιες-μεγαλύτερο-μικρότερο (β)

4. Προμαθηματικές έννοιες – κοντά-μακριά

5. Προμαθηματικές έννοιες-μέσα-έξω


6. Προμαθηματικές έννοιες- ψηλό-κοντό

7. Προμαθηματικές έννοιες-δεξιά-αριστερά



8. Προμαθηματικές έννοιες-σχήματα

9. Προμαθηματικές έννοιες- αριθμοί

Χρωμάτισε τα μήλα που είναι πάνω στο δέντρο  
κόκκινα και ζωγράφισε μήλα μόνος σου κάτω  
από το δέντρο



Α. Χρωμάτισε το μεγαλύτερο ψάρι.



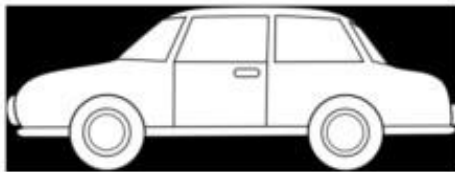
Β. Χρωμάτισε το μικρότερο λουλούδι.



Γ. Χρωμάτισε με κόκκινο το μικρότερο μολύβι και με κίτρινο το μεγαλύτερο.



A. Χρωμάτισε το μεγαλύτερο αυτοκίνητο



B. Χρωμάτισε το μικρότερο παπάκι.



# προ μαθηματικές έννοιες

Χρωμάτισε την σωστή απάντηση

A. Τι είναι πιο κοντά στο κερί;




B. Τι είναι πιο μακριά από το σπίτι;




Γ. Χρωμάτισε αυτό που είναι ανάμεσα από το παγωτό και το γλειφιτζούρι.




Χρωμάτισε ότι βρίσκεται έξω από τον κύκλο




**A. Χρωμάτισε το πιο ψηλό δέντρο**





**B. Χρωμάτισε το πιο κοντό κοριτσάκι**



**Γ. Χρωμάτισε το αγοράκι που δεν είναι ούτε κοντό ούτε ψηλό**



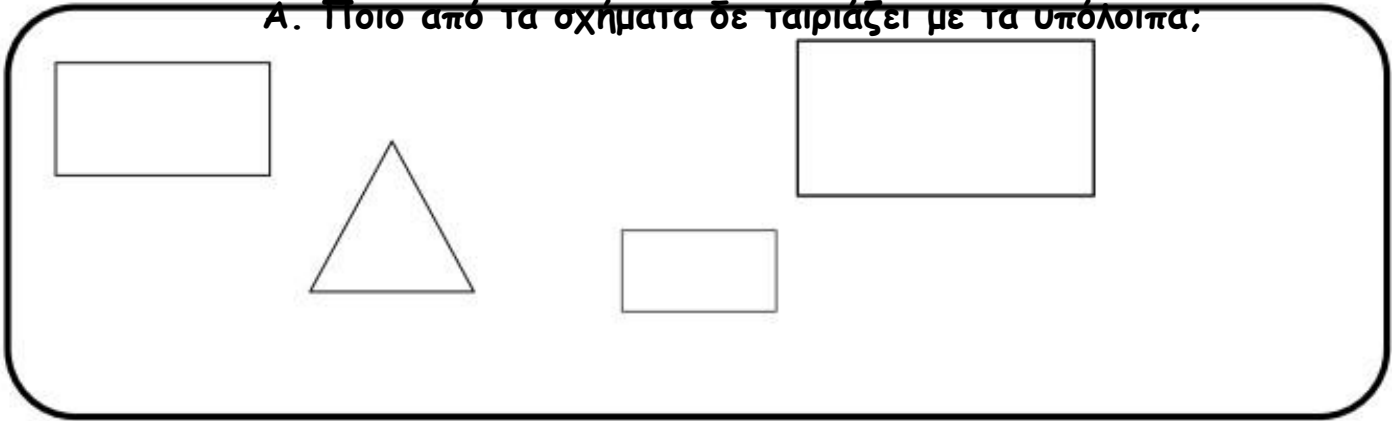
Χρωμάτισε τα ζώακια που κοιτούν δεξιά



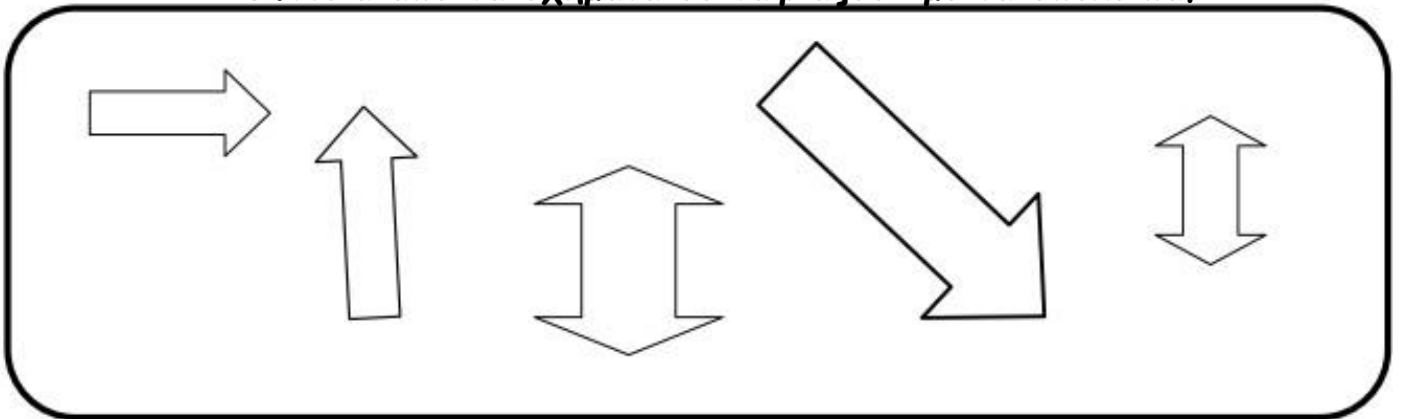


**Χρωμάτισε τη σωστή απάντηση**

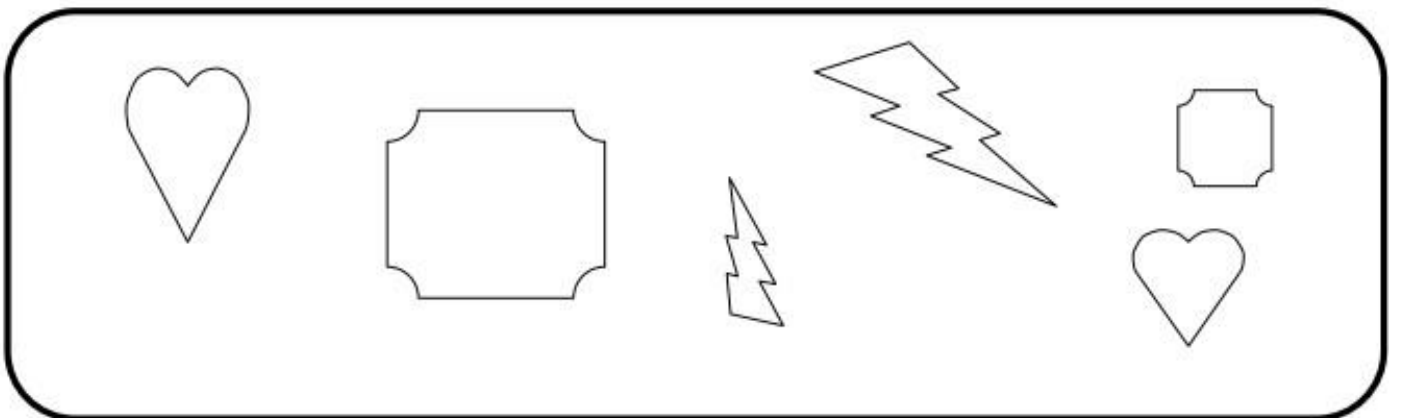
**Α. Ποιο από τα σχήματα δε ταιριάζει με τα υπόλοιπα;**




**Β. Ποια από τα σχήματα δε ταιριάζουν με τα υπόλοιπα;**



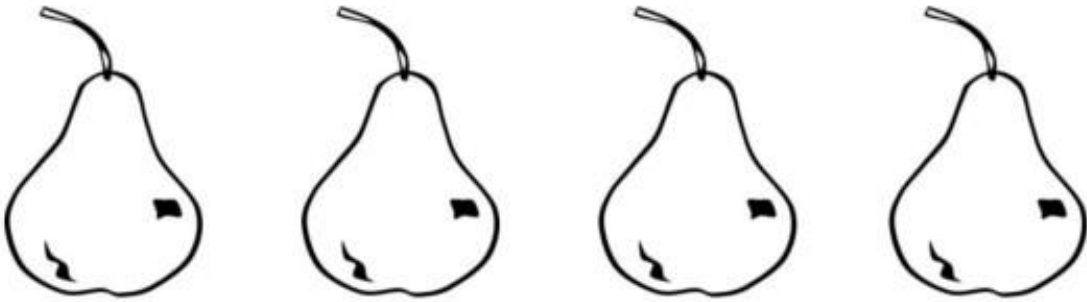
**Γ. Ποια σχήματα ταιριάζουν μεταξύ του;**



**Α. Χρωμάτισε την τελευταία μέλισσα κίτρινη**



**Β. Χρωμάτισε το πρώτο αχλάδι πράσινο**



**Γ. Χρωμάτισε την Τρίτη κιθάρα καφέ**

