

Όνομα:.....


Ημερομηνία:.....

ΑΦΑΙΡΕΣΗ ΜΕ ΑΦΑΙΡΕΤΕΟ ΜΕΓΑΛΟ ΑΡΙΘΜΟ

1) Κάνε τις αφαιρέσεις. Διέγραψε τις εικόνες που πρέπει για να βρεις πιο εύκολα το αποτέλεσμα.

$10 - 6 = \dots\dots\dots$ 

$6 - 5 = \dots\dots\dots$ 

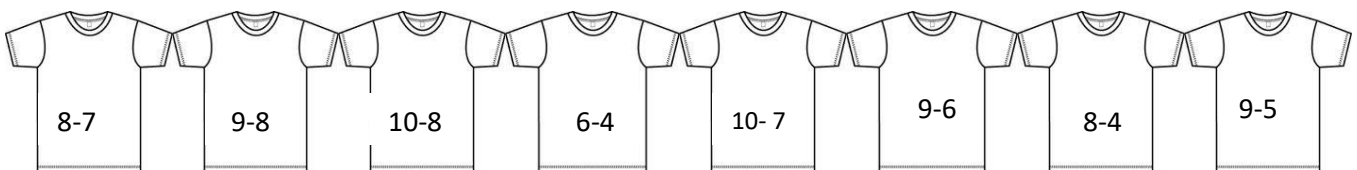
$4 - 3 = \dots\dots\dots$ 

$8 - 6 = \dots\dots\dots$ 

$9 - 6 = \dots\dots\dots$ 

$7 - 5 = \dots\dots\dots$ 

2) Να αντιστοιχίσεις




3) Ο παππούς είχε στον κήπο είχε 10 κότες και πούλησε τις 5 . Πόσες κότες του έμειναν;

ΛΥΣΗ

Ζωγραφίζω

ΑΠΑΝΤΗΣΗ

Του έμειναν.....κότες.



4) Μέσα στην κασετίνα του Μάνου υπήρχαν 9 μολύβια. Έχασε όμως τα 7 .Πόσα μολύβια του έμειναν;

ΛΥΣΗ

Ζωγραφίζω

ΑΠΑΝΤΗΣΗ

Έμειναν στην κασετίνα..... μολύβια.



5) Η τούρτα της Ανθούλας είχε 8 κεράκια. Η Ανθούλα φύσηξε και έβησε με την πρώτη τα 5. Πόσα κεράκια έμειναν αναμμένα στην τούρτα;

ΛΥΣΗ

Ζωγραφίζω

ΑΠΑΝΤΗΣΗ

Έμειναν κεράκια αναμμένα.

