



« ΜΑΘΗΜΑΤΙΚΑ »

ΟΝΟΜΑ

Ημερομηνία / /



Αντιστοιχίσε το ζάρι με την φέτα από καρπούζι που έχει τον ίδιο αριθμό από κουκούτσια.

Βρίσκω πόσο κάνουν. Με βοηθούν και τα μήλα στις μηλιές.



Όνομα _____

$$\begin{array}{r} 9 \\ - 2 \\ \hline \end{array}$$

$$\begin{array}{r} 10 \\ - 4 \\ \hline \end{array}$$

$$\begin{array}{r} 5 \\ - 2 \\ \hline \end{array}$$

$$\begin{array}{r} 6 \\ - 3 \\ \hline \end{array}$$

$$\begin{array}{r} 7 \\ - 5 \\ \hline \end{array}$$

$$\begin{array}{r} 10 \\ - 7 \\ \hline \end{array}$$

$$\begin{array}{r} 8 \\ - 6 \\ \hline \end{array}$$

$$\begin{array}{r} 10 \\ - 8 \\ \hline \end{array}$$


$$\begin{array}{r} 8 \\ - 2 \\ \hline \end{array}$$

$$\begin{array}{r} 10 \\ - 6 \\ \hline \end{array}$$


$$\begin{array}{r} 7 \\ - 3 \\ \hline \end{array}$$

$$\begin{array}{r} 9 \\ - 3 \\ \hline \end{array}$$

➤ Αφαιρώ όσες λαμπάδες γράφει ο δεύτερος αριθμός και μετρώ πόσες μένουν:



$10 - 3 = \boxed{7}$




$8 - 4 = \boxed{}$



$5 - 2 = \boxed{}$



$10 - 9 = \boxed{}$



$9 - 6 = \boxed{}$



$7 - 6 = \boxed{}$