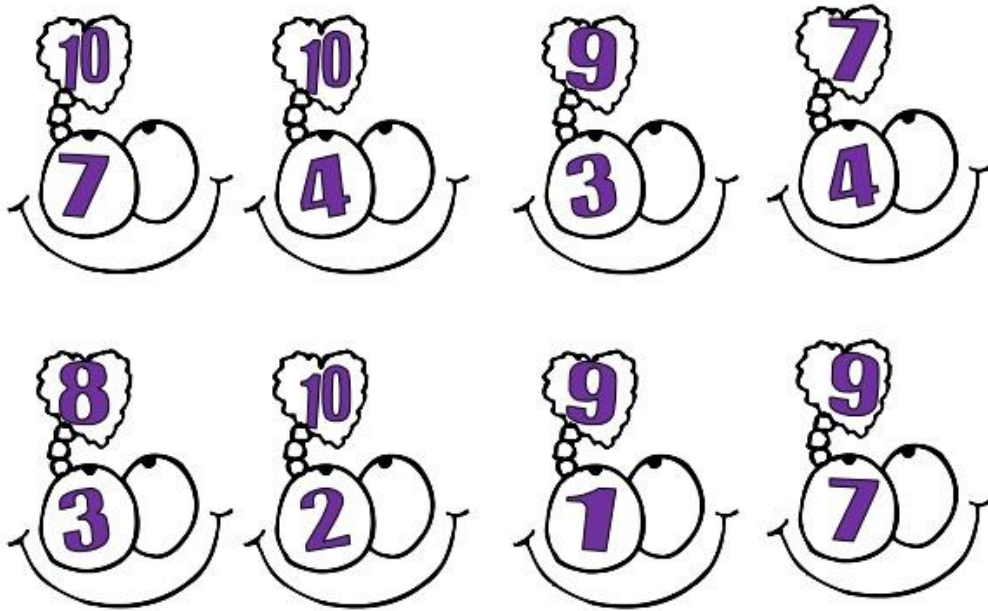



1ο συμπλήρωμα

Ποιος λείπει;









Από εδώ ποιος λείπει;



Συμπλήρωσε ώστε να γίνουν όλα όσα λέει ο αριθμός πάνω.

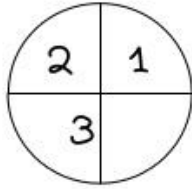
| | | | |
|---------|--------|---------|---------|
| 10 8 | 7 3 | 6 3 | 9 8 |
| 10 3 | 8 4 | 10 6 | 10 5 |
| 7 1 | 8 2 | 9 5 | 9 9 |

Δες πόσα λεφτά έχω στο πορτοφόλι μου και γράψε πόσα ακόμα χρειάζομαι για να αγοράσω αυτά που θέλω.

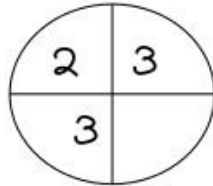
| | | |
|--|--|--|
|   |   |   |
| <p>Χρειάζομαι ακόμα _____ €, γιατί _____ + _____ =</p> | <p>Χρειάζομαι ακόμα _____ €, γιατί _____ + _____ =</p> | <p>Χρειάζομαι ακόμα _____ €, γιατί _____ + _____ =</p> |

Το συμπλήρωμα

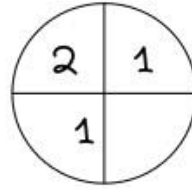
Συμπλήρωσε τον αριθμό που λείπει.



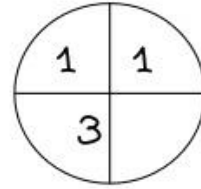
Όλα είναι 8.



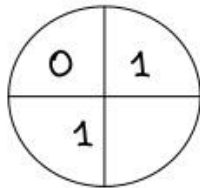
Όλα είναι 10.



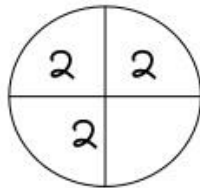
Όλα είναι 7.



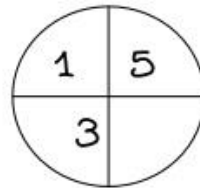
Όλα είναι 9.



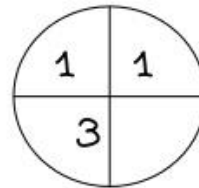
Όλα είναι 4.



Όλα είναι 8.



Όλα είναι 10.



Όλα είναι 5.


Μέσα στην κασετίνα του Θωμά χωράνε 10
ξυλομπογιές. Η κασετίνα έχει μέσα 7 ξυλομπογιές.
Πόσες ξυλομπογιές χωράνε ακόμα;



Λογαριάζω: _____

Απαντώ: _____

Φτιάξε κι εσύ μια δική σου ιστορία για την παρακάτω αφαίρεση και βρες τη λύση.



ΟΝΟΜΑ _____

Μετρώ.



ΕΠΑΝΑΛΗΨΗ 4ης ΕΝΟΤΗΤΑΣ

κεφάλαιο 32



24

○ ○ ○ ○ ○ ○ ○ ○ ○ ○



37

○ ○ ○ ○ ○ ○ ○ ○ ○ ○



46


○ ○ ○ ○ ○ ○ ○ ○ ○ ○

Μετρώ 5-5 και 10-10



5

□ □ □ □ □ □ □ □ □ □



10



Μετρώ 2-2 ως το 20.



2

♥ ♥ ♥ ♥ ♥ ♥ ♥ ♥ ♥ ♥

Μετρώ ανάποδα από το 20 ως το 0.



20

○ ○ ○ ○ ○ ○ ○ ○ ○ ○
○ ○ ○ ○ ○ ○ ○ ○ ○ ○

Χρωμάτισε τα μπαλόνια που δίνουν αποτέλεσμα ίσο με αυτό της καρτέλας.



$5+3$

$2+7$

$10-2$

$9-1$

$10-4$

$4+4$



$5+1$

$2+8$

$10-3$

$9+1$

$10-0$

$3+7$



$5+4$

$2+7$




$10-1$

$10-5$

$10-8$

$4+3$

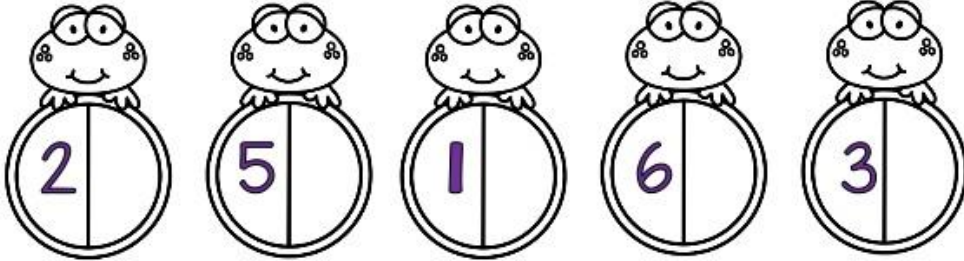
Ένωσε κάθε σκίουρο με το σωστό βελανίδι.




Το συμπλήρωμα

Βρες και συμπλήρωσε ποιος λείπει.

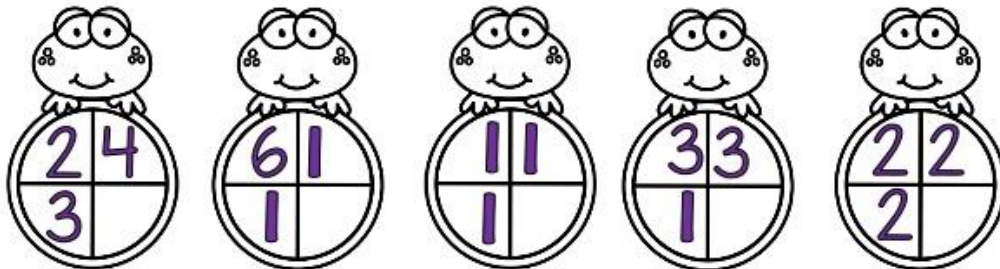
ορα είναι 9 ορα είναι 9 ορα είναι 9 ορα είναι 9 ορα είναι 9



ορα είναι 9 ορα είναι 9 ορα είναι 9 ορα είναι 9 ορα είναι 9



ορα είναι 10 ορα είναι 10 ορα είναι 10 ορα είναι 10 ορα είναι 10



Όνομα: _____

