




Μαθηματικά

8. Συμπληρώνω τους αριθμούς που λείπουν.

0	1	2			5		7			10
				14				18		

9. Γράφω τον αριθμό που βρίσκεται ανάμεσα.

10		12		14		16		9		11
13		15		17		19		18		20

10. Υπολογίζω τα αθροίσματα.

$4 + 2 =$	<input type="text"/>	$6 + 1 =$	<input type="text"/>	$3 + 3 =$	<input type="text"/>	$2 + 2 =$	<input type="text"/>
$5 + 4 =$	<input type="text"/>	$4 + 3 =$	<input type="text"/>	$1 + 2 =$	<input type="text"/>	$2 + 5 =$	<input type="text"/>
$1 + 1 =$	<input type="text"/>	$1 + 3 =$	<input type="text"/>	$3 + 2 =$	<input type="text"/>	$0 + 2 =$	<input type="text"/>
$0 + 1 =$	<input type="text"/>	$5 + 5 =$	<input type="text"/>	$4 + 4 =$	<input type="text"/>	$4 + 6 =$	<input type="text"/>

11. Ενώνω κάθε χιονάνθρωπο με το σκούφο του ώστε το σύνολο να είναι 10.

