

Μάθημα 23

1) Γράψε τους αριθμούς που λείπουν.

0			3			6			9
		12			15			18	

2) Γράψε τον αριθμό που είναι πριν και μετά από αυτόν που είναι στο κουτάκι.

.....

.....

.....

.....

.....

.....

.....

.....

.....

3) Λογάριασε με τη σειρά και μάθε απ' έξω πόσο κάνουν:

$10 + 1 =$

$10 + 7 =$

$10 + 2 =$

$10 + 5 =$

$10 + 8 =$

$10 + 3 =$

$10 + 6 =$

$10 + 9 =$

$10 + 4 =$

$10 + 10 =$

4) Προσπάθησε τώρα να λογαριάσεις και σκορπιστά:

$10 + 4 =$

$10 + 7 =$

$10 + 3 =$

$10 + 5 =$

$10 + 8 =$

$10 + 10 =$

$10 + 9 =$

$10 + 6 =$

$10 + 2 =$


5) Παρατήρησε και βρες πόσα είναι τα κουτάκια:

ΜΗΝ ΞΕΧΝΑΣΙ! Δεν χρειάζεται να τα μετράς όλα!


 = 10 κουτάκια




Είναι




Είναι



Είναι



Είναι



Είναι



Είναι



Είναι

Όνομα: _____