


Μαθαίνω την Προπαίδεια του 9 (ΜΥΣΕΙΣ)

1. Ανέβα 9 – 9 και συμπλήρωσε την αριθμογραμμή :



2. Γράψε την Προπαίδεια του 9 :

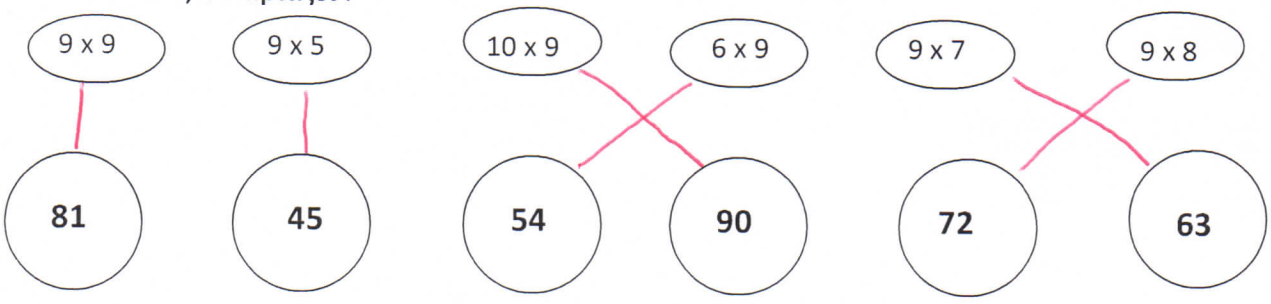
- 1 x 9 = 9
- 2 x 9 = 18
- 3 x 9 = 27
- 4 x 9 = 36
- 5 x 9 = 45
- 6 x 9 = 54
- 7 x 9 = 63
- 8 x 9 = 72
- 9 x 9 = 81
- 10 x 9 = 90
- 11 x 9 = 99



3. Βρες το αποτέλεσμα :

- | | |
|-------------|-------------|
| 3 x 9 = 27 | 9 x 2 = 18 |
| 5 x 9 = 45 | 9 x 10 = 90 |
| 9 x 1 = 9 | 4 x 9 = 36 |
| 8 x 9 = 72 | 6 x 9 = 54 |
| 11 x 9 = 99 | 9 x 7 = 63 |
| 9 x 0 = 0 | 9 x 9 = 81 |

4. Ένωσε ό,τι ταιριάζει :



5. Βρες ποιος αριθμός είναι :

(πες φωναχτά την προπαίδεια και θα βρεις τον αριθμό)

$$81 = \dots 9 \dots \times 9$$

$$18 = 9 \times \dots 2 \dots$$

$$99 = 9 \times \dots 11 \dots$$

$$9 = 9 \times \dots 1 \dots$$

$$0 = 9 \times \dots 0 \dots$$

$$36 = \dots 4 \dots \times 9$$

$$45 = \dots 5 \dots \times 9$$

$$54 = 9 \times \dots 6 \dots$$

$$27 = \dots 3 \dots \times 9$$

$$63 = \dots 7 \dots \times 9$$

$$72 = 9 \times \dots 8 \dots$$

$$90 = \dots 10 \dots \times 9$$


6. Ένα παντελόνι κοστίζει 9 ευρώ. Πόσο κοστίζουν 10 παντελόνια ;

Τι πράξη θα κάνω ; Πολλαπλασιασμό

Υπολογίζω

$$10 \times 9 = 90$$

Απάντηση: Τα 10 παντελόνια κοστίζουν 90€



7. Η Μελίνα διαβάζει 9 σελίδες την ημέρα. Πόσες σελίδες διαβάζει σε 8 ημέρες ;

Υπολογίζω

$$8 \times 9 = 72$$

Απάντηση: Σε 8 ημέρες διαβάζει 72 σελ.

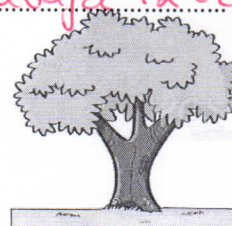


8. Σε ένα δέντρο ξεκουράζονται 9 πουλιά. Πόσα πουλιά ξεκουράζονται σε 7 δέντρα ;

Υπολογίζω

$$7 \times 9 = 63$$

Απάντηση: Σε 7 δέντρα ξεκουράζονται 63 πουλιά.



9. Ζωγράφισε τη ζωγραφιά :

