

Όνομα: _____



7 πουλάκια ήταν πάνω στο δέντρο. Έφυγαν τα 3. Πόσα έμειναν?

$$\underline{7} - \underline{3} = \underline{\quad}$$



6 σκυλάκια. Έφυγαν τα 3. Πόσα έμειναν;

$$\underline{\quad} - \underline{\quad} = \underline{\quad}$$




9 ψαράκια. Κολύπησαν τα 2. Πόσα έμειναν;

$$\underline{\quad} - \underline{\quad} = \underline{\quad}$$




8 κουνούπια. Έφαγε ο βάτραχος το 1. Πόσα έμειναν;

$$\underline{\quad} - \underline{\quad} = \underline{\quad}$$



5 πουλάκια στη φωλιά. Πέταξαν τα 2. Πόσα έμειναν;

$$\underline{\quad} - \underline{\quad} = \underline{\quad}$$



7 κουνελάκια. Έφυγαν τα 5. Πόσα έμειναν;

$$\underline{\quad} - \underline{\quad} = \underline{\quad}$$

Μάθημα 28

Λύνω προβλήματα

1) Η μηλιά μας έκανε 8 μήλα, αλλά η μαμά έκοψε τα 3 για να τα φάνε τα παιδιά. Πόσα μήλα **έμειναν** στη μηλιά;

Λογαριάζω:


Απαντώ: Στη μηλιά έμειναν μήλα.



2) Η Κατερίνα είχε στην κασετίνα της 4 μολύβια αλλά στο σχολείο σήμερα έχασε το 1. Πόσα μολύβια της **έμειναν**;

Λογαριάζω:


Απαντώ: Της έμειναν μολύβια.



3) Σε μια αποθήκη ζούσαν 9 ποντικάκια αλλά η γάτα έφαγε τα 5. Πόσα ποντικάκια **έμειναν**;

Λογαριάζω:

Απαντώ: Έμειναν ποντικάκια.



4) Στη γιορτή της μητέρας η Ελένη έκανε δώρο στη μαμά της μια ανθοδέσμη που είχε 10 τριαντάφυλλα, αλλά μετά από δυο ημέρες μαράθηκαν τα 4. Πόσα τριαντάφυλλα **έμειναν**;

Λογαριάζω:

Απαντώ: Της έμειναν τριαντάφυλλα.



Όνομα: _____