



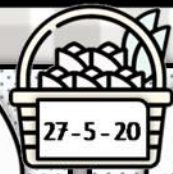
Όνομα: _____



Κλίνω το ρήμα **καμαρώνω**

Κλίνω το ρήμα **φροντίζω**

Παρατηρώ τις εικόνες και συμπληρώνω τις λέξεις.




χ_ρά

λ_π_

ευτ_χ_α

θ_μ_ς




μ_ν_ξ_ά

π_ν_ς

_κπλ_ξ_

φ_θ_ς




ντρ_π_

ζ_λ_α

_ν_χ_

_ρ_μ_α

Λύνω με προσοχή τις αφαιρέσεις.



Όνομα _____

$$\begin{array}{r} 76 \\ - \quad 5 \\ \hline \end{array}$$

$$\begin{array}{r} 39 \\ - \quad 4 \\ \hline \end{array}$$

$$\begin{array}{r} 48 \\ - \quad 3 \\ \hline \end{array}$$

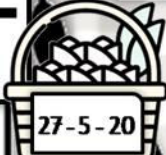
Αφαίρεση
διψήφων
αριθμών χωρίς
δανεικό



$$\begin{array}{r} 97 \\ - \quad 2 \\ \hline \end{array}$$

$$\begin{array}{r} 89 \\ - \quad 4 \\ \hline \end{array}$$

$$\begin{array}{r} 64 \\ - \quad 2 \\ \hline \end{array}$$



$$\begin{array}{r} 79 \\ - \quad 3 \\ \hline \end{array}$$

$$\begin{array}{r} 95 \\ - \quad 4 \\ \hline \end{array}$$

$$\begin{array}{r} 69 \\ - \quad 6 \\ \hline \end{array}$$



$$\begin{array}{r} 39 \\ - \quad 4 \\ \hline \end{array}$$

$$\begin{array}{r} 68 \\ - \quad 6 \\ \hline \end{array}$$

$$\begin{array}{r} 49 \\ - \quad 7 \\ \hline \end{array}$$