


ΟΝΟΜΑ: _____

ΜΑΘΗΜΑΤΙΚΑ 1^η ΕΝΟΤΗΤΑ
Κεφ. 7: Βρίσκω το μισό και το ολόκληρο 2

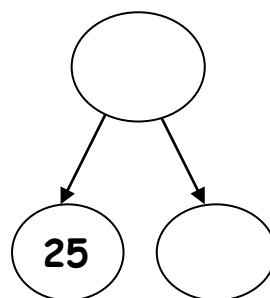
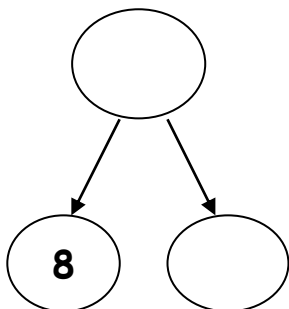
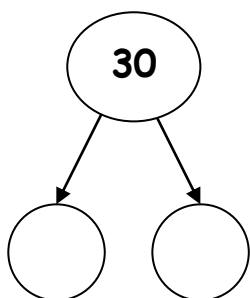
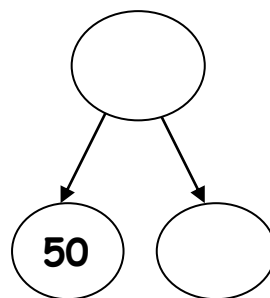
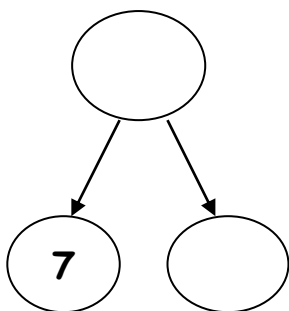
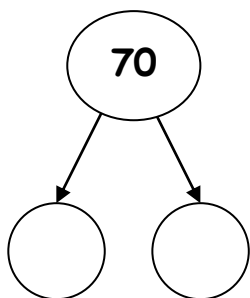
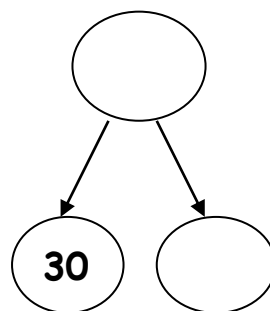
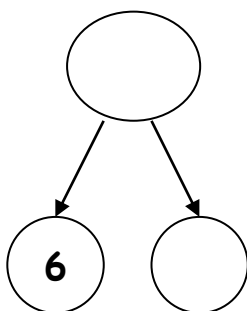
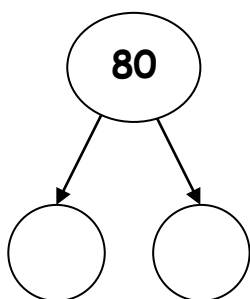
1. Παρατηρώ την εικόνα και συμπληρώνω.



Όλο είναι ____ εκ.

Το μισό είναι ____ εκ.

2. Βρίσκω το μισό και το ολόκληρο των παρακάτω αριθμών.



3. Γράφω όπως το παράδειγμα.

20 → 2 δεκάδες
→ 10 + 10

Το μισό είναι 10 ή 1 δεκάδα.

40 → _____
→ _____

Το μισό είναι ____ ή ____ δεκάδες.

60 → _____
→ _____

Το μισό είναι ____ ή ____ δεκάδες.

100 → _____
→ _____

Το μισό είναι ____ ή ____ δεκάδες.

4. Η Λίτσα η πασχαλίτσα έχει 16 βούλες στα δυο φτερά της. Πόσες βούλες έχει στο κάθε φτερό;

Ζωγραφίζω

