

ΓΕΩΛΟΓΙΑ – ΓΕΩΓΡΑΦΙΑ Β ΓΥΜΝΑΣΙΟΥ

ΕΡΩΤΗΣΕΙΣ - ΠΡΟΒΛΗΜΑΤΙΣΜΟΙ





ΓΕΩΛΟΓΙΑ - ΓΕΩΓΡΑΦΙΑ Β ΓΥΜΝΑΣΙΟΥ



1. Το σχολείο μας βρίσκεται στη γωνία των οδών Μιχαλακοπούλου και Αριστάρχου. Βόρεια από το σχολείο βρίσκεται ο ναός του Αγ. Γεωργίου. Νότια από το σχολείο βρίσκεται ένα βενζινάδικο της Εκο. Ανατολικά από το σχολείο βρίσκεται ένα κατάστημα με λουλούδια. Απέναντι από το σχολείο βρίσκεται ένα κατάστημα με ψιλικά.

A. Χρησιμοποιώντας το παραπάνω κείμενο γράψτε μια πρόταση:

α. που να δηλώνει τη σχετική θέση του σχολείου.

β. που να δηλώνει την απόλυτη θέση του σχολείου.

B. Αν θέλουμε να συναντήσουμε ένα φίλο μας στην είσοδο του σχολείου, θα χρησιμοποιήσουμε τη σχετική ή την απόλυτη θέση;

Γ. Αν θέλουμε να πάρουμε πληροφορίες για το χώρο γύρω από το σχολείο, θα χρησιμοποιήσουμε τη σχετική ή την απόλυτη θέση;

2. α. Για τις καλοκαιρινές διακοπές με την οικογένεια μας θέλουμε να ενοικιάσουμε ένα σπίτι για 20 ημέρες.

Χρήσιμο είναι να γνωρίζουμε τη σχετική ή την απόλυτη θέση του σπιτιού;

β. Ποιες πληροφορίες θέλουμε να πάρουμε για τη θέση του σπιτιού, ώστε οι διακοπές μας να γίνουν όσο το δυνατό πιο άνετες και ευχάριστες;

3. Ερωτήσεις Σωστού-Λάθους.

α. Η Ευρώπη βρίσκεται δυτικά της Ασίας ()

β. Η Ευρώπη βρίσκεται νότια της Αφρικής ()

γ. Η Ευρώπη βρίσκεται ανατολικά της Αμερικής ()

δ. Η Ευρώπη βρίσκεται στο νότιο ημισφαίριο ()

ε. Ένα τμήμα της Ευρώπης βρίσκεται στο δυτικό ημισφαίριο ()

στ. Το κλίμα της Ευρώπης είναι κυρίως εύκρατο ()

ζ. Η Ευρώπη είναι από τις μεγαλύτερες ηπείρους ()



ΓΕΩΛΟΓΙΑ - ΓΕΩΓΡΑΦΙΑ Β ΓΥΜΝΑΣΙΟΥ



4. Συμπληρώστε τα κενά στις παρακάτω προτάσεις.

α. Τα φυσικά όρια της Ευρώπης με την Ασία είναι τα όρη.

β. Η Ευρώπη βρίσκεται βόρεια της .

γ. Η Ευρώπη βρίσκεται δυτικά της .

δ. Η Ευρώπη βρέχεται στα δυτικά από τον ωκεανό.

ε. Το κλίμα της Ευρώπης είναι .

στ. Η Ευρώπη βρέχεται στα βόρεια από τον ωκεανό.

5. Να συμπληρώσετε τα κελιά του παρακάτω πίνακα με γεωγραφικά στοιχεία της Ευρώπης.

Οροσειρά	Ποταμός	Θάλασσα	Νησί	Χερσόνησος

6. Αντιστοιχίστε τα στοιχεία της στήλης I με τα στοιχεία της στήλης II.

I

II

1. Βόλγας
2. Ιρλανδία
3. Καύκασος
4. Πυρηναία
5. Σαρδηνία
6. Ρήνος

- α. οροσειρά
- β. ποταμός
- γ. νησί

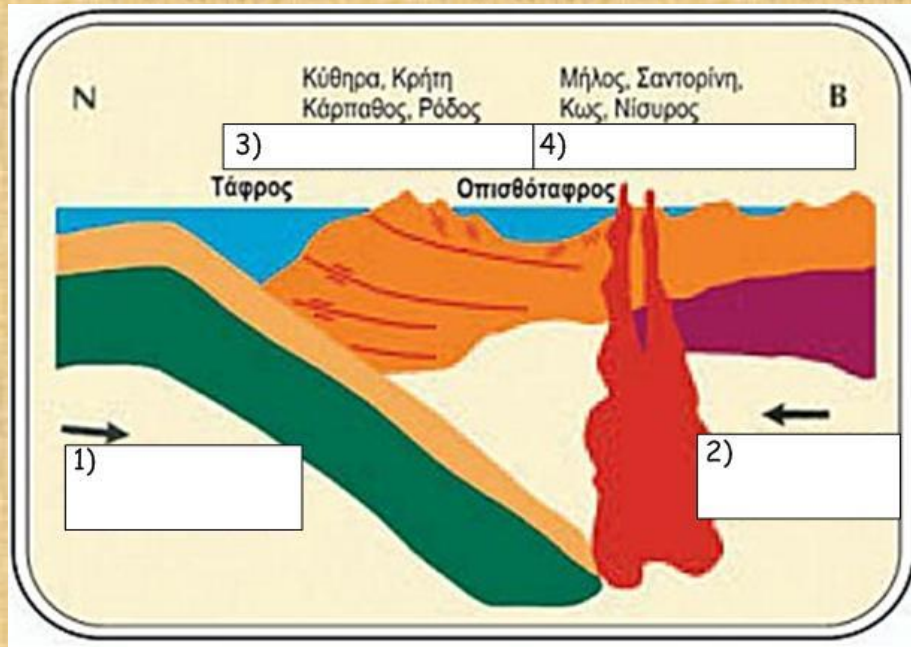
1	2	3	4	5	6



ΓΕΩΛΟΓΙΑ - ΓΕΩΓΡΑΦΙΑ Β ΓΥΜΝΑΣΙΟΥ



7. Στο χάρτη του σχήματος βλέπουμε τη σύγκρουση δύο λιθοσφαιρικών πλακών στην περιοχή του Αιγαίου πελάγους.
Συμπληρώστε τα κελιά.



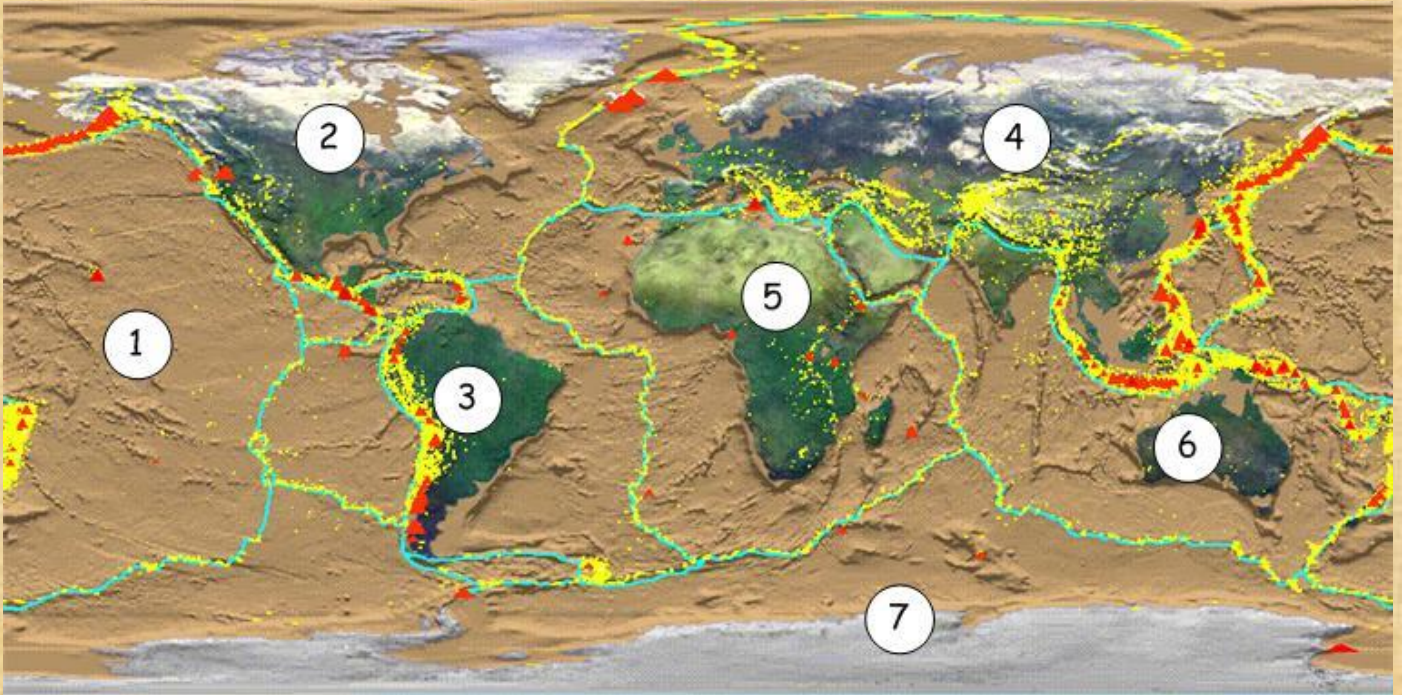
1		2	
3		4	



ΓΕΩΛΟΓΙΑ - ΓΕΩΓΡΑΦΙΑ Β ΓΥΜΝΑΣΙΟΥ



8. Γράψτε τα ονόματα των λιθοσφαιρικών πλακών που φαίνονται στο χάρτη της παρακάτω εικόνας.



1.	5.
2.	6.
3.	7.
4.	

9. α. Ποιο ήταν το αποτέλεσμα της απομάκρυνσης, πριν από εκατομμύρια χρόνια, της Βορειοαμερικανικής πλάκας από την Ευρασιατική;

β. Ποιο θα είναι το αποτέλεσμα, μετά από εκατομμύρια χρόνια, της σύγκρουσης της Αφρικανικής πλάκας με την Ευρασιατική;

γ. Γιατί η Ρωσία δεν έχει βουνά;



10. Να συμπληρώσετε τα κελιά του παρακάτω πίνακα.

Γεωτεκτονική ενότητα	Πτύχωση ή ορογένεση
Παλαιοευρώπη	
	Ερκύνια
Νεοευρώπη	
Αρχαιοευρώπη	

11. Να κάνετε αντιστοίχιση.

Οργανισμοί	Γεωλογικός αιώνας
1. μονοκύτταροι οργανισμοί	α. καινοζωικός
2. θηλαστικά	β. προτεροζωικός
3. δεινόσαυροι	γ. παλαιοζωικός
	δ. μεσοζωικός

1	2	3

12. α. Αναφέρετε 3 χώρες που εμφανίζουν έντονη σεισμική δραστηριότητα.

β. Αναφέρετε 3 χώρες που εμφανίζουν έντονη ηφαιστειακή δραστηριότητα.

γ. Γιατί οι χώρες των ερωτημάτων (α) και (β) εμφανίζουν έντονη σεισμική και ηφαιστειακή δραστηριότητα;



ΓΕΩΛΟΓΙΑ - ΓΕΩΓΡΑΦΙΑ Β ΓΥΜΝΑΣΙΟΥ



13. Α. Γράψτε τα ονόματα των θαλασσών της Ευρώπης που είναι σημειωμένες στον παρακάτω χάρτη.



1.	5.
2.	6.
3.	7.
4.	

Β.

α. Μία βαθιά θάλασσα από τις παραπάνω είναι η

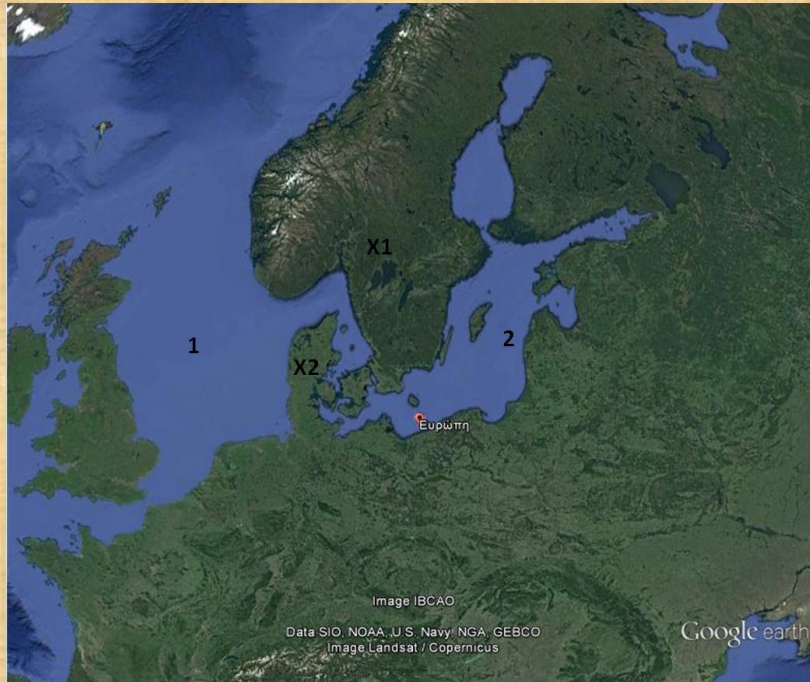
β. Μία αβαθής θάλασσα από τις παραπάνω είναι η



ΓΕΩΛΟΓΙΑ - ΓΕΩΓΡΑΦΙΑ Β ΓΥΜΝΑΣΙΟΥ



14.



Η θάλασσα 1 είναι η θάλασσα.

Η θάλασσα 2 είναι η θάλασσα.

Η χερσόνησος X1 είναι η

Η χερσόνησος X2 είναι η

Ονομάστε 4 χώρες που βρέχονται από τη θάλασσα 1.

α.	β.
γ.	δ.

Ονομάστε 4 χώρες που βρέχονται από τη θάλασσα 2.

α.	β.
γ.	δ.

Μεγαλύτερη αλατότητα έχει η θάλασσα

Το χειμώνα παγώνει συνήθως η θάλασσα



ΓΕΩΛΟΓΙΑ - ΓΕΩΓΡΑΦΙΑ Β ΓΥΜΝΑΣΙΟΥ



15. Τρία πλοία ξεκινούν το ταξίδι τους από τον Πειραιά.
Το πρώτο πλοίο (1) κατευθύνεται προς τον Ινδικό ωκεανό.
Το δεύτερο πλοίο (2) κατευθύνεται προς τη Μαύρη θάλασσα.
Το τρίτο πλοίο (3) κατευθύνεται προς τον Ατλαντικό ωκεανό.
Τα τρία πλοία θα περάσουν μέσα από τρία στενά περάσματα (φυσικά ή τεχνητά).

A.

Το πέραςμα (1) λέγεται

Το πέραςμα (2) λέγεται

Το πέραςμα (3) λέγεται

B. Ποια από τα παραπάνω τρία περάσματα είναι φυσικά και ποια τεχνητά;

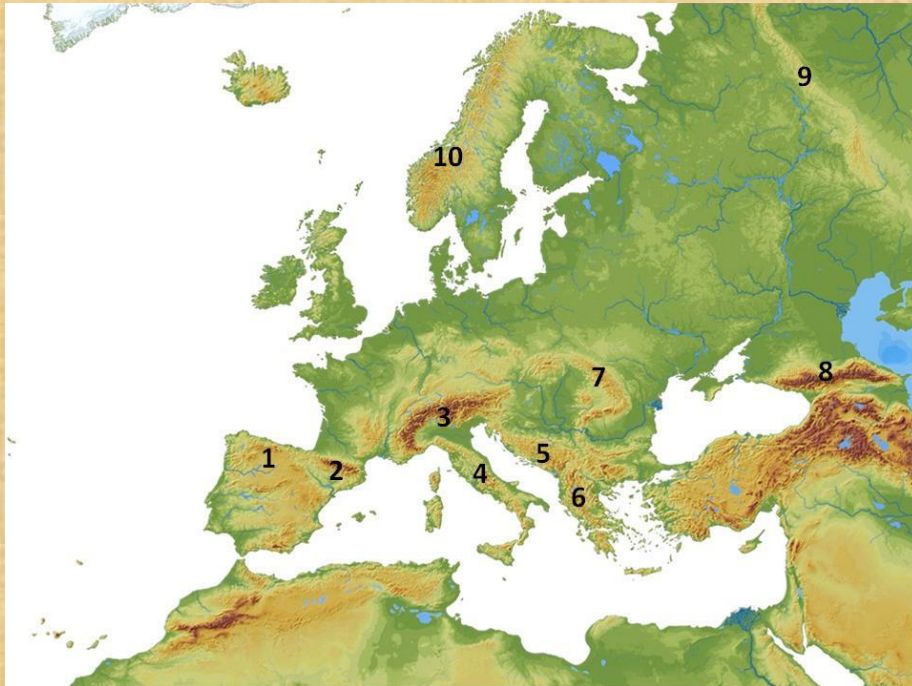
Γ. Ποιο από τα τρία πλοία θα περάσει πιο κοντά από το μεγαλύτερο νησί της Μεσογείου;



ΓΕΩΛΟΓΙΑ - ΓΕΩΓΡΑΦΙΑ Β ΓΥΜΝΑΣΙΟΥ



16. Α. Γράψτε τα ονόματα των βουνών της Ευρώπης που είναι σημειωμένα στον παρακάτω χάρτη.



1.	6.
2.	7.
3.	8.
4.	9.
5.	10.

Β. Γιατί τα περισσότερα βουνά της Ευρώπης βρίσκονται στο νότιο τμήμα της;



ΓΕΩΛΟΓΙΑ - ΓΕΩΓΡΑΦΙΑ Β ΓΥΜΝΑΣΙΟΥ



17. Α. Γράψτε τα ονόματα των ποταμών της Ευρώπης που είναι σημειωμένα στον παρακάτω χάρτη.



1.	8.
2.	9.
3.	10.
4.	11.
5.	12.
6.	13.
7.	14.

Β.

α. Οι πηγές του ποταμού 1 βρίσκονται στα		και οι εκβολές του στην	
β. Οι πηγές του ποταμού 13 βρίσκονται στις		και οι εκβολές του στην	
γ. Οι πηγές του ποταμού 9 βρίσκονται στα		και οι εκβολές του στην	

Γ. Ο ποταμός που διαρρέει τις περισσότερες χώρες της Ευρώπης είναι ο

Δ. Γιατί τα περισσότερα και μεγαλύτερα ποτάμια βρίσκονται στη Ρωσία;



ΓΕΩΛΟΓΙΑ - ΓΕΩΓΡΑΦΙΑ Β ΓΥΜΝΑΣΙΟΥ



18. Αντιστοιχίστε τις χώρες της στήλης I με το κλίμα της στήλης II που επικρατεί σε αυτές και τη βλάστηση της στήλης III.

I	II	III
1. Αγγλία	α. πολικό	i. μεσογειακή
2. Ιταλία	β. βόρειο ηπειρωτικό	ii. στέπα
3. Σουηδία	γ. μεσογειακό	iii. τσίγκα
4. Ισλανδία	δ. ωκεάνιο	iv. τούντρα
5. Νότια Ρωσία	ε. νότιο ηπειρωτικό	v. φυλλοβόλα- μικτά δάση

1		
2		
3		
4		
5		



ΓΕΩΛΟΓΙΑ - ΓΕΩΓΡΑΦΙΑ Β ΓΥΜΝΑΣΙΟΥ



19. Συμπληρώστε τον παρακάτω πίνακα με τις χώρες της Ευρώπης που είναι σημειωμένες στο χάρτη και τις πρωτεύουσές τους.



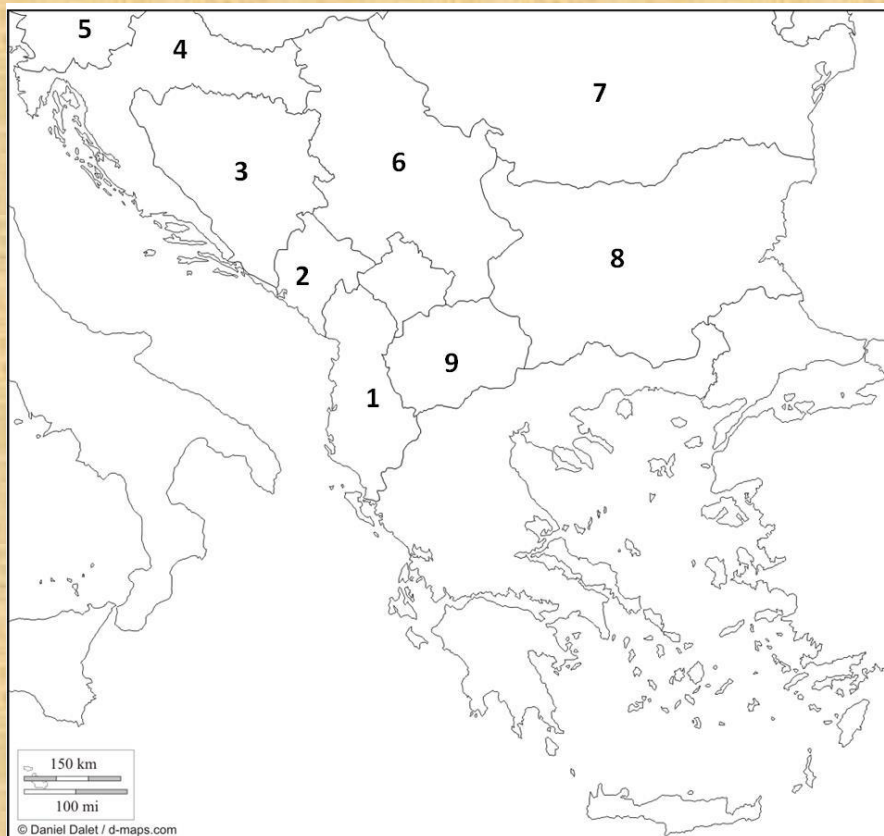
Χώρα	Πρωτεύουσα
1.	
2.	
3.	
4.	
5.	
6.	
7.	
8.	
9.	
10.	



ΓΕΩΛΟΓΙΑ - ΓΕΩΓΡΑΦΙΑ Β ΓΥΜΝΑΣΙΟΥ



20. Α. Συμπληρώστε τον παρακάτω πίνακα με τις χώρες των Βαλκανίων που είναι σημειωμένες στο χάρτη και τις πρωτεύουσες τους.



Χώρα	Πρωτεύουσα
1.	
2.	
3.	
4.	
5.	
6.	
7.	
8.	
9.	

Β. Με ποιες από τις παραπάνω χώρες συνορεύει η Ελλάδα;