

# ΦΥΛΛΟ ΕΡΓΑΣΙΑΣ 5: ΤΟ ΚΛΙΜΑ

Όνοματεπώνυμο

**A ΟΜΑΔΑ**

1. Γράψτε τον κλιματικό τύπο για κάθε περιοχή που είναι σημειωμένη στο χάρτη της παρακάτω εικόνας.



1..... 2..... 3.....  
4..... 5..... 6.....

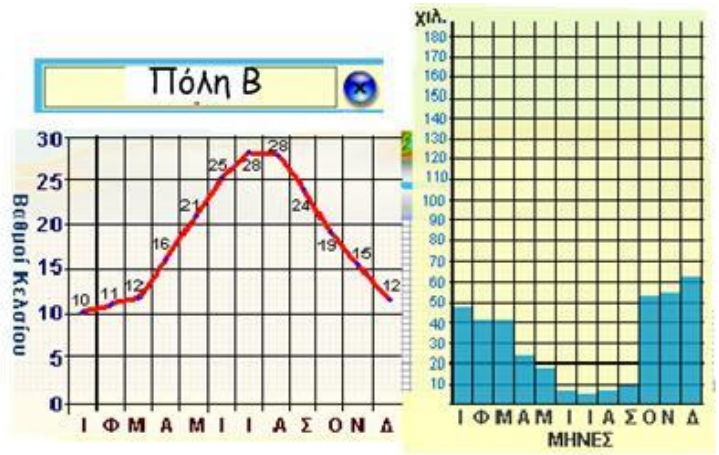
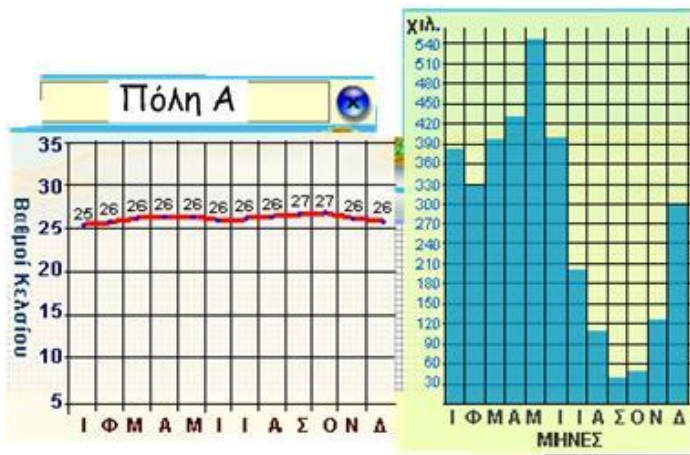
2. Ποια είναι τα χαρακτηριστικά του ερημικού κλίματος;

.....  
.....

3. Κοντά σε ποια περιοχή από αυτές που είναι σημειωμένες στο χάρτη είναι το ρεύμα του κόλπου;

.....

4. Στην παρακάτω εικόνα φαίνονται τα κλιματογράμματα δυο πόλεων.



α. Σε ποιο κλιματικό τύπο ανήκει η κάθε πόλη;

Πόλη Α ..... Πόλη Β .....

β. Αιτιολογήστε την απάντησή σας.

.....

.....

.....

.....

# ΦΥΛΛΟ ΕΡΓΑΣΙΑΣ 5: ΤΟ ΚΛΙΜΑ

Όνοματεπώνυμο

**Β ΟΜΑΔΑ**

1. Γράψτε τον κλιματικό τύπο για κάθε περιοχή που είναι σημειωμένη στο χάρτη της παρακάτω εικόνας.



1..... 2..... 3.....  
4..... 5..... 6.....

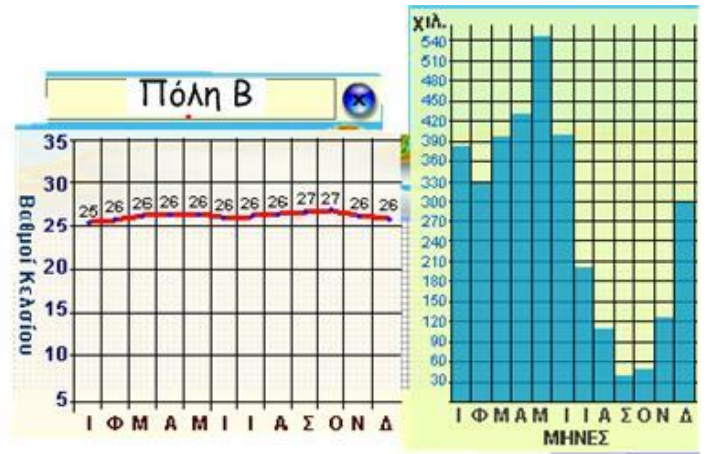
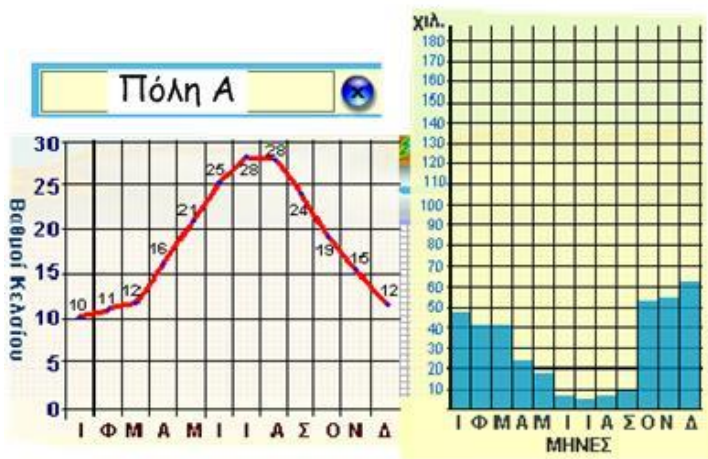
2. Ποια είναι τα χαρακτηριστικά του πολικού κλίματος;

.....  
.....

3. Κοντά σε ποια περιοχή από αυτές που είναι σημειωμένες στο χάρτη πνέουν οι μουσώνες;

.....

4. Στην παρακάτω εικόνα φαίνονται τα κλιματογράμματα δυο πόλεων.



α. Σε ποιο κλιματικό τύπο ανήκει η κάθε πόλη;  
 Πόλη Α ..... Πόλη Β .....

β. Αιτιολογήστε την απάντησή σας.

.....

.....

.....

.....