

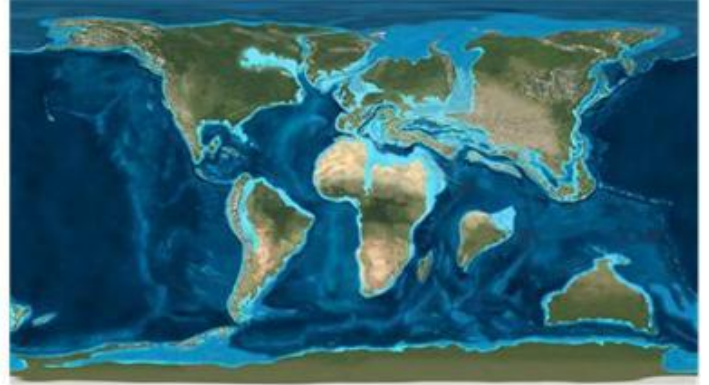
ΦΥΛΛΟ ΕΡΓΑΣΙΑΣ 4: ΓΕΩΛΟΓΙΚΗ ΙΣΤΟΡΙΑ ΤΗΣ ΓΗΣ

Όνοματεπώνυμο

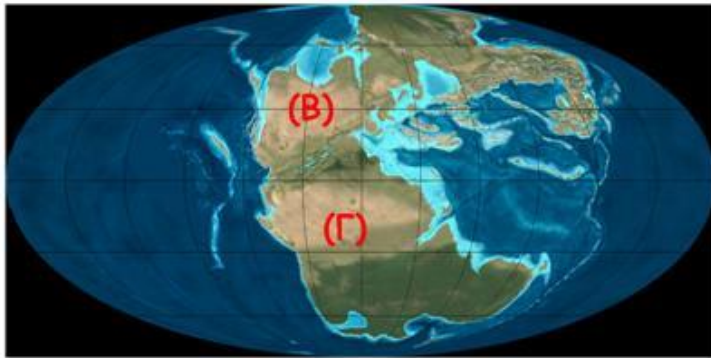
1. Βάλτε σε σωστή σειρά τις παρακάτω εικόνες.



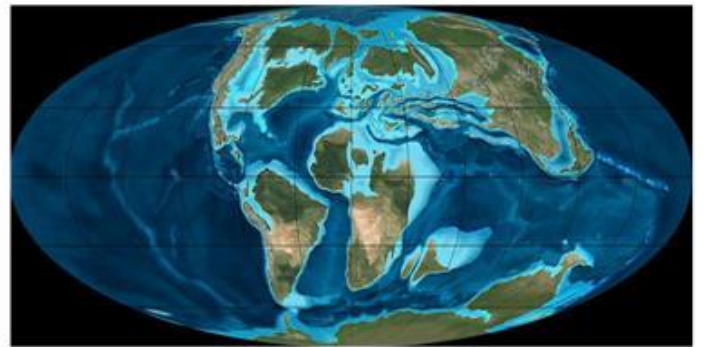
(1)



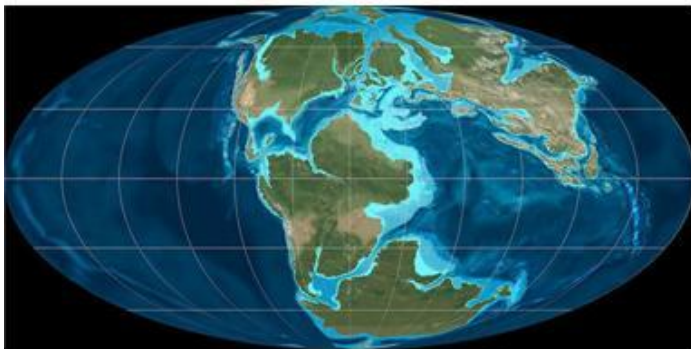
(2)



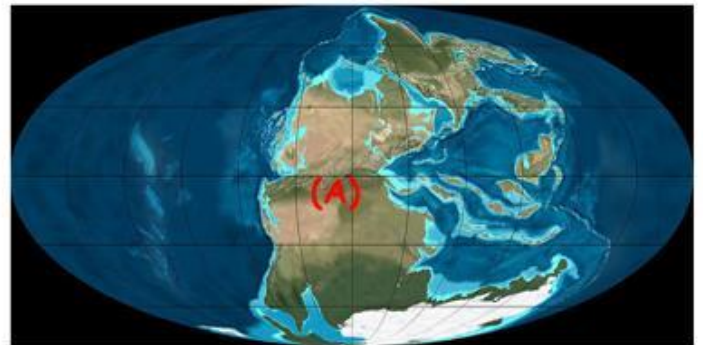
(3)



(4)



(5)



(6)

2. Ονομάστε τις ηπείρους που είναι σημειωμένες στις παραπάνω εικόνες.

A..... B..... Γ.....