



**ΦΥΛΛΟ ΕΡΓΑΣΙΑΣ Β Κ.2.6**

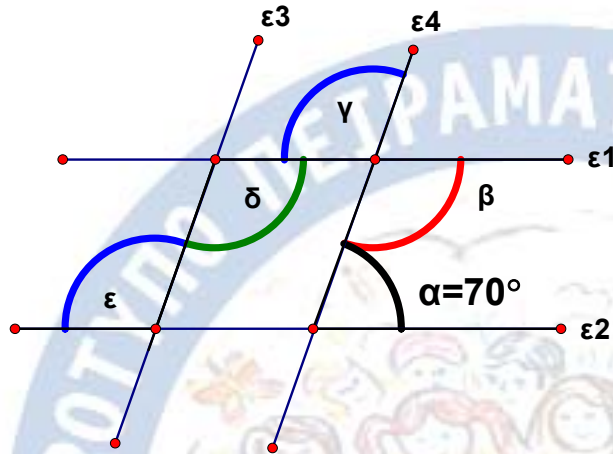
**ΕΝΟΤΗΤΑ : Παράλληλες ευθείες που τέμνονται από άλλη ευθεία**



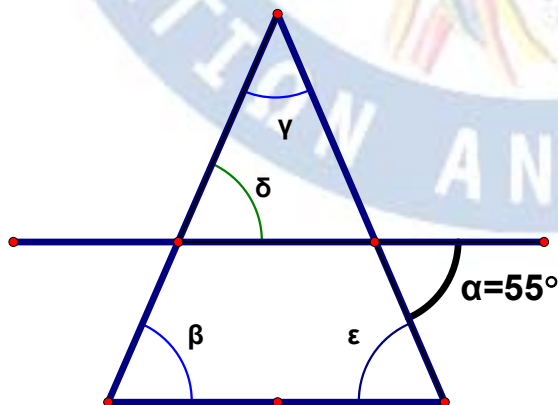
Τάξη : Α Γυμνασίου.  
Όνομα Μαθητή : .....

Καθ. Χρήστος Μουρατίδης  
Ημ/μία : .....

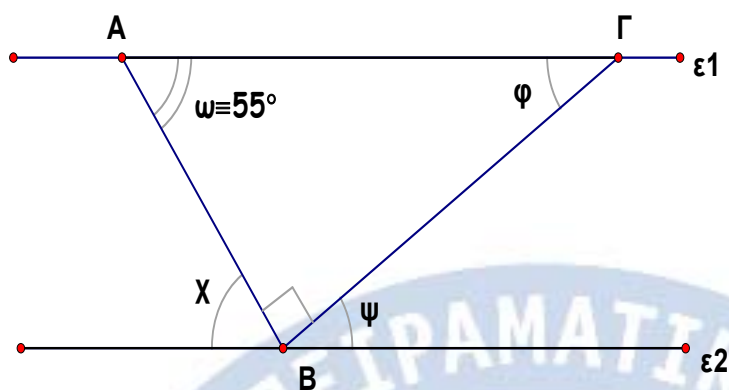
1. Στο παρακάτω σχήμα να υπολογίσετε τις άγνωστες γωνίες, αν  $\epsilon_1//\epsilon_2$  και  $\epsilon_3//\epsilon_4$  :



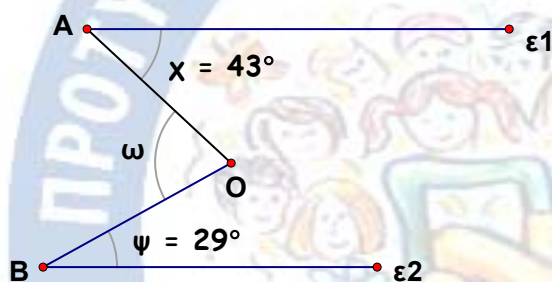
2. Να υπολογίσετε τις γωνίες στα παρακάτω σχήματα :



3. Να υπολογίσετε τις γωνίες, αν  $\epsilon_1 // \epsilon_2$ .



4. Ομοίως στο σχήμα, όταν  $\epsilon_1 // \epsilon_2$  :



5. Ομοίως στο σχήμα, όταν  $\epsilon_1 // \epsilon_2$  :

