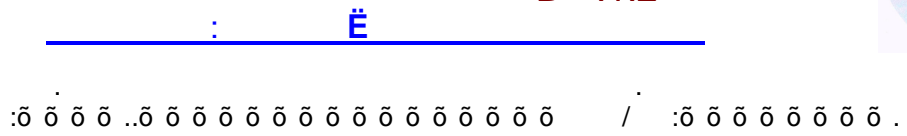




B .1.2



:A

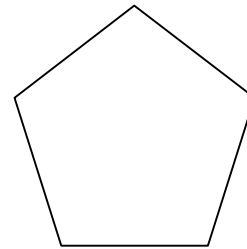
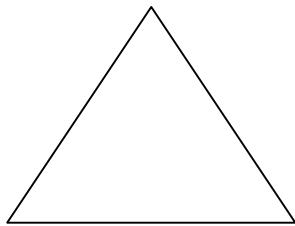


1. Με κορυφές τα σημεία A και B να σχεδιάσετε μια κυρτή και μια μη κυρτή γωνία, αντίστοιχα :

A

B

2. Να ονομάσετε τις γωνίες των δύο σχημάτων με δύο τρόπους :



3. Να ονομάσετε τις γωνίες που έχουν κορυφή το σημείο A, στη συνέχεια το B και έπειτα το M.

