

















Θυμάμαι ό,τι έμαθα στη Γ τάξη

Οι αριθμοί

Παιχνίδι με κάρτες

Γράψε με ψηφία τον αριθμό 2 χιλιάδες 5 εκατοντάδες 3 δεκάδες 1 μονάδα 	Γράψε με λέξεις τον αριθμό 2547 	Ποια είναι η αξία του υπογραμμισμένου αριθμού; 368 <u>9</u> 	Στρογγυλοποίησε τον αριθμό στην πιο κοντινή δεκάδα 2691 
Ποια είναι η αξία του υπογραμμισμένου αριθμού; 547 <u>8</u> 	Γράψε με ψηφία τον αριθμό 5 χιλιάδες 3 εκατοντάδες 2 δεκάδες 7 μονάδες 	Γράψε με λέξεις τον αριθμό 3501 	Στρογγυλοποίησε τον αριθμό στην πιο κοντινή εκατοντάδα 1581 

Γράψε με ψηφία τον αριθμό  6 εκατοντάδες 3 δεκάδες 4 μονάδες	Γράψε με λέξεις τον αριθμό  348	Ποια είναι η αξία του υπογραμμισμένου αριθμού;  9 <u>8</u> 5	Στρογγυλοποίησε τον αριθμό στην πιο κοντινή δεκάδα  256
Ποια είναι η αξία του υπογραμμισμένου αριθμού;  4 <u>5</u> 0	Γράψε με ψηφία τον αριθμό  1 εκατοντάδα 2 δεκάδες 5 μονάδες	Γράψε με λέξεις τον αριθμό  350	Στρογγυλοποίησε τον αριθμό στην πιο κοντινή εκατοντάδα  98

Γράψε με ψηφία
τον αριθμό



9 εκατοντάδες
0 δεκάδες
2 μονάδες

Γράψε με λέξεις
τον αριθμό



477

Ποια είναι η αξία
του υπογραμμισμένου
αριθμού;



974
—

Στρογγυλοποίησε
τον αριθμό
στην πιο κοντινή δεκάδα



121

Ποια είναι η αξία
του υπογραμμισμένου
αριθμού;



850
—

Γράψε με ψηφία
τον αριθμό



2 εκατοντάδες
3 δεκάδες
6 μονάδες

Γράψε με λέξεις
τον αριθμό



509

Στρογγυλοποίησε
τον αριθμό
στην πιο κοντινή
εκατοντάδα



371

Γράψε με ψηφία
τον αριθμό



6 εκατοντάδες
3 δεκάδες
5 μονάδες

Γράψε με λέξεις
τον αριθμό



235

Ποια είναι η αξία
του υπογραμμισμένου
αριθμού;



297
—

Στρογγυλοποίησε
τον αριθμό
στην πιο κοντινή δεκάδα



978

Ποια είναι η αξία
του υπογραμμισμένου
αριθμού;



154
—

Γράψε με ψηφία
τον αριθμό



1 εκατοντάδα
3 δεκάδες
7 μονάδες

Γράψε με λέξεις
τον αριθμό



722

Στρογγυλοποίησε
τον αριθμό
στην πιο κοντινή
εκατοντάδα



612

Γράψε με ψηφία
τον αριθμό



3 εκατοντάδες
8 δεκάδες
2 μονάδες

Γράψε με λέξεις
τον αριθμό



562

Ποια είναι η αξία
του υπογραμμισμένου
αριθμού;



746

Στρογγυλοποίησε
τον αριθμό
στην πιο κοντινή δεκάδα



589

Ποια είναι η αξία
του υπογραμμισμένου
αριθμού;



784

Γράψε με ψηφία
τον αριθμό



6 εκατοντάδες
3 δεκάδες
2 μονάδες

Γράψε με λέξεις
τον αριθμό



682

Στρογγυλοποίησε
τον αριθμό
στην πιο κοντινή
εκατοντάδα



149

Γράψε με ψηφία
τον αριθμό



6 εκατοντάδες
3 δεκάδες
4 μονάδες

Γράψε με λέξεις
τον αριθμό



348

Ποια είναι η αξία
του υπογραμμισμένου
αριθμού;



985
—

Στρογγυλοποίησε
τον αριθμό
στην πιο κοντινή δεκάδα



256

Ποια είναι η αξία
του υπογραμμισμένου
αριθμού;



450
—

Γράψε με ψηφία
τον αριθμό



1 εκατοντάδα
2 δεκάδες
5 μονάδες

Γράψε με λέξεις
τον αριθμό



350

Στρογγυλοποίησε
τον αριθμό
στην πιο κοντινή
εκατοντάδα



98

Γράψε με ψηφία
τον αριθμό

2 χιλιάδες
2 εκατοντάδες
0 δεκάδες
7 μονάδες



Γράψε με λέξεις
τον αριθμό

4125



Ποια είναι η αξία
του υπογραμμισμένου
αριθμού;

8521



Στρογγυλοποίησε
τον αριθμό
στην πιο κοντινή δεκάδα

6854



Ποια είναι η αξία
του υπογραμμισμένου
αριθμού;

3587



Γράψε με ψηφία
τον αριθμό

4 χιλιάδες
6 εκατοντάδες
8 δεκάδες
2 μονάδες



Γράψε με λέξεις
τον αριθμό

8745



Στρογγυλοποίησε
τον αριθμό
στην πιο κοντινή
εκατοντάδα

7871



Γράψε με ψηφία
τον αριθμό

7 χιλιάδες
6 εκατοντάδες
1 δεκάδα
7 μονάδες



Γράψε με λέξεις
τον αριθμό

2850



Ποια είναι η αξία
του υπογραμμισμένου
αριθμού;

2854
—



Στρογγυλοποίησε
τον αριθμό
στην πιο κοντινή δεκάδα

7893



Ποια είναι η αξία
του υπογραμμισμένου
αριθμού;

2178
—



Γράψε με ψηφία
τον αριθμό

3 χιλιάδες
7 εκατοντάδες
5 δεκάδες
2 μονάδες



Γράψε με λέξεις
τον αριθμό

9684



Στρογγυλοποίησε
τον αριθμό
στην πιο κοντινή
εκατοντάδα

9821



Γράψε με ψηφία
τον αριθμό

3 χιλιάδες
4 εκατοντάδες
2 δεκάδες
5 μονάδες



Γράψε με λέξεις
τον αριθμό

3250



Ποια είναι η αξία
του υπογραμμισμένου
αριθμού;

5478
—



Στρογγυλοποίησε
τον αριθμό
στην πιο κοντινή δεκάδα

8529



Ποια είναι η αξία
του υπογραμμισμένου
αριθμού;

9584
—



Γράψε με ψηφία
τον αριθμό

9 χιλιάδες
4 εκατοντάδες
7 δεκάδες
3 μονάδες



Γράψε με λέξεις
τον αριθμό

4125



Στρογγυλοποίησε
τον αριθμό
στην πιο κοντινή
εκατοντάδα

3215



Γράψε με ψηφία
τον αριθμό

2 χιλιάδες
5 εκατοντάδες
3 δεκάδες
1 μονάδα



Γράψε με λέξεις
τον αριθμό

2547



Ποια είναι η αξία
του υπογραμμισμένου
αριθμού;

3689



Στρογγυλοποίησε
τον αριθμό
στην πιο κοντινή δεκάδα

2691



Ποια είναι η αξία
του υπογραμμισμένου
αριθμού;

5478



Γράψε με ψηφία
τον αριθμό

5 χιλιάδες
3 εκατοντάδες
2 δεκάδες
7 μονάδες



Γράψε με λέξεις
τον αριθμό

3501



Στρογγυλοποίησε
τον αριθμό
στην πιο κοντινή
εκατοντάδα

1581

