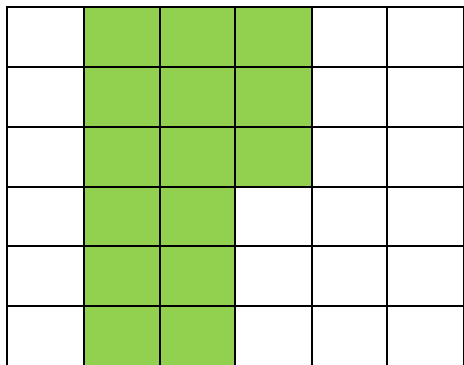
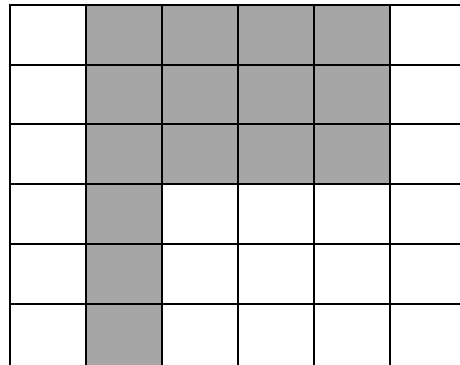


50ο κεφ. Μέτρηση επιφάνειας

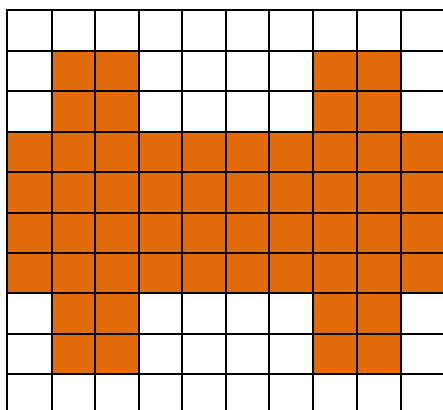
1. Βρες το εμβαδόν των χρωματιστών σχημάτων σε τετραγωνικά μέτρα (τ.μ.). Για να το βρεις δε χρειάζεται να χρησιμοποιήσεις χάρακα, αρκεί μόνο να μετρήσεις τα χρωματιστά τετράγωνα.




Το εμβαδόν είναι _____ τ.μ.



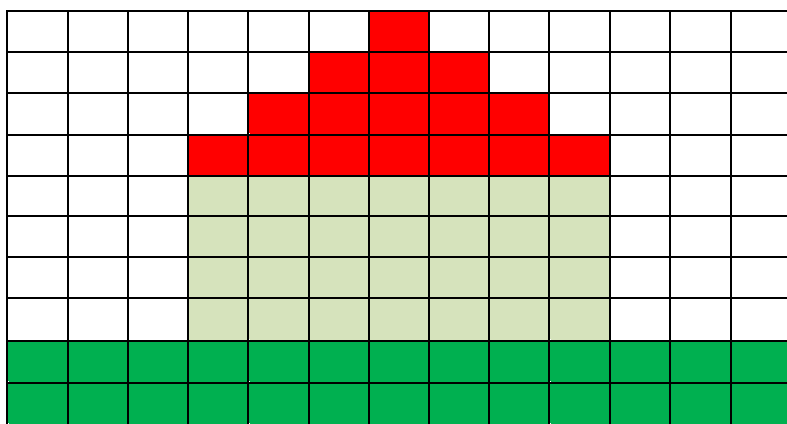
Το εμβαδόν είναι _____ τ.μ.



Το εμβαδόν είναι _____ τ.μ.

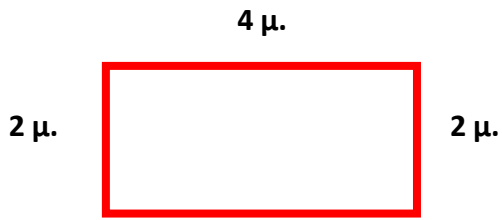


Το εμβαδόν είναι _____ τ.μ.

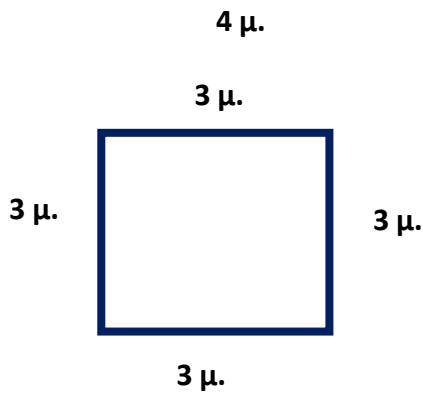


Το εμβαδόν είναι _____ τ.μ.

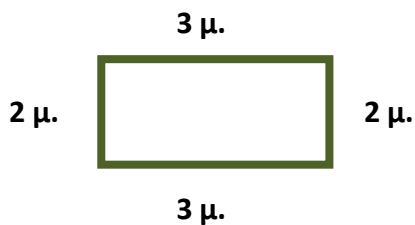
2. Βρες το εμβαδόν των παρακάτω σχημάτων.



Το εμβαδόν είναι ____ X ____ = ____ τ.μ.



Το εμβαδόν είναι ____ X ____ = ____ τ.μ.



Το εμβαδόν είναι ____ X ____ = ____ τ.μ.

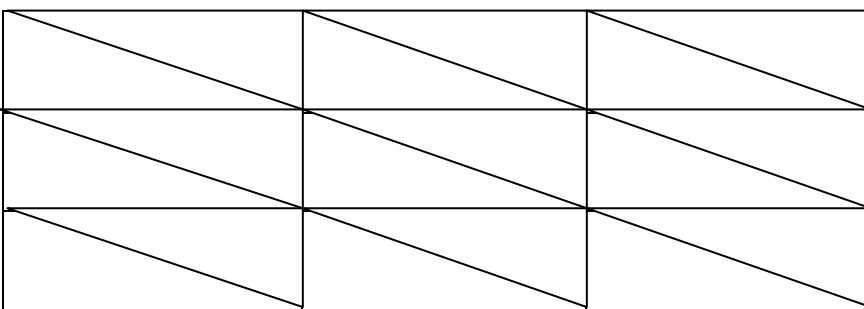
3. Η κ. Ευγενία θέλει να καλύψει το πάτωμα στο σαλόνι του σπιτιού της με μοκέτα. Το σαλόνι έχει εμβαδόν 24 τ.μ. Το κάθε κομμάτι της μοκέτας έχει εμβαδόν 8 τ.μ. Πόσα κομμάτια μοκέτα θα χρειαστεί;

Λύση



Απάντηση: _____

4. Πόσα πλακάκια χρειάζονται για να καλύψουμε την παρακάτω επιφάνεια;

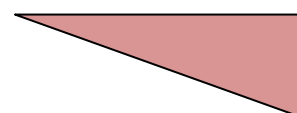


α. Αν το κάθε πλακάκι έχει σχήμα



χρειάζονται ____ πλακάκια.

β. Αν το κάθε πλακάκι έχει σχήμα



χρειάζονται ____ πλακάκια.

Όνομα: _____