



Μαθηματικά (Κεφ. 25 - Ισοδύναμα κλάσματα)

1. Τα παιδιά έχουν από μια ίδια σοκολάτα. Γράψε με κλάσμα το μέρος της σοκολάτας που έφαγε το κάθε παιδί.




Η Μαρία έφαγε το _____ της σοκολάτας.



Η Βάσω έφαγε τα _____ της σοκολάτας.




Ο Μίμης έφαγε το _____ της σοκολάτας.



Ο Θανάσης έφαγε τα _____ της σοκολάτας.






Η Κυριακή έφαγε τα _____ της σοκολάτας.



Η Ζωή έφαγε το _____ της σοκολάτας.

2. Γράψε ποια από τα παραπάνω κλάσματα έχουν την ίδια αξία βάζοντας ανάμεσά τους το σύμβολο της ισότητας (=).



3. Ποια από τα παρακάτω ζευγάρια είναι ισοδύναμα; Τσέκαρε το σωστό κουτάκι.

Σωστό

Λάθος

$$\frac{1}{3} = \frac{2}{3}$$

$$\frac{4}{6} = \frac{2}{3}$$

$$\frac{3}{4} = \frac{6}{8}$$

$$\frac{1}{4} = \frac{3}{5}$$

4. Η Θάλεια και ο Θωμάς παρήγγειλαν μια πίτσα. Η Θάλεια έφαγε τα $\frac{3}{6}$ της πίτσας και ο Θωμάς τα $\frac{6}{12}$. Ποιο παιδί έφαγε περισσότερη πίτσα;

Απάντηση : _____