

24. Οι κλασματικές μονάδες και οι απλοί κλασματικοί αριθμοί

Έτσι γράφουμε τα κλάσματα:

Πόσα ίσα μέρη παίρνουμε;

Διαβάζουμε:
Τρία τέταρτα

Πόσα ίσα μέρη χωρίζουμε;

1. Χρωμάτισε το μέρος του κύκλου που δείχνει το κάθε κλάσμα.



$$\frac{1}{2}$$



$$\frac{2}{3}$$



$$\frac{2}{4}$$



$$\frac{3}{5}$$



$$\frac{6}{6}$$



$$\frac{4}{7}$$




$$\frac{7}{8}$$




$$\frac{6}{9}$$


2. Γράψε το κλάσμα που δηλώνει το χρωματισμένο μέρος του κάθε σχήματος.




—



—




—




—




—




—




—



—




—



—



—



—

ΟΝΟΜΑ : _____