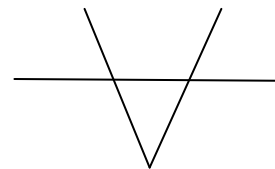
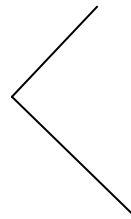


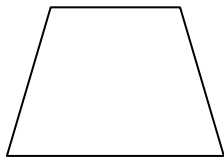
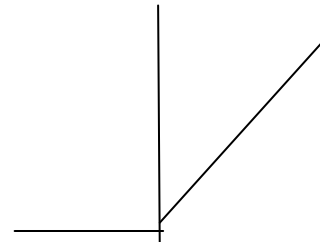
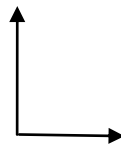
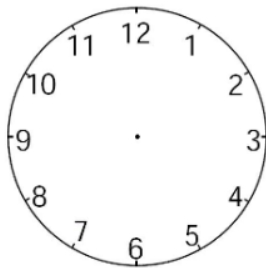
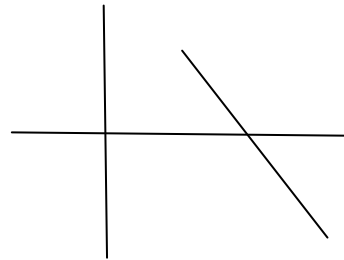


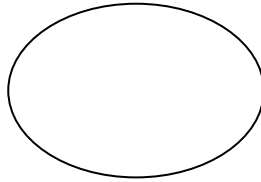
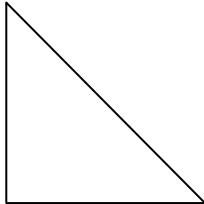




## 16ο κεφ. Χαράξεις με διαβήτη και χάρακα, Ορθές γωνίες




1. Με τη βοήθεια του γνώμονα βρες τις κάθετες ευθείες στα παρακάτω σχήματα και σημείωσέ τις με κόκκινο χρώμα.



2. Σχεδιάσε μία ευθεία κάθετη στις παρακάτω ευθείες.



3. Βρες στα παρακάτω σχήματα ποιες ευθείες είναι παράλληλες και σημείωσέ τις με πράσινο χρώμα.



4. Χρησιμοποίησε τον διαβήτη σου και φτιάξε 3 κύκλους διαφορετικού μεγέθους με κέντρο τις τελείες.



ΟΝΟΜΑ : \_\_\_\_\_

