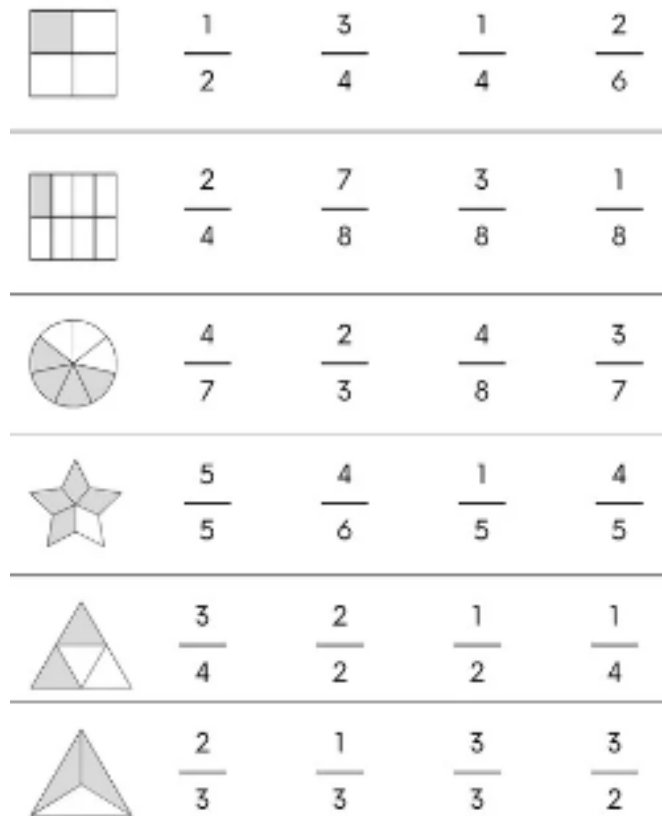
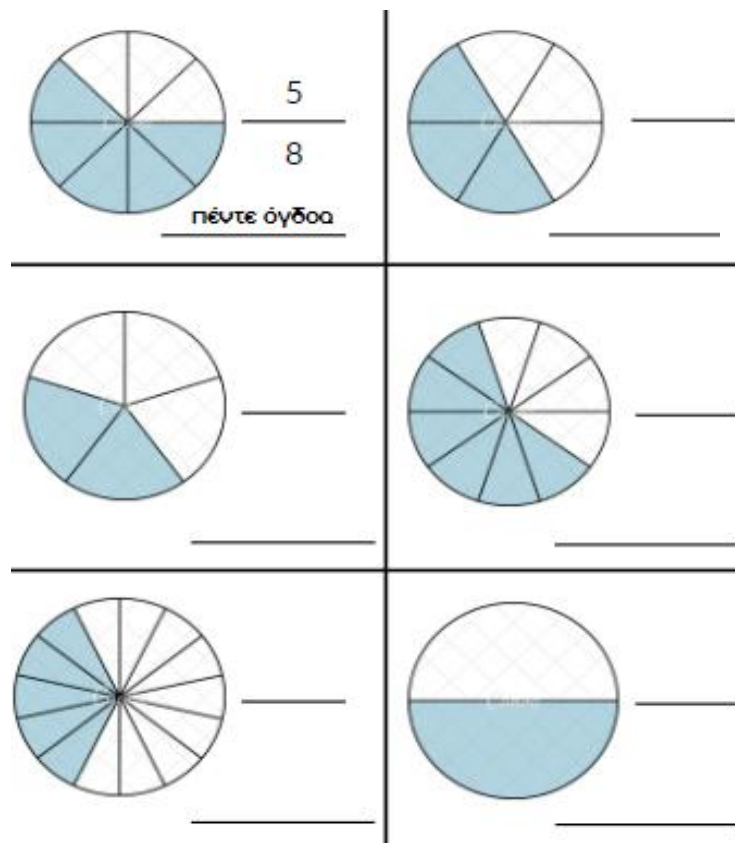


Κεφ. 22 - Εισαγωγή στα κλάσματα.



1. Κύκλωσε ό,τι δείχνει το χρωματισμένο μέρος.



2. Γράψε με κλάσμα το χρωματισμένο μέρος όπως στο παράδειγμα.



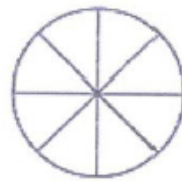
3. Χρωμάτισε ό,τι λείπει το κλάσμα.



$$\frac{1}{3}$$



$$\frac{4}{10}$$



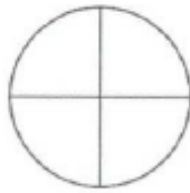
$$\frac{2}{8}$$



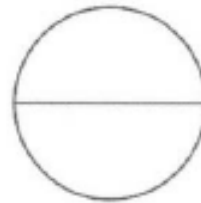
$$\frac{3}{6}$$



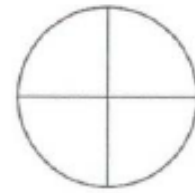
$$\frac{1}{5}$$



$$\frac{1}{4}$$



$$\frac{1}{2}$$




$$\frac{4}{4}$$

4. Τα παρακάτω ευρώ να τα χωρίσεις ώστε να τα μοιραστούν εξίσου:

2 παιδιά

4 παιδιά

6 παιδιά



Το καθένα θα πάρει : _____

Το καθένα θα πάρει : _____

Το καθένα θα πάρει : _____

ΟΝΟΜΑ : _____