

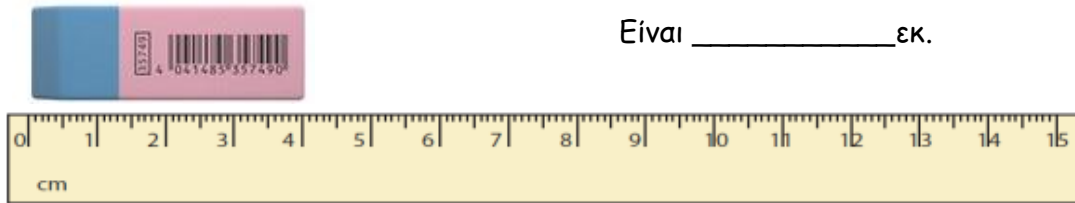
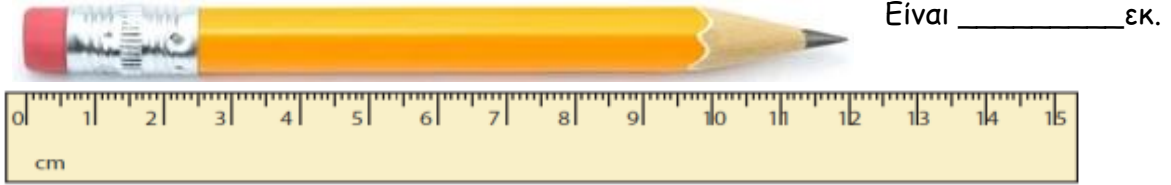




Μέτρηση μηκών με εκατοστά και χιλιοστά.

1. Παρατήρησε τον χάρακα και γράψε πόσα εκατοστά (εκ.) είναι κάθε αντικείμενο.



2. Μέτρα με τον χάρακά σου και γράψε πόσα εκατοστά έτρεξε η χελώνα σε κάθε διαδρομή.

\_\_\_\_\_  Έτρεξα \_\_\_\_\_ εκ.

\_\_\_\_\_  Έτρεξα \_\_\_\_\_ εκ.

\_\_\_\_\_  Έτρεξα \_\_\_\_\_ εκ.

3. Συμπλήρωσε τις ισότητες.

1 εκ. = \_\_\_\_\_ χιλ.

10 χιλ. = \_\_\_\_\_ εκ.

3 εκ. = \_\_\_\_\_ χιλ.

30 χιλ. = \_\_\_\_\_ εκ.

5 εκ. = \_\_\_\_\_ χιλ.

50 χιλ. = \_\_\_\_\_ εκ.

7 εκ. = \_\_\_\_\_ χιλ.

70 χιλ. = \_\_\_\_\_ εκ.

9 εκ. = \_\_\_\_\_ χιλ.

90 χιλ. = \_\_\_\_\_ εκ.

10 εκ. = \_\_\_\_\_ χιλ.

100 χιλ. = \_\_\_\_\_ εκ.

4. Το μολύβι του Βασίλη έχει μήκος 8 εκ. Πόσα χιλιοστά είναι το μολύβι του;

Λύση :



Απάντηση: \_\_\_\_\_

ΟΝΟΜΑ : \_\_\_\_\_