

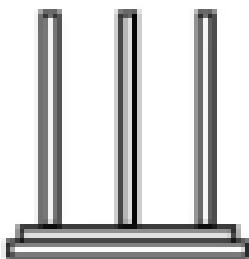
Αριθμοί μέχρι το 1.000




1. Βρες και συμπλήρωσε τα παρακάτω κενά.

- 154 είναι **Ε**κατοντάδες, **Δ**εκάδες και **Μ**ονάδες
408 είναι..... **Ε**κατοντάδες, **Δ**εκάδες και **Μ**ονάδες
720 είναι**Ε**κατοντάδες, **Δ**εκάδες και **Μ**ονάδες
654 είναι**Ε**κατοντάδες, **Δ**εκάδες και **Μ**ονάδες
900 είναι**Ε**κατοντάδες, **Δ**εκάδες και **Μ**ονάδες
613 είναι**Ε**κατοντάδες, **Δ**εκάδες και **Μ**ονάδες


2. Σχημάτισε σε κάθε άβρακα τον αριθμό που γράφει από κάτω.



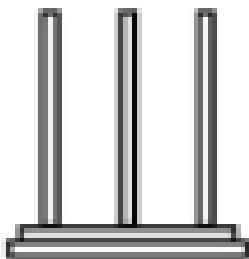
159



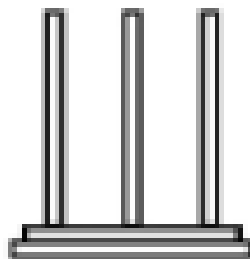
808




465



280



769



306

Ωχ! Έχει κι άλλες ασκήσεις.



3. Βρες και γράψε σε κάθε αριθμό τον προηγούμενο και τον επόμενο .

_____	330	_____	_____	600	_____	_____	250	_____
_____	820	_____	_____	756	_____	_____	481	_____
_____	979	_____	_____	313	_____	_____	599	_____
_____	200	_____	_____	801	_____	_____	999	_____

4. Ο Αντώνης είχε 123 γραμματόσημα στη συλλογή του και ο ξάδερφός του του χάρισε άλλα 20. Πόσα γραμματόσημα έχει τώρα;

Λύση:



Απάντηση: _____

5. Η Μαρία είχε στον κουμπαρά της 350 ευρώ. Αγόρασε ένα βιβλίο για τα γενέθλια της φίλης που έκανε 20 ευρώ. Πόσα χρήματα έχει τώρα στον κουμπαρά της;

Λύση:



Απάντηση: _____

Τελείωσα!
Ελπίζω να
είναι σωστά.



ΟΝΟΜΑ: _____