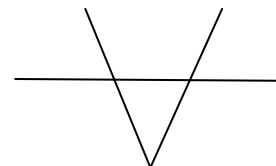
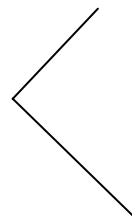

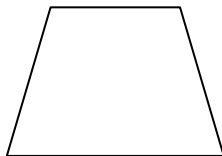
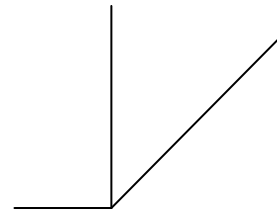
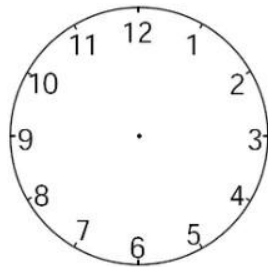
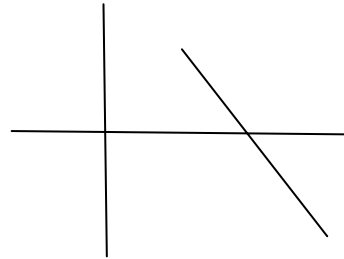


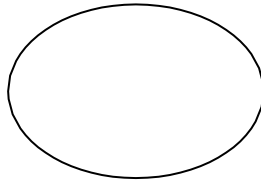
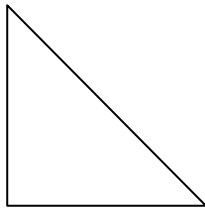




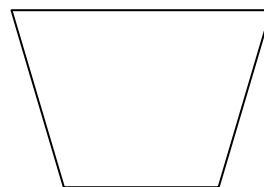
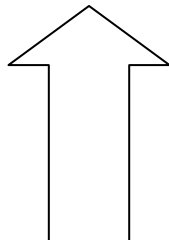
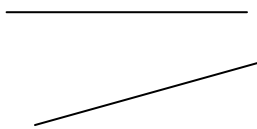
16ο κεφ. Χαράξεις με διαβήτη και γνώμονα. Ορθές γωνίες



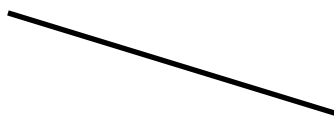
1. Με τη βοήθεια του γνώμονα βρες τις κάθετες ευθείες στα παρακάτω σχήματα και σημείωσέ τις με κόκκινο χρώμα.



2. Βρες στα παρακάτω σχήματα ποιες ευθείες είναι παράλληλες και σημείωσέ τις με πράσινο χρώμα.



3. Χρησιμοποίησε τον γνώμονα και σχεδίασε στις παρακάτω ευθείες από μια κάθετη.



4. Χρησιμοποίησε τον διαβήτη σου και φτιάξε 3 κύκλους διαφορετικού μεγέθους με κέντρο τις τελείες.



ΟΝΟΜΑ : _____

