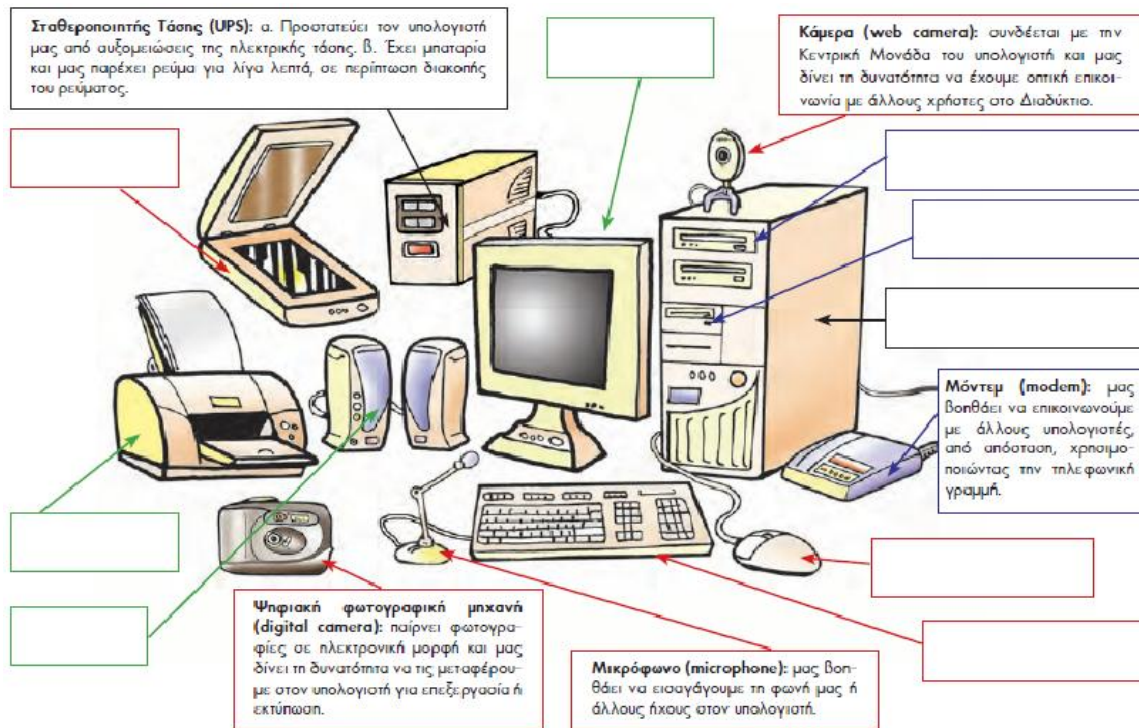


Φύλλο εργασίας

1η Άσκηση




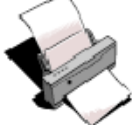




Συμπληρώστε τα ονόματα των συσκευών που λείπουν στην εικόνα, επιλέγοντας από τις παρακάτω λέξεις:

- Σαρωτής
- Εκτυπωτής
- Οθόνη
- Οδηγός οπτικού δίσκου
- Οδηγός δισκέτας
- Κεντρική Μονάδα
- Ηχεία
- Πληκτρολόγιο
- Ποντίκι



2^η Άσκηση

Μπορείτε να αντιστοιχίσετε τις συσκευές με τον τρόπο χρήσης τους;

1. Πληκτρολόγιο 	●	●	A. Χρησιμοποιείται για την εισαγωγή κειμένου, αριθμών και εντολών στον υπολογιστή.
2. Ποντίκι 	●	●	B. Χρησιμοποιείται για να ακούσουμε ήχο από τον υπολογιστή.
3. Οθόνη 	●	●	Γ. Παράγει τυπωμένο αντίγραφο των πληροφοριών που βρίσκονται στην οθόνη μας.
4. Εκτυπωτής 	●	●	Δ. Είναι μια συσκευή κατάδειξης και με αυτή μπορώ να δώσω εντολές και να μετακινήσω αντικείμενα πάνω στην οθόνη.
5. Σαρωτής 	●	●	Ε. Παρουσιάζει στον χρήστη τα τελικά αποτελέσματα κάθε είδους επεξεργασίας.
6. Μικρόφωνο 	●	●	ΣΤ. Χρησιμοποιείται για την εισαγωγή κινούμενης εικόνας (βίντεο) στον υπολογιστή.
7. Ηχεία 	●	●	Z. Με αυτό εισάγω ήχο στον υπολογιστή.
8. Ψηφιακή βιντεοκάμερα 	●	●	H. Μετατρέπει μια τυπωμένη εικόνα (ή άλλο έγγραφο), σε μορφή που να την βλέπουμε ή να την επεξεργαστούμε στον υπολογιστή.
















3^η Άσκηση

Εισάγοντας το σύμβολο **√** χαρακτηρίστε τις παρακάτω συσκευές ως «ΕΙΣΟΔΟΥ», «ΕΞΟΔΟΥ», ή «ΑΠΟΘΗΚΕΥΣΗΣ».

Συσκευές	Εισόδου	Αποθήκευσης	Εξόδου
Σκληρός δίσκος			
Δισκέτα			
Οθόνη			
Πληκτρολόγιο			
Ηχεία			
Εκτυπωτής			
Ποντίκι			
CD-ROM			
Κάμερα			
Σαρωτής			
Μνήμη Φλάς			


4^η Άσκηση

Μπορείτε να αντιστοιχίσετε τις συσκευές με τον τρόπο χρήσης τους;

Πληκτρολόγιο 	●	●	ΑΒΓΔΕΖ ΗΘΙΚΛΜ 01234 ΝΞΟΠΡΣ 56789 ΤΥΦΧΨΩ
Ποντίκι 	●	●	
Οθόνη 	●	●	
Εκτυπωτής 	●	●	
Σαρωτής 	●	●	
Μικρόφωνο 	●	●	
Ηχεία 	●	●	
Ψηφιακή βιντεοκάμερα 	●	●	

5η Άσκηση

Εισάγοντας το σύμβολο **V** χαρακτηρίστε τις παρακάτω συσκευές ως «ΕΙΣΟΔΟΥ», «ΕΞΟΔΟΥ», ή «ΕΙΣΟΔΟΥ - ΕΞΟΔΟΥ».

		Συσκευή Εισόδου	Συσκευή Εξόδου	Συσκευή Εισόδου- Εξόδου
1.	Ποντίκι			
2.	Πληκτρολόγιο			
3.	Πινακίδα αφής			
4.	Εκτυπωτής			
5.	Μικρόφωνο			
6.	Σαρωτής			
7.	Πολυμηχάνημα			
8.	Οθόνη			
9.	Οθόνη αφής			
10.	ακουστικά			
11.	Κάμερα Η/Υ (web cam)			
12.	Ηχεία			