

# 48

## Διαβάζω το ρολόι: Η ώρα «και μισή»

### Το κουδούνι του σχολείου

#### Δραστηριότητα - Ανακάλυψη

☞ Πού είναι ο λεπτοδείκτης όταν η ώρα είναι «και μισή»;

Στο σχολείο της Ανεζίνας το κουδούνι χτυπάει κάθε μέρα στις 8 και μισή.



Έχω ξυπνήσει εδώ και μία ώρα.

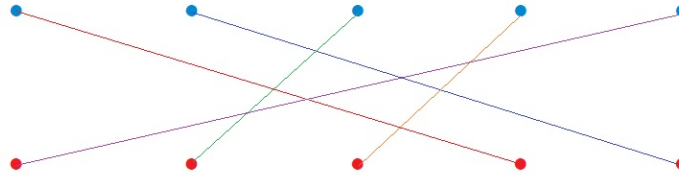


Τι ώρα ξύπνησε η Ανεζίνα; ...Στις επτά και μισή.....



Συζητάμε στην τάξη τι θα δείχνουν ο ωροδείκτης και ο λεπτοδείκτης την ώρα που ξύπνησε η Ανεζίνα.

● Αντιστοιχίζω τα ρολόγια με την ώρα που δείχνει το καθένα.



6 και μισή

4 και μισή

11 και μισή

7 και μισή

6 ακριβώς

Δείχνω στο ρολόι της τάξης μου τις ώρες. Σχεδιάζω τους δείκτες κάθε φορά.



1 και μισή



4 και μισή



2 ακριβώς



8 ακριβώς



• Ζωγραφίζω τι μπορεί να διαρκεί:

1 ώρα

μισή ώρα

### Εργασία

Τι ώρα θα δείχνει το ρολόι στο τέλος του ταξιδιού;



Ξεκίνησε στις .....<sup>9</sup>..... το πρωί. Έφτασε στη Σπάρτη μετά από 3 ώρες και μισή.

Δηλαδή έφτασε στις ..<sup>12</sup>.. και μισή το μεσημέρι.

### Συμπέρασμα

Όταν η ώρα είναι «και μισή», ο μεγάλος δείκτης (λεπτοδείκτης) δείχνει το 6.

Παραδείγματα:



3 και μισή




6 και μισή



7 και μισή

Πενήντα τρία



α. Τι ώρα λένε τα ρολόγια;



επτά και μισή...



οκτώ και μισή..



τρεις ακριβώς



εννιά και μισή..

β. Δείχνω στα ρολόγια.

2 και μισή



12 και μισή



6 και μισή



γ. Πόση ώρα πέρασε;

Πέρασε μισή ώρα.

Πέρασαν 3... ώρες.



## Ενότητα 8

δ. Η εκπομπή διαρκεί μισή ώρα. Τι ώρα θα δείχνει το ρολόι όταν τελειώσει;



• Τι ώρα θα δείχνει το ρολόι όταν έρθει ο παππούς;

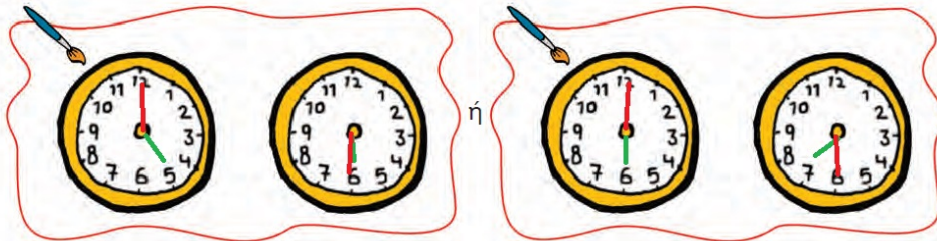


Ο παππούς Νίκος είπε ότι θα 'ρθει σε μιάμιση ώρα.



ε. Η Μαρία κάνει χορό 1 ώρα και μισή κάθε Παρασκευή.

• Ζωγραφίζω τι μπορεί να δείχνει το ρολόι στην αρχή και τι στο τέλος κάθε μαθήματος.



• Υπολογίζω πόσες ώρες χορεύει συνολικά:

• Κάθε εβδομάδα.

1 ώρα και μισή

• Σε 4 εβδομάδες (1 μήνα).

6 ώρες

Ελέγχω τους υπολογισμούς μου με το ρολόι.

