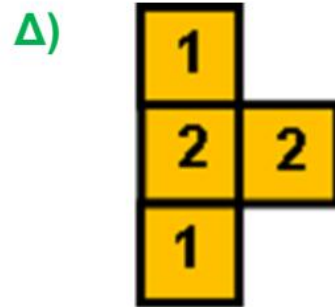
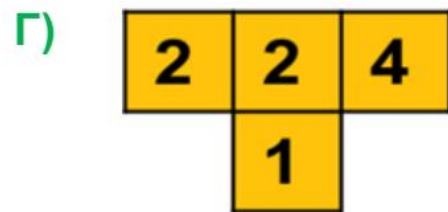
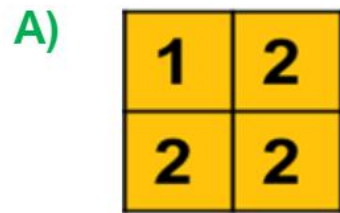


Η Δασκάλα έφτιαξε το τετράγωνο της εικόνας δεξιά χρησιμοποιώντας 4 από τα παρακάτω σχήματα. Ποιο σχήμα **δεν** χρησιμοποίησε;



1	2	2	4
2	2	1	2
1	3	3	3
2	4	1	2