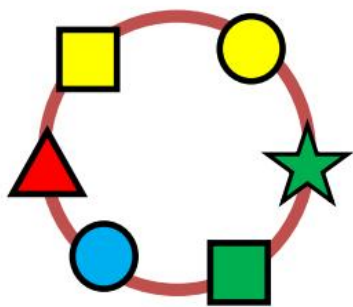
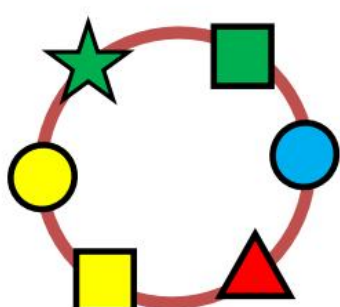


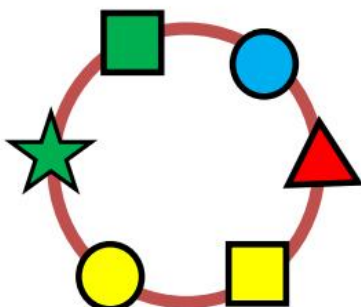
Στην εικόνα φαίνονται 4 ίδια βραχιόλια και ένα διαφορετικό. Ποιο είναι το διαφορετικό βραχιόλι;



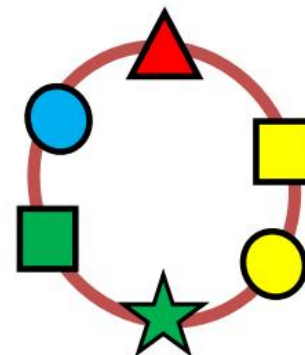
A)



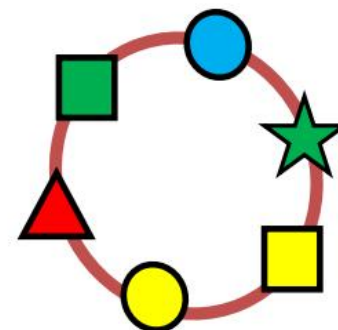
B)



Γ)



Δ)



E)