

ΟΝΟΜΑ: _____

ΜΑΘΗΜΑΤΙΚΑ 7^η ΕΝΟΤΗΤΑ

Επαναληπτικές Ασκήσεις 7 (Κεφ. 41-44)

1. Συμπληρώνω την αριθμογραμμή.



2. Γράφω τους τριψήφιους αριθμούς.

_____ εκατό εξήντα πέντε

_____ τριακόσια ογδόντα

_____ πεντακόσια τρία



_____ διακόσια είκοσι πέντε

_____ εφτακόσια σαράντα έξι

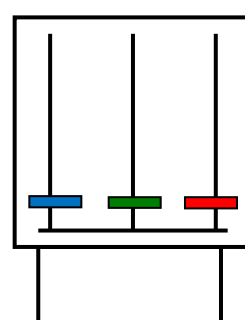
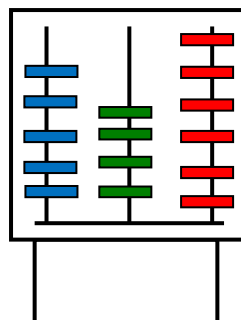
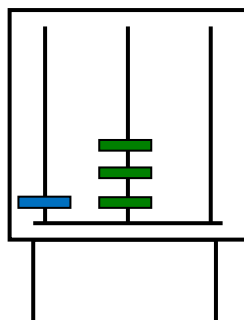
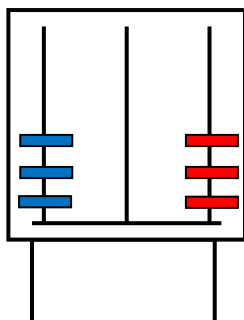
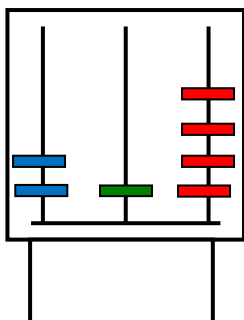
_____ εννιακόσια ενενήντα

3. Γράφω τους αριθμούς από το μεγαλύτερο στο μικρότερο βάζοντας το σημάδι της ανισότητας ανάμεσα στους αριθμούς (>).

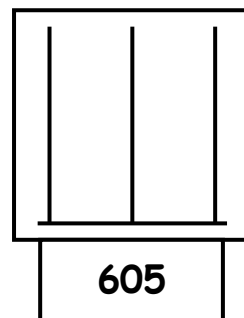
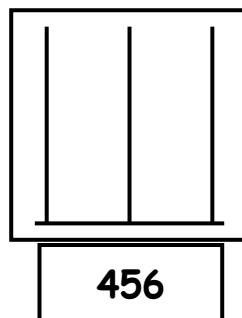
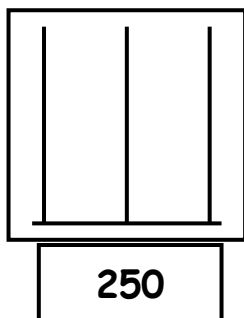
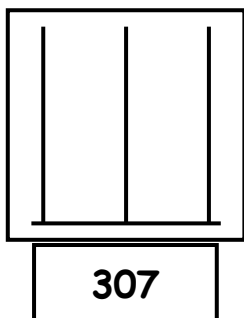
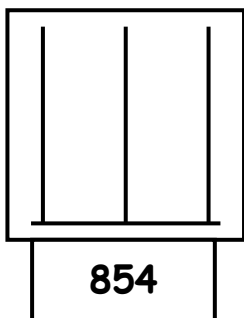
318 , 286 , 208 , 288 , 909 , 999 , 540 , 504



4. Γράφω στα κουτάκια τους αριθμούς που δείχνουν οι άβακες.



5. Σχεδιάζω στους άβακες τους αριθμούς που υπάρχουν στα κουτάκια. (Μπλε: Εκατοντάδες, Πράσινο: Δεκάδες, Κόκκινο: Μονάδες).



6. Αναλύω τους παρακάτω αριθμούς όπως το παράδειγμα.

$$379 = 300 + 70 + 9$$

$$156 = \underline{\hspace{10cm}}$$

$$503 = \underline{\hspace{10cm}}$$

$$998 = \underline{\hspace{10cm}}$$

$$760 = \underline{\hspace{10cm}}$$

$$456 = \underline{\hspace{10cm}}$$




7. Συμπληρώνω τους αριθμούς που λείπουν.

400	200		= 900
	150	150	= 900
250		250	= 900



500	200		= 1.000
	250	250	= 1.000
150		250	= 1.000

8. Εκτιμώ το μήκος / ύψος κάθε αντικειμένου και κυκλώνω τη σωστή απάντηση.



- 15 εκατοστά
- 15 μέτρα
- 15 χιλιόμετρα



- 2 εκατοστά
- 2 μέτρα
- 2 χιλιόμετρα



- 3 εκατοστά
- 3 μέτρα
- 3 χιλιόμετρα

9. Ο Μιχάλης έχει στον κουμπαρά του 250 ευρώ. Η Άννα έχει 320 ευρώ και η Μαργαρίτα έχει 60 ευρώ περισσότερα από την Άννα.

A. Πόσα χρήματα έχει στον κουμπαρά της η Μαργαρίτα;

B. Πόσοι χρήματα έχουν και τα τρία παιδιά μαζί;



A. Υπολογίζω με πράξη:

Απ: _____

B. Υπολογίζω με πράξη:

Απ: _____