




1. Γράφω με λόγια την ώρα που δείχνουν τα παρακάτω ρολόγια.




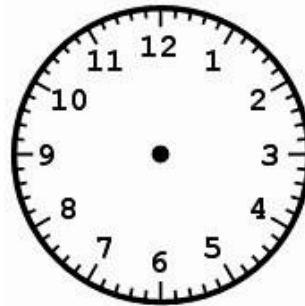


2. Σχεδιάσε τους δείχτες στα ρολόγια

τέσσερις και  
είκοσι

έντεκα και  
δέκα

επτά παρά  
πέντε

δώδεκα  
ακριβώς







μία και μισή

δέκα παρά  
είκοσι

τρεις παρά  
δέκα

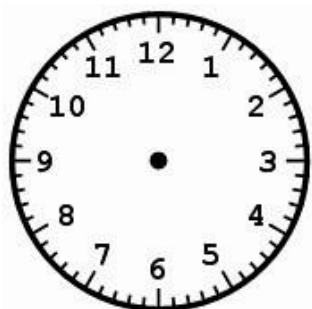
πέντε παρά  
πέντε



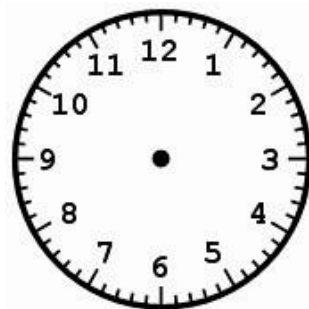
3. Λύνω το παρακάτω πρόβλημα:

Ο Θάνος ταξιδεύει αεροπορικώς από τη Θεσσαλονίκη ,για την Πράγα . Αν το αεροπλάνο απογειωθεί από τη Θεσσαλονίκη στις 8 το πρωί και έφτασε στην Πράγα μετά από 2 ώρες και 45 λεπτά δείξε στο αριστερό ρολόι την ώρα που ξεκίνησε από τη Θεσσαλονίκη και στο δεξί ρολόι την ώρα που έφτασε στην Πράγα.

Θεσσαλονίκη :



Πράγα :



4. Γράφω τι ώρα δείχνουν τα παρακάτω ψηφιακά ρολόγια, όπως το παράδειγμα.



14:40

δύο και  
σαράντα




11:00




22:15



16:50



2:30



00:10





**π.μ. = πριν το μεσημέρι**  
 (δηλαδή από τις δώδεκα τα μεσάνυχτα  
 μέχρι και τις δώδεκα το μεσημέρι)

**μ.μ. = μετά το μεσημέρι**  
 (δηλαδή από τις δώδεκα το μεσημέρι  
 μέχρι και τις δώδεκα τα μεσάνυχτα)

**5. Μετατρέπω την ώρα από το αναλογικό στο ψηφιακό ρολόι.**

Αναλογικό ρολόι	Ψηφιακό ρολόι		Αναλογικό ρολόι	Ψηφιακό ρολόι
1 π. μ.	1:00		1 μ. μ.	13:00
2 π. μ.			2 μ. μ.	
3 π. μ.			3 μ. μ.	
4 π. μ.			4 μ. μ.	
5 π. μ.			5 μ. μ.	
6 π. μ.			6 μ. μ.	
7 π. μ.			7 μ. μ.	
8 π. μ.			8 μ. μ.	
9 π. μ.			9 μ. μ.	
10 π. μ.			10 μ. μ.	
11 π. μ.			11 μ. μ.	
12 π. μ.			12 μ. μ.	00:00
<b>π. μ. = πριν το μεσημέρι</b>			<b>μ. μ. = μετά το μεσημέρι</b>	

6. Γράφω την ψηφιακή ώρα στα παρακάτω ρολόγια.



π. μ.






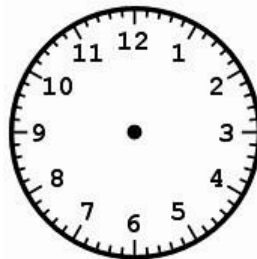

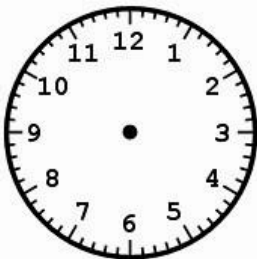
ή

μ. μ.


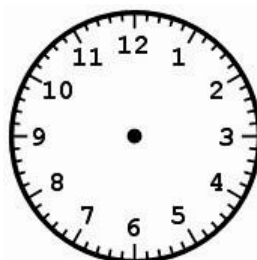






7. Βάζω τους δείκτες στα παρακάτω ρολόγια.









8. Λύνω το παρακάτω πρόβλημα:

Η Ιωάννα παρακολούθησε μια θεατρική παράσταση χθες στις 20:00. Η παράσταση διήρκεσε 2 ώρες και 5 λεπτά. α) Η παράσταση ήταν πρωινή ή βραδινή;.....

β) Τι ώρα τελείωσε η θεατρική παράσταση; .....



