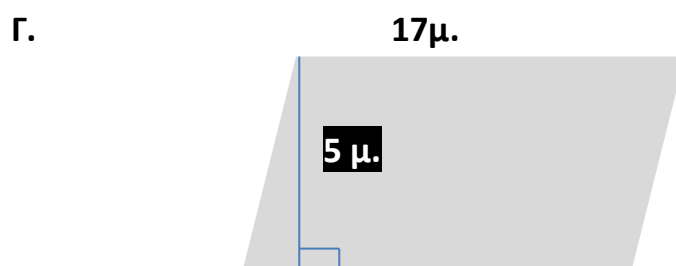
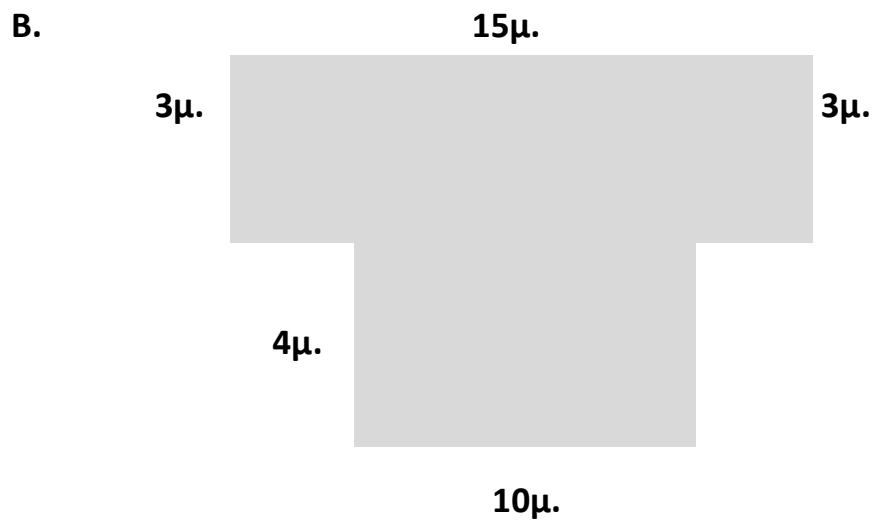
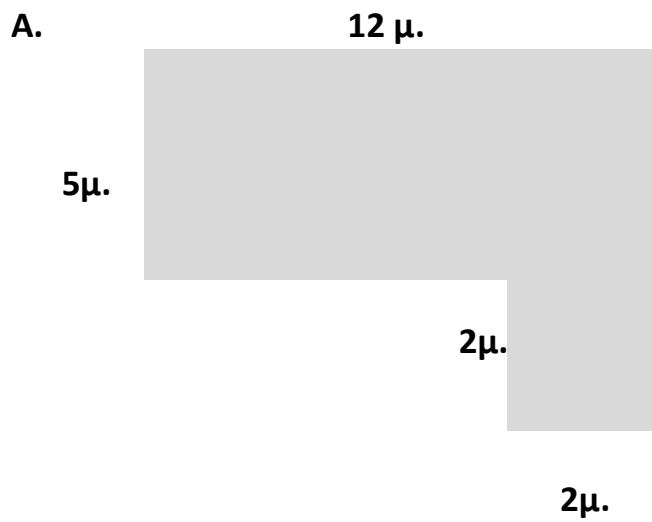
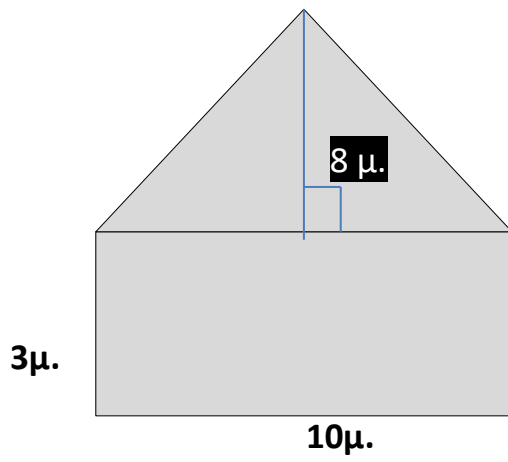


## Ασκήσεις στον υπολογισμό της επιφάνειας των σχημάτων

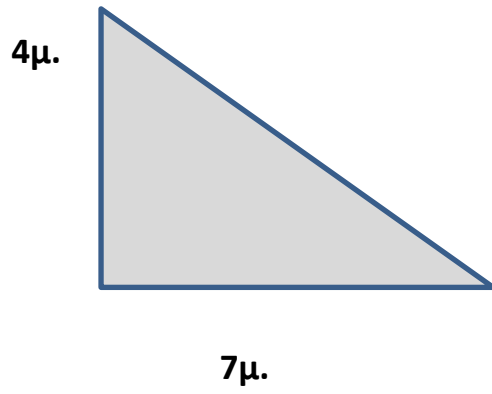
1. Να υπολογίσετε το εμβαδόν των παρακάτω σχημάτων .



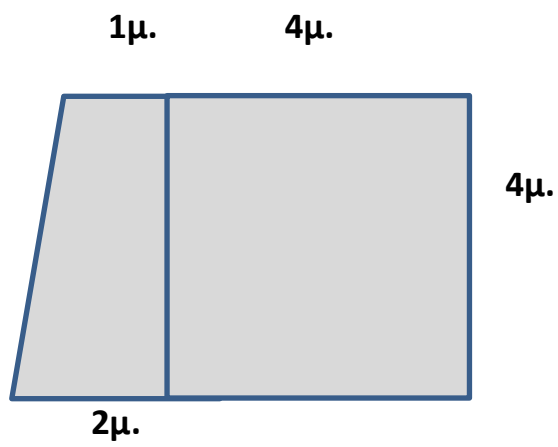
Δ.



Ε.



ΣΤ.



2. Μια κυκλική πλατεία έχει διάμετρο 80μ. Να βρεθεί το εμβαδόν της.

3. Σε μια τριγωνική πλατεία με βάση 42μ. και ύψος 18μ. θα κατασκευαστούν: ένα κυκλικό σιντριβάνι διαμέτρου 15μ. και 4 παρτέρια με λουλούδια σχήματος ορθογωνίου παραλληλογράμμου 6μ. επί 4μ.. Αν το υπόλοιπο μέρος της πλατείας πλακοστρωθεί με πλάκες πεζοδρομίου διαστάσεων 50εκ. επί 30εκ. να βρεθεί πόσο κοστίζουν οι πλάκες, αν η μία κοστίζει 45€;

