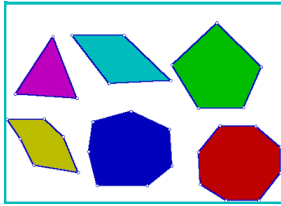
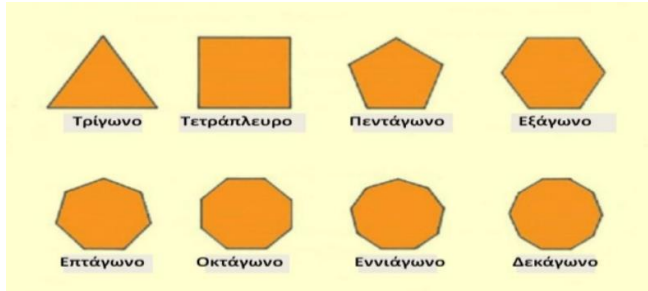


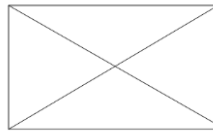
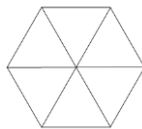
- Τα **κλειστά** σχήματα που έχουν τουλάχιστον 3 πλευρές και 3 γωνίες λέγονται **πολύγωνα**.



- Τα πολύγωνα που έχουν όλες τις πλευρές και τις γωνίες τους ίσες μεταξύ τους λέγονται **κανονικά πολύγωνα**.

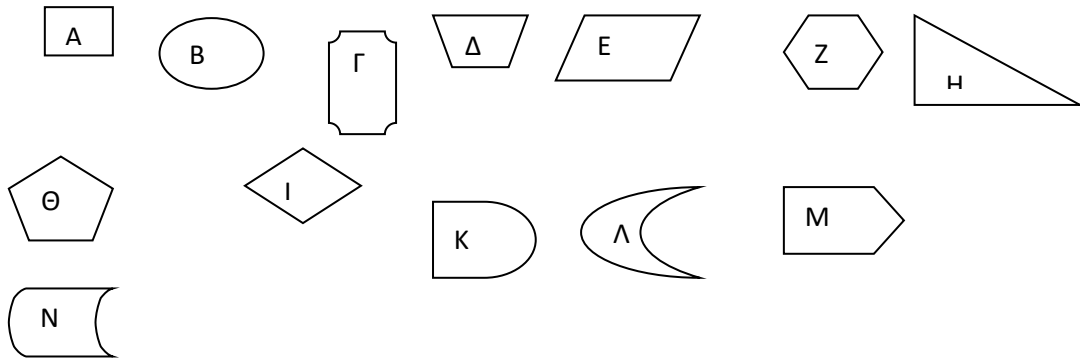


- Στα πολύγωνα το ευθύγραμμο τμήμα που ενώνει δύο κορυφές, όταν δεν είναι πλευρά, λέγεται **διαγώνιος**.



- Τα **ονόματα των πολυγώνων**, εκτός από το τετράπλευρο, σχηματίζονται από τον αριθμό των γωνιών που έχουν και την κατάληξη **-γωνο**.

1. Ποια από τα παρακάτω σχήματα είναι πολύγωνα;



2. Χαράζω τις διαγωνίους στα παρακάτω σχήματα:

