

α. Τι ώρα λένε τα ρολόγια;



β. Δείχνω στα ρολόγια.

3 η ώρα ακριβώς



5 η ώρα ακριβώς





γ. Πόση ώρα πέρασε;



Τρίτη 15 Μαΐου 2007

Τετάρτη 16 Μαΐου 2007





δ. Τι ώρα θα δείχνει το ρολόι;

- Η ταινία θα τελειώσει σε 2 ώρες. Σχεδιάζω στο ρολόι πού θα είναι οι δείκτες.



- Θα είναι ..... ακριβώς.


- Σε 3 ώρες θα γυρίσουν στο σπίτι τους. Σχεδιάζω στο ρολόι πού θα είναι οι δείκτες.

Ήρθαμε να σε δούμε.



Πού είναι το εγγονάκι μου;



- ε.  Η Ελένη πηγαίνει και παίζει σκάκι 1 ώρα κάθε Τρίτη. Σε 4 εβδομάδες πόσες ώρες συνολικά παίζει σκάκι; Εξηγούμε πώς σκεφτήκαμε.

στ. Ένα ημερονύχτιο έχει 24 ώρες. Πόσες ώρες έχουν:

- 2 ημερονύχτια;
- μισό ημερονύχτιο;

- 7 ημερονύχτια ή 1 εβδομάδα;

