


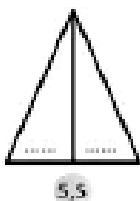

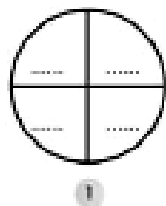
## «3<sup>ο</sup> Επαναληπτικό κεφ.15 έως 20 - Α' περιόδου»



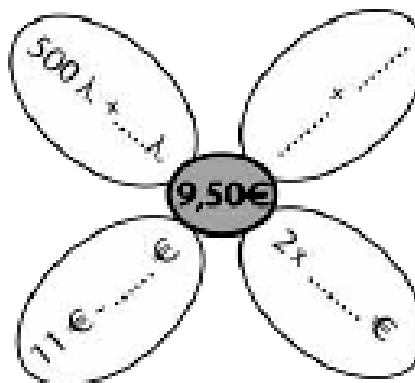
35,07	▪ 135 εκατοστά	▪ $\frac{135}{100}$ ή $1\frac{\quad}{100}$
0,35	▪ 35 ακέραιες μονάδες και 7 εκατοστά	▪ $\frac{35}{100}$
1,35	▪ 35 εκατοστά	▪ $35\frac{\quad}{100}$

1. Αντιστοιχίζω κατάλληλα

2. Στο κάθε σχήμα επαναλαμβάνεται ο ίδιος αριθμός. Συμπλήρωσε τους αριθμούς που λείπουν:



3. Συμπλήρωσε τους αριθμούς που λείπουν:



1 γραμμ. = 0,1 κ.


3 δεκ = 0,03 μ.

5 χιλ. =  $\frac{5}{1000}$  μ.

200 γραμμ. > 0,5 κ.


0,3 = 0,30

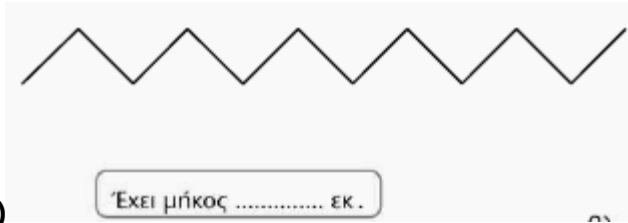
0,06 = 0,60

4. Σημείωσε με Σ ή Λ:

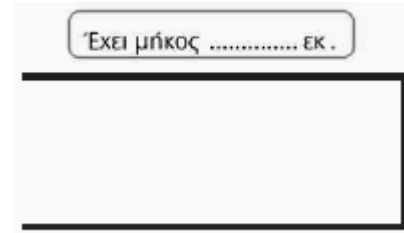
5. Ποια από τις παρακάτω δύο γραμμές έχει μεγαλύτερο μήκος:

ΝΑΙ

ΟΧΙ




A)



B)

6. Ο Πέτρος έχει 10€. Θέλει να αγοράσει όλα τα παρακάτω είδη που του είναι απαραίτητα για το σχολείο. Του φτάνουν τα χρήματα:

A) εκτιμώ:



B) Ο Πέτρος ξόδεψε τελικά **ακριβώς 10€**. Ποια είδη αγόρασε;

Γ) Η Ηρώ αγόρασε μια μολυβοθήκη και ένα τετράδιο. Πόσα **ρέστα** θα πάρει αν έχει **10€**.