



ΟΝΟΜΑ


Σημείωσε τι δείχνει σε κάθε περίπτωση η ζυγαριά, όπως στο παράδειγμα:




400 γρ.



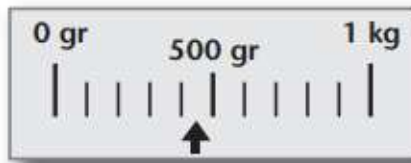
.....



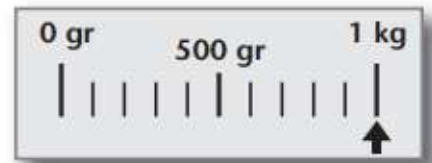
.....



.....



.....



.....


Ο Πέτρος, ο Νίκος και η Ελένη ζυγίζουν –όλοι μαζί– 125 κιλά. Ο Πέτρος ζυγίζει 45 κιλά. Η Ελένη ζυγίζει 11 κιλά λιγότερα από τον Πέτρο.

- α. Πόσα κιλά ζυγίζει η Ελένη;
.....
- β. Πόσα κιλά ζυγίζει ο Νίκος;
.....

Υπολογίζω

Πόσα κιλά πρέπει να μεταφέρουμε από τη μία πλευρά της ζυγαριάς στην άλλη ώστε να ισορροπήσει;

Λύση



Απάντηση:

