

ΟΝΟΜΑ: \_\_\_\_\_

## ΜΑΘΗΜΑΤΙΚΑ 5<sup>η</sup> ΕΝΟΤΗΤΑ

### Επαναληπτικό: Κεφάλαια 30 - 33

1. Γράφω με τη σειρά τις μέρες της εβδομάδας.

1. \_\_\_\_\_

2. \_\_\_\_\_


3. \_\_\_\_\_

4. \_\_\_\_\_


5. \_\_\_\_\_

6. \_\_\_\_\_

7. \_\_\_\_\_



2. Γράφω με τη σειρά τους μήνες του χρόνου.



1. \_\_\_\_\_

2. \_\_\_\_\_

3. \_\_\_\_\_

4. \_\_\_\_\_

5. \_\_\_\_\_

6. \_\_\_\_\_

7. \_\_\_\_\_


8. \_\_\_\_\_

9. \_\_\_\_\_

10. \_\_\_\_\_

11. \_\_\_\_\_

12. \_\_\_\_\_



3. Γράφω τις τέσσερις εποχές του χρόνου.

\_\_\_\_\_



\_\_\_\_\_

\_\_\_\_\_

\_\_\_\_\_

4. Κάνω τις παρακάτω διαιρέσεις, όπως το παράδειγμα.

$$16 : 2 = \boxed{8} \quad \text{γιατί } 2 \times 8 = 16$$


$$27 : 3 = \boxed{\phantom{00}} \quad \text{γιατί } \underline{\hspace{2cm}}$$

$$20 : 4 = \boxed{\phantom{00}} \quad \text{γιατί } \underline{\hspace{2cm}}$$

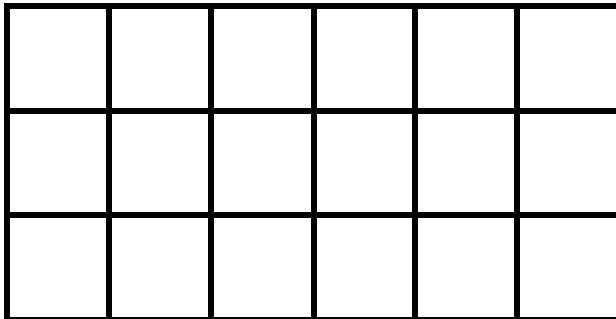
$$50 : 5 = \boxed{\phantom{00}} \quad \text{γιατί } \underline{\hspace{2cm}}$$

$$42 : 6 = \boxed{\phantom{00}} \quad \text{γιατί } \underline{\hspace{2cm}}$$

$$56 : 7 = \boxed{\phantom{00}} \quad \text{γιατί } \underline{\hspace{2cm}}$$



5. Υπολογίζω με πόσα γλακάκια μπορώ να καλύψω την επιφάνεια.



Πόσα  χρειάζομαι;

\_\_\_\_\_

Πόσα  χρειάζομαι;

\_\_\_\_\_

6. Λύνω το παρακάτω πρόβλημα:

Η Δήμητρα, ο Αντώνης, η Ζέτα και ο Θοδωρής θέλουν να μοιραστούνε δίκαια 12 σοκολατάκια. Πόσα σοκολατάκια θα πάρει το κάθε παιδί;

Λύση:



Απάντηση:

\_\_\_\_\_