

ΟΝΟΜΑ: _____

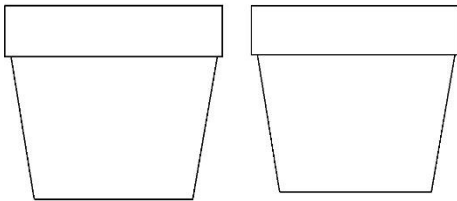
ΜΑΘΗΜΑΤΙΚΑ 3^η ΕΝΟΤΗΤΑ

Κεφ.22: Αναλύω αριθμούς μέχρι το 100. Εισαγωγή στην Προπαίδεια



1. Φτιάχνω το δικό μου κήπο, σύμφωνα με τις οδηγίες που μου δίνονται.

❁ Σε κάθε γλάστρα ζωγραφίζω από 3 λουλούδια.

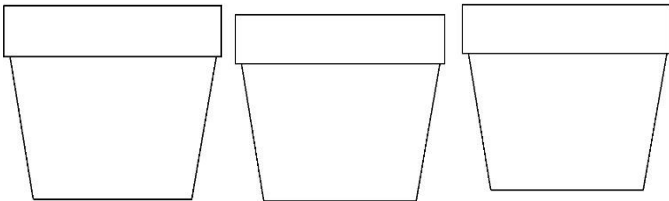


Έφτιαξα ___ γλάστρες με ___
λουλούδια η κάθε μια. Δηλαδή:

$$\underline{\quad} + \underline{\quad} = \underline{\quad}$$

$$\text{ή } \underline{\quad} \times \underline{\quad} = \underline{\quad}$$

❁ Σε κάθε γλάστρα ζωγραφίζω από 2 λουλούδια.

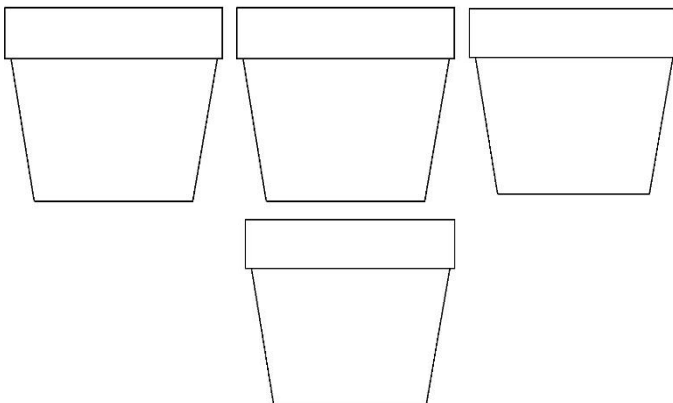


Έφτιαξα ___ γλάστρες με ___
λουλούδια η κάθε μια. Δηλαδή:

$$\underline{\quad} + \underline{\quad} + \underline{\quad} = \underline{\quad}$$

$$\text{ή } \underline{\quad} \times \underline{\quad} = \underline{\quad}$$

❁ Σε κάθε γλάστρα ζωγραφίζω από 4 λουλούδια.

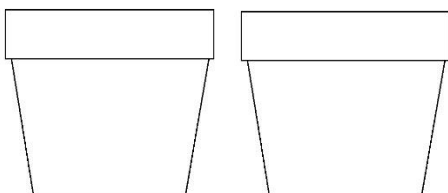


Έφτιαξα ___ γλάστρες με ___
λουλούδια η κάθε μια. Δηλαδή:

$$\underline{\quad} + \underline{\quad} + \underline{\quad} + \underline{\quad} = \underline{\quad}$$

$$\text{ή } \underline{\quad} \times \underline{\quad} = \underline{\quad}$$

❁ Σε κάθε γλάστρα ζωγραφίζω από 7 λουλούδια.




Έφτιαξα ___ γλάστρες με ___
λουλούδια η κάθε μια. Δηλαδή:

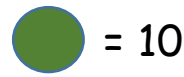
$$\underline{\quad} + \underline{\quad} = \underline{\quad}$$

$$\text{ή } \underline{\quad} \times \underline{\quad} = \underline{\quad}$$

2. Φτιάχνω το παρακάτω μοτίβο με κόκκινες και πράσινες χάντρες. Έπειτα υπολογίζω την αξία του.



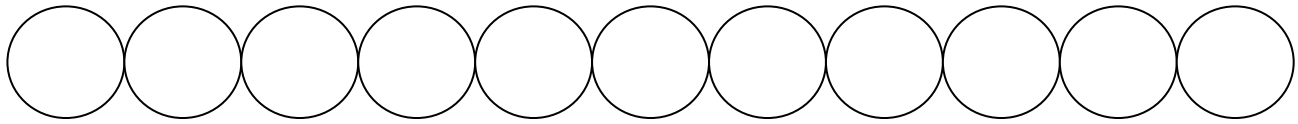
= 5



= 10

Κόκκινη χάντρα = 5

Πράσινη χάντρα = 10

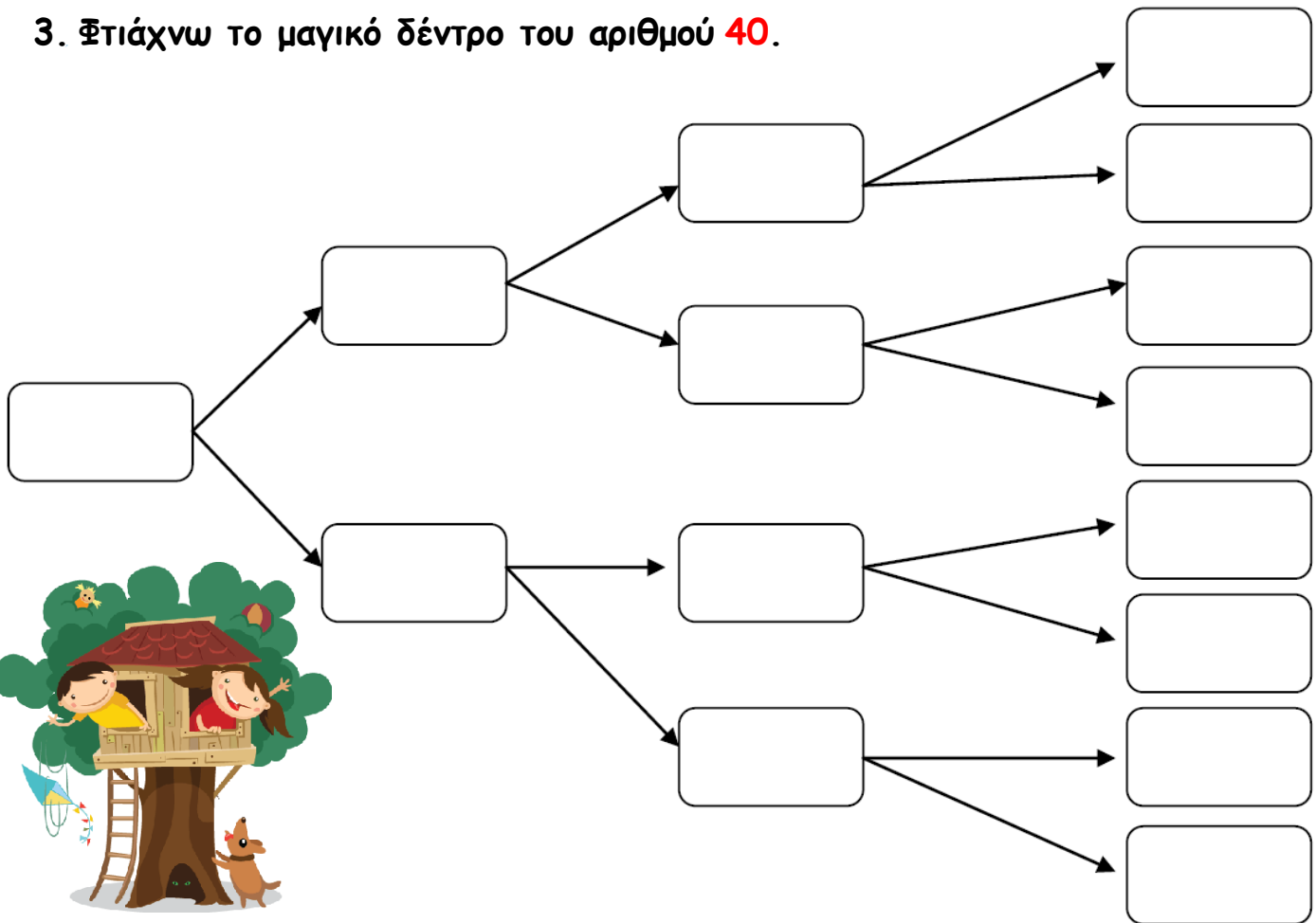


• Χρησιμοποίησα _____ κόκκινες χάντρες. Δηλαδή: _____ X _____ = _____

• Χρησιμοποίησα _____ πράσινες χάντρες. Δηλαδή: _____ X _____ = _____

Άρα η αξία του μοτίβου συνολικά είναι _____ + _____ = _____

3. Φτιάχνω το μαγικό δέντρο του αριθμού 40.



Άρα _____ + _____ + _____ + _____ + _____ + _____ + _____ + _____ = 40

ή _____ X _____ = _____