

ΟΝΟΜΑ: \_\_\_\_\_

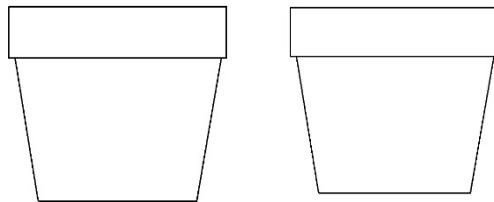
## ΜΑΘΗΜΑΤΙΚΑ 3<sup>η</sup> ΕΝΟΤΗΤΑ

### 22. Αναλύω αριθμούς μέχρι το 100.

#### Εισαγωγή στην Προπαίδεια (1)

Φτιάχνω το δικό μου κήπο, σύμφωνα με τις οδηγίες.

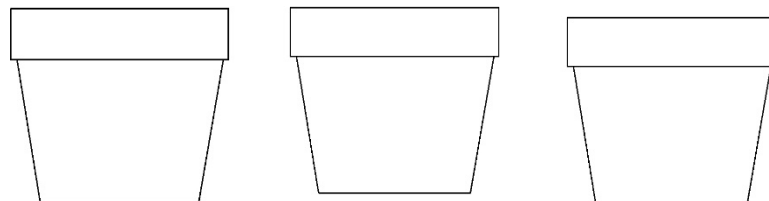
Σε κάθε γλάστρα ζωγραφίζω από 3 λουλούδια.



Έφτιαξα \_\_\_ γλάστρες με \_\_\_ λουλούδια η καθεμία.

Δηλαδή: \_\_\_ + \_\_\_ = \_\_\_ ή \_\_\_ Χ \_\_\_ = \_\_\_

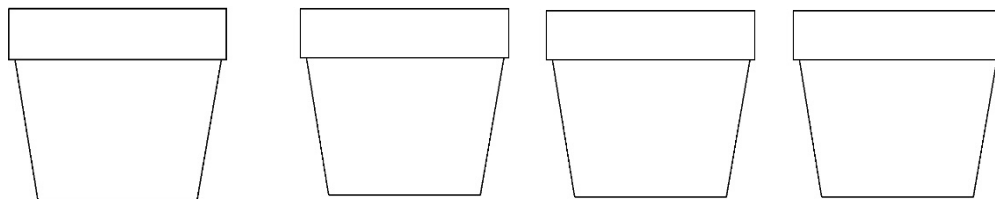
Σε κάθε γλάστρα ζωγραφίζω από 2 λουλούδια.



Έφτιαξα \_\_\_ γλάστρες με \_\_\_ λουλούδια η καθεμία.

Δηλαδή: \_\_\_ + \_\_\_ + \_\_\_ = \_\_\_ ή \_\_\_ Χ \_\_\_ = \_\_\_

Σε κάθε γλάστρα ζωγραφίζω από 5 λουλούδια.



Έφτιαξα \_\_\_ γλάστρες με \_\_\_ λουλούδια η καθεμία.

Δηλαδή: \_\_\_ + \_\_\_ + \_\_\_ + \_\_\_ = \_\_\_ ή \_\_\_ Χ \_\_\_ = \_\_\_