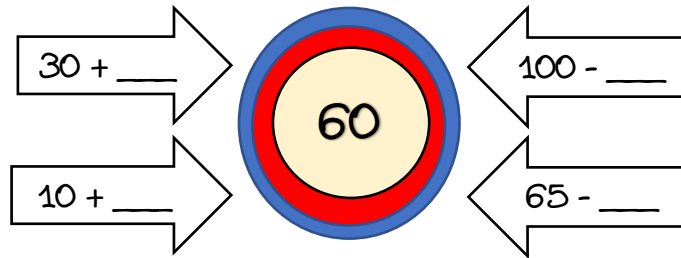


ΟΝΟΜΑ: _____


ΜΑΘΗΜΑΤΙΚΑ 2^η ΕΝΟΤΗΤΑ

Επαναληπτικό: Κεφάλαια 9 - 15





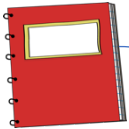


1. Βρίσκω τους αριθμούς που λείπουν για να φτάσω στον αριθμό στόχο.





2. Γράφω πόσα ευρώ έχει το κάθε πουγκί.

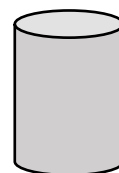
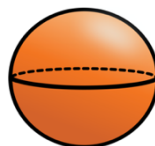
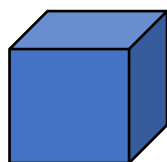


3. Συμπληρώνω τον παρακάτω πίνακα.


Κοστιζει	Έδωσα	Ρέστα
 1€ 20¢.		
 70¢.		
 2€ 50¢.	 	

4. Γράφω τα ονόματα των παρακάτω σχημάτων ή στερεών.





5. Μετρώ με τον χάρακά μου τις πλευρές και βρίσκω την περίμετρο του σχήματος.



Περίμετρος Ορθογωνίου :

6. Λύνω τα παρακάτω προβλήματα:

α. Η Μαρίνα έχει στον κουμπαρά της 48 ευρώ. Δίνει τα μισά χρήματα στον αδερφό της, τον Ηλία. Πόσα χρήματα έχει ο Ηλίας;

Λύση:

Απάντηση: _____

β. Η τάξη του Διονύση έχει 14 μαθητές. Η τάξη της ξαδέρφης του, της Άννας έχει ακριβώς τους διπλάσιους μαθητές. Πόσους μαθητές έχει η τάξη της Άννας;

Λύση:

Απάντηση: _____