




ΔΡΑΣΤΗΡΙΟΤΗΤΕΣ



1. Να αντιστοιχίσεις το καθένα από τα πιο κάτω σχήματα με την κατάλληλη ομάδα.




Επίπεδα
σχήματα




Στερεά
σχήματα




2. Να αντιστοιχίσεις τα αντικείμενα με τα σχήματα.




ορθογώνιο παραλληλεπίπεδο



κύβος



κύλινδρος



κώνος



σφαίρα

