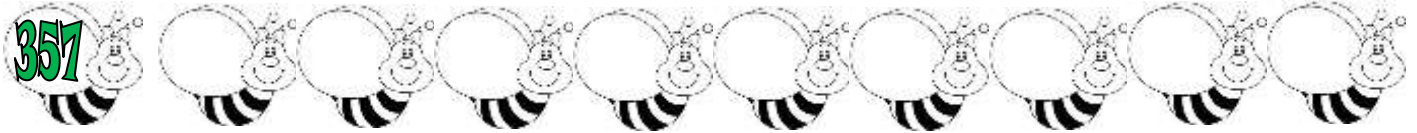
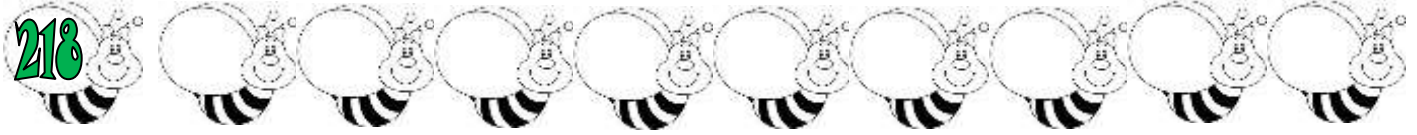
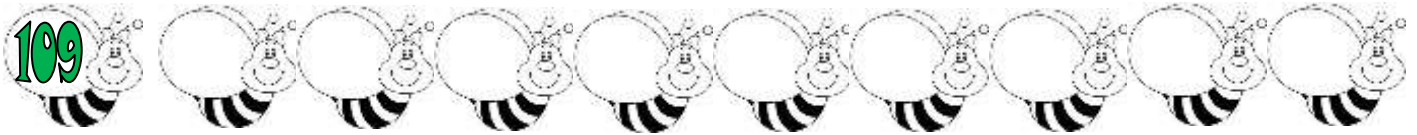


Όνομα: _____

Γνωρίζω τους αριθμούς μέχρι το 1.000(3)

Μετράω 1-1



Βάζω το σύμβολο της ανισότητας που ταιριάζει (< ή >). Θυμήσου το στόμα της φάλαινας τρώει πάντα τα πιο πολλά.

$359 \bigcirc 294$

$607 \bigcirc 657$

$834 \bigcirc 725$

$982 \bigcirc 914$

$183 \bigcirc 139$

$502 \bigcirc 564$

$354 \bigcirc 356$

$252 \bigcirc 250$

$909 \bigcirc 999$



Βάζω από το μικρότερο στο μεγαλύτερο.



252

509

250

909

456

607

183

170

654

349

189

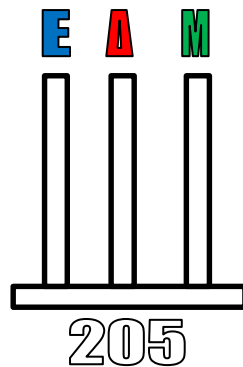

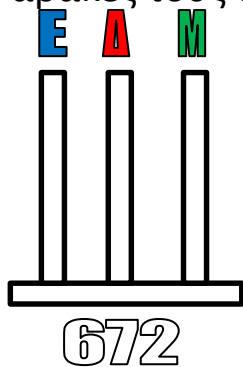
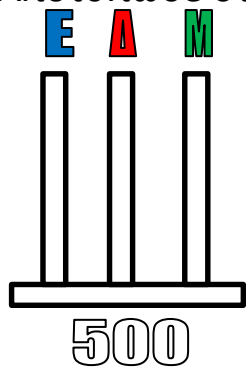
159

109

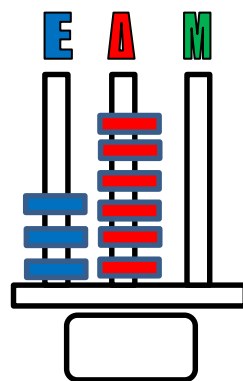
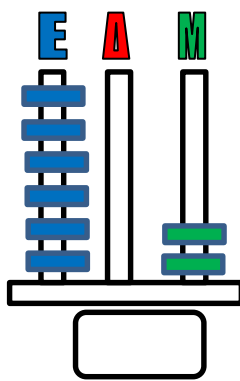
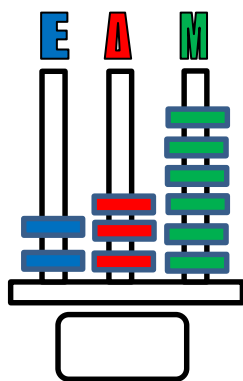
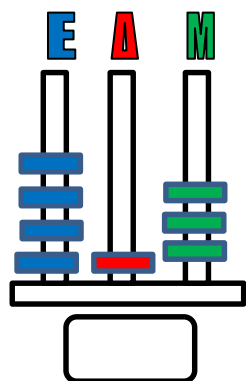
199

200

Αποτύπωσε στους άβακες τους αριθμούς.



Βρες τον αριθμό:



Τι αξία έχει το ψηφίο 5 στους παρακάτω αριθμούς;

358: 50

125: ____

573: ____

753: ____

Τι αξία έχει το ψηφίο 7 στους παρακάτω αριθμούς;

762: ____

376: ____

712: ____

647: ____



Φτιάξε όσους τριψήφιους αριθμούς μπορείς με τα παρακάτω ψηφία:

