

Όνομα: _____

Γνωρίζω τους αριθμούς μέχρι το 1.000(2)



Στους παρακάτω αριθμούς χρωμάτισε μόνο τη Δεκάδα:


359 294 607 183 564 982 725

Στους παρακάτω αριθμούς χρωμάτισε μόνο την Εκατοντάδα.

354 914 657 139 834 502 252



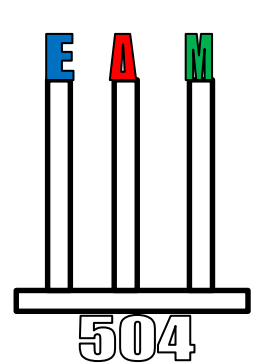
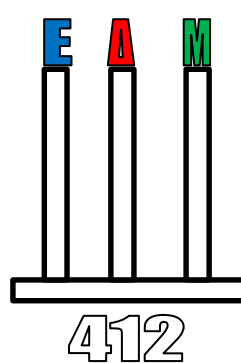
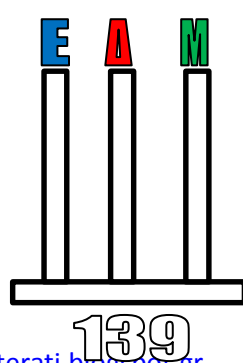
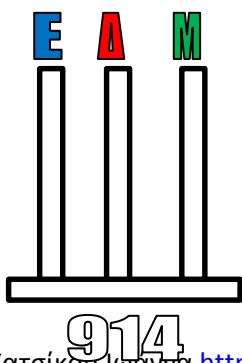
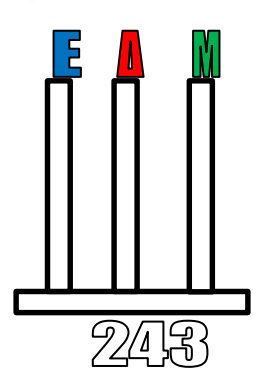
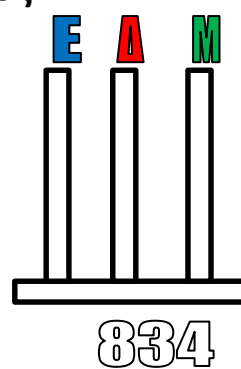
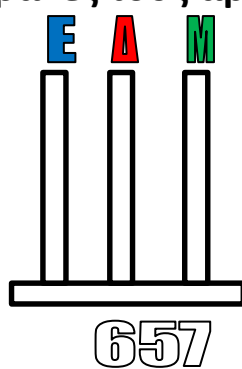
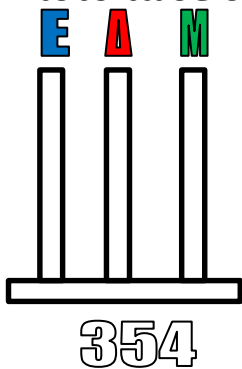
Γράψε πέντε αριθμούς που να έχουν το 6 στην Εκατοντάδα:



Με τα παρακάτω ψηφία φτιάξε όσους τριψήφιους αριθμούς μπορείς.



Αποτύπωσε στους άβακες τους αριθμούς.

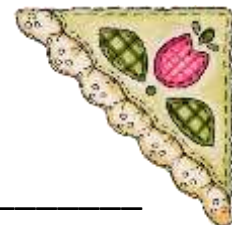


Ποιος είναι ο αριθμός;

Τετρακόσια πενήντα έξι: _____ οχτακόσια είκοσι πέντε: _____

Εξακόσια σαράντα εννιά: _____ τριακόσια ενενήντα εννιά: _____

Πεντακόσια εξήντα δύο: _____ εκατόν έντεκα: _____



Γράψε το όνομα του αριθμού:

444: _____

753: _____

802: _____



Σε ποιον αριθμό το 2 έχει μεγαλύτερη αξία; Κύκλωσέ τον.



Μετράω:

97

116



Συνέχισε :

100, 200, _____, _____, _____, 600, _____, _____, _____, 1.000

100, 110, 120, _____, _____, _____, _____, _____, _____

1.000, 900, 800, _____, _____, _____, _____, _____, _____

