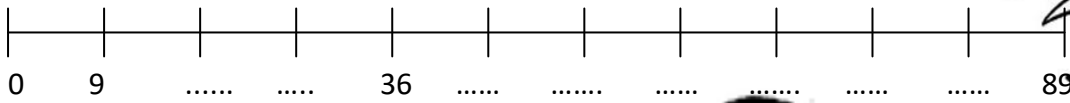


# Μαθαίνω την Προπαίδεια του 9

Όνομα : ..... Ημερομηνία : .....



1. Ανέβα 9 – 9 και συμπλήρωσε την αριθμογραμμή :



2. Γράψε την Προπαίδεια του 9 :

- 1 x 9 = .....
- ..... x ..... = .....
- ..... x ..... = .....
- ..... x ..... = .....
- ..... x ..... = .....
- ..... x ..... = .....
- ..... x ..... = .....
- ..... x ..... = .....
- ..... x ..... = .....
- ..... x ..... = .....
- ..... x ..... = .....



3. Βρες το αποτέλεσμα :

- |                |                |
|----------------|----------------|
| 3 x 9 = .....  | 9 x 2 = .....  |
| 5 x 9 = .....  | 9 x 10 = ..... |
| 9 x 1 = .....  | 4 x 9 = .....  |
| 8 x 9 = .....  | 6 x 9 = .....  |
| 11 x 9 = ..... | 9 x 7 = .....  |
| 9 x 0 = .....  | 9 x 9 = .....  |

4. Ένωσε ό,τι ταιριάζει :

|       |       |        |       |       |       |
|-------|-------|--------|-------|-------|-------|
| 9 x 9 | 9 x 5 | 10 x 9 | 6 x 9 | 9 x 7 | 9 x 8 |
| 81    | 45    | 54     | 90    | 72    | 63    |

5. Βρες ποιος αριθμός είναι :

(Πες φωναχτά την προπαίδεια και θα βρεις τον αριθμό)

$81 = \dots \times 9$

$18 = 9 \times \dots$

$99 = 9 \times \dots$

$9 = 9 \times \dots$

$0 = 9 \times \dots$

$36 = \dots \times 9$

$45 = \dots \times 9$

$54 = 9 \times \dots$

$27 = \dots \times 9$

$63 = \dots \times 9$

$72 = 9 \times \dots$

$90 = \dots \times 9$

6. Ένα παντελόνι κοστίζει 9 ευρώ. Πόσο κοστίζουν 11 παντελόνια ;

Τι πράξη θα κάνω ; .....

Υπολογίζω


Απάντηση: .....



7. Η Μελίνα διαβάζει 9 σελίδες την ημέρα. Πόσες σελίδες διαβάζει σε 9 ημέρες ;

Υπολογίζω

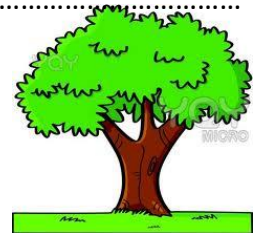
Απάντηση: .....



8. Σε ένα δέντρο ξεκουράζονται 9 πουλιά. Πόσα πουλιά ξεκουράζονται σε 7 δέντρα ;

Υπολογίζω

Απάντηση: .....



9. Ζωγράφισε τη ζωγραφιά

