

# ΜΑΘΗΜΑΤΙΚΑ Β' ΤΑΞΗΣ

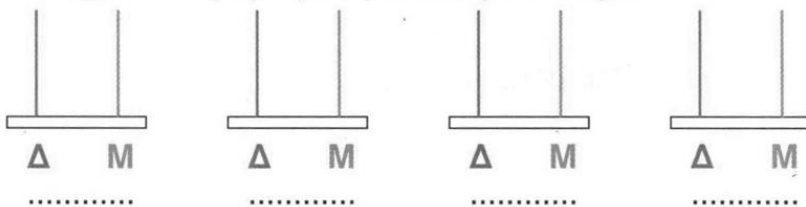


Όνομα: \_\_\_\_\_

1. Γράφω τέσσερις αριθμούς που ο αριθμός των δεκάδων τους να είναι μισός από τον αριθμό των μονάδων τους.



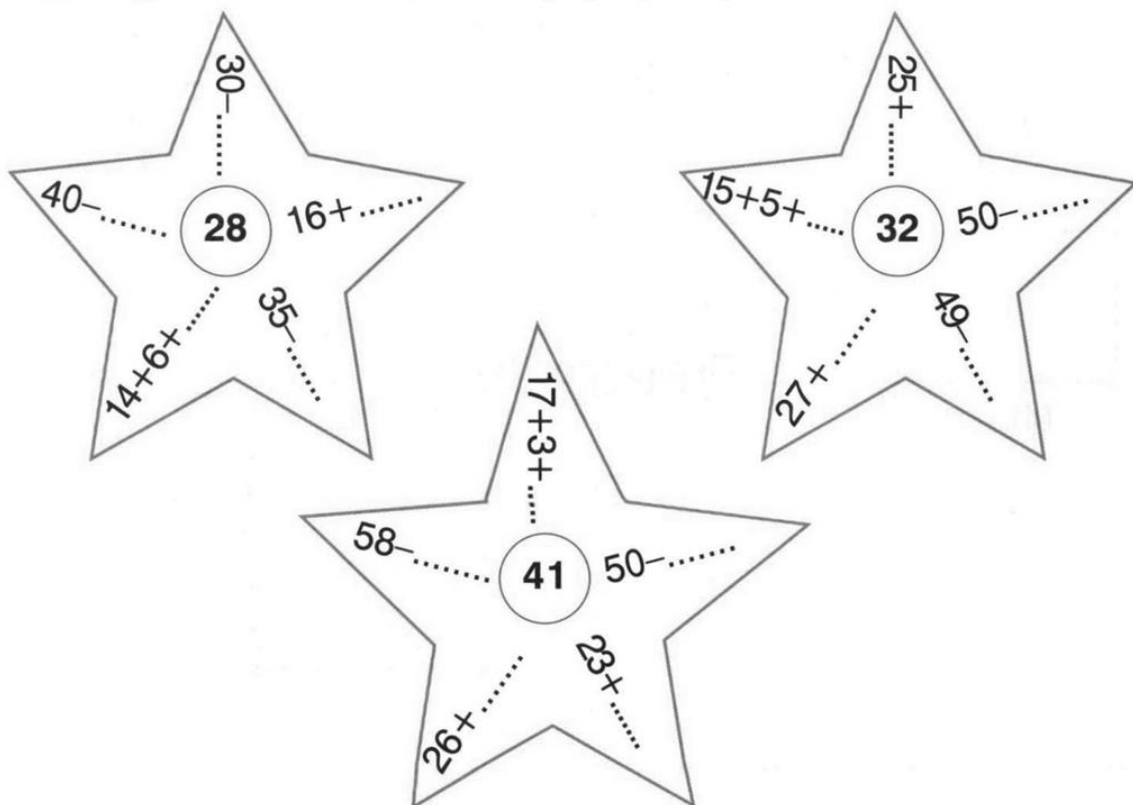
• Δείχνω τους αριθμούς αυτούς στον άβακα.



• Γράφω τους αριθμούς αυτούς σε σειρά από το μικρότερο στο μεγαλύτερο.

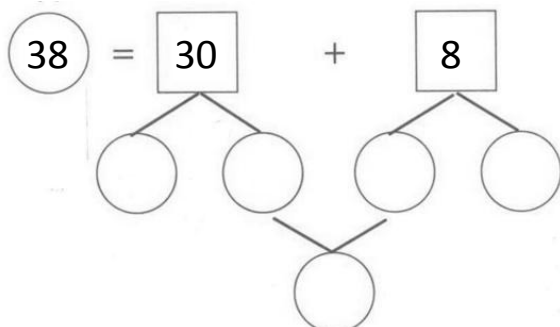
..... < ..... < ..... < .....

2. Βρίσκω τους αριθμούς στόχους:



### 3. Προβλήματα:

- Αν η κυρία Ελένη έχει 38 λουλούδια και η κυρία Αγγελική έχει τα μισά λουλούδια από την κυρία Ελένη, πόσα λουλούδια έχει η κυρία Αγγελική στο μπαλκόνι της;



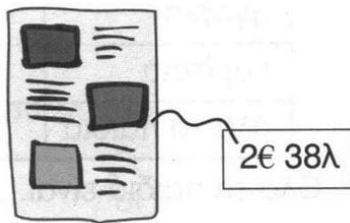
Η κυρία Αγγελική έχει στο μπαλκόνι της.....

- Ο Κωνσταντίνος, ο Θανάσης και ο Ιάσωνας πήγαν στο ψιλικατζίδικο να ψωνίσουν. Ποιος από τους τρεις αγόρασε το περιοδικό και τι ρέστα πήρε;

Κωνσταντίνος

Θανάσης

Ιάσωνας



Είχε 3 €

Είχε 2 € 20 λ.

Είχε 2 €

Το περιοδικό το αγόρασε ο .....

Βρίσκω τα ρέστα:



+

Χρήματα που έδωσε

τιμή περιοδικού

ρέστα

- Η Ηλιάνα αγόρασε μία ξύστρα που έκανε 1 € 82 λεπτά. Πήρε 18 λεπτά ρέστα. Πόσα χρήματα έδωσε;



1€ 82λ

Υπολογίζω

=

+

Χρήματα που έδωσε

τιμή ξύστρας

ρέστα

Απάντηση:.....