



ΜΑΘΗΜΑΤΙΚΑ Β' ΤΑΞΗΣ

Βρίσκω το μισό
και το διπλάσιο

Όνομα: _____

1. Βρίσκω τους αριθμούς στις παρακάτω αριθμητικές αλυσίδες:

51, 53, _____ 79

36, 38, _____ 60

27, 37, _____ 97

99, 89, _____ 9

2. Γράφω πως φτιάχνονται οι αριθμοί:

22, 36, 45, 58, 67, 74, 85, 93.

$$11 = 10 + 1$$

$$22 = \square + \square$$

$$\square = \square + \square$$

$$\square = \square + \square$$

$$\square = \square + \square$$

$$\square = \square + \square$$

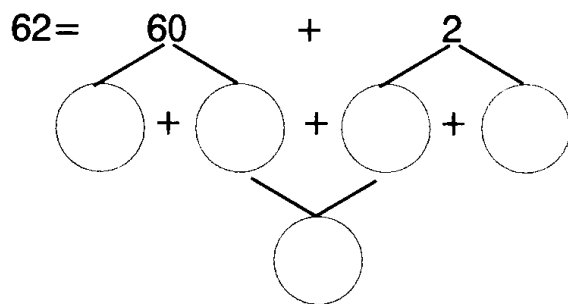
$$\square = \square + \square$$

$$\square = \square + \square$$

$$\square = \square + \square$$

3. Βρίσκω:

Το μισό του 62 είναι το \square



4. Προβλήματα

- α. Ο μπαμπάς έδωσε σε μένα και στην αδερφή μου 56 € και μας είπε να τα μοιράσουμε μισά μισά. Πόσα € πήρε ο καθένας μας;

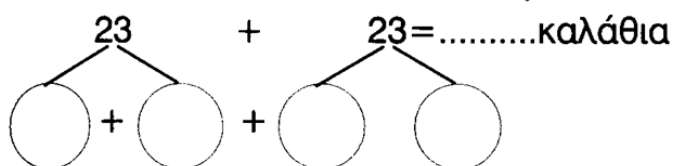
Το μισό του 50 είναι:

Το μισό του 6 είναι:

Άρα το μισό του 56 είναι: + =

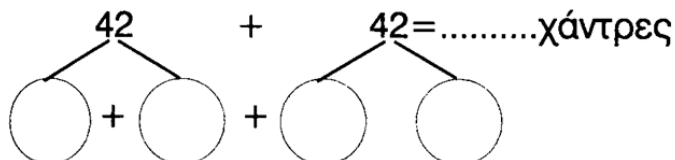
Εγώ πήρα:.....

- β. Ο Γιώργος σε έναν αγώνα μπάσκετ έβαλε 23 καλάθια. Ο Φάνης έβαλε τα διπλάσια. Πόσα καλάθια έβαλε ο Φάνης;



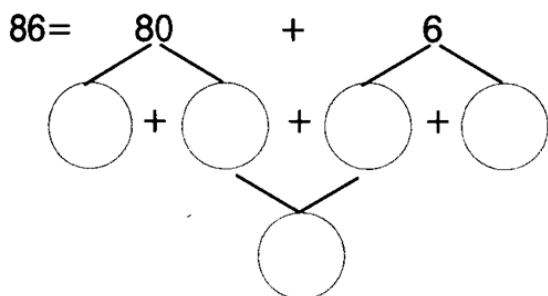
Απάντηση: _____

- γ. Η Μαίρη έχει ένα βραχιόλι με 42 χάντρες. Η Εύη έχει ένα βραχιόλι με τις διπλάσιες χάντρες. Πόσες χάντρες έχει το βραχιόλι της Εύης;



Απάντηση: _____

- δ. Στην έκθεση του σχολείου μας από τα 86 βιβλία τα μισά ήταν μυθιστορήματα και τα άλλα μισά ήταν παραμύθια. Πόσα ήταν απ' το κάθε είδος;



Απάντηση: _____