


Σχήματα

Δομπάζη Αγγέλικα

Ποια σχήματα βλέπετε στο σπίτι;



Πως λέγεται αυτό το σχήμα;


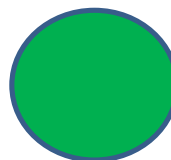


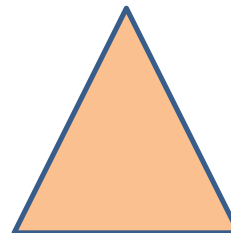






Για να κάνουμε με τα χεράκια μας ένα
κύκλο





Κύκλωσε μόνο τους κύκλους.



Κύκλωσε τους κύκλους που υπάρχουν στην εικόνα




Κύκλωσε τους κύκλους που υπάρχουν στην εικόνα



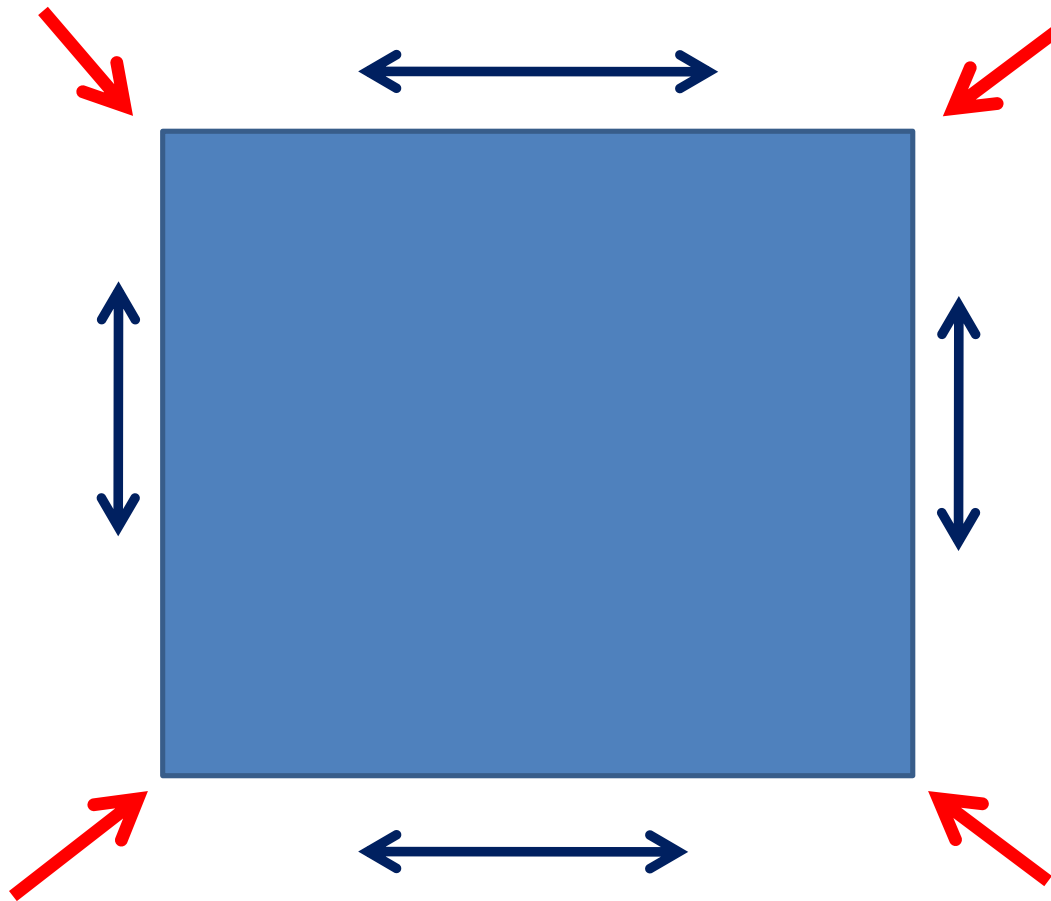
Τι πράγματα βλέπετε γύρω σας
που έχουν σχήμα κύκλο;;

2 λεπτά. Τρέξτε να βρείτε κάτι
μέσα στο σπίτι που έχει σχήμα
κύκλο


Φτιάχνουμε ένα κύκλο



Ποιο σχήμα είναι αυτό;
Το τετράγωνο έχει τέσσερις πλευρές και 4 γωνίες που είναι
όλες ίδιες




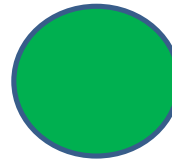


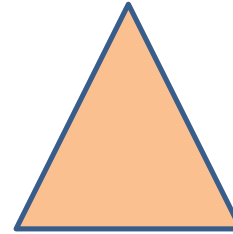



Κύκλωσε τις γωνίες και δείξε τις πλευρές του τετραγώνου
Μετράμε τις πλευρές και τις γωνίες



Ας φτιάξουμε ένα τετράγωνο με τα δαχτυλάκια μας



Κύκλωσε μόνο τα τετράγωνα.



Πόσα τετράγωνα βλέπεις στην εικόνα




4

5

6

Πόσα τετράγωνα βλέπεις στην εικόνα



6

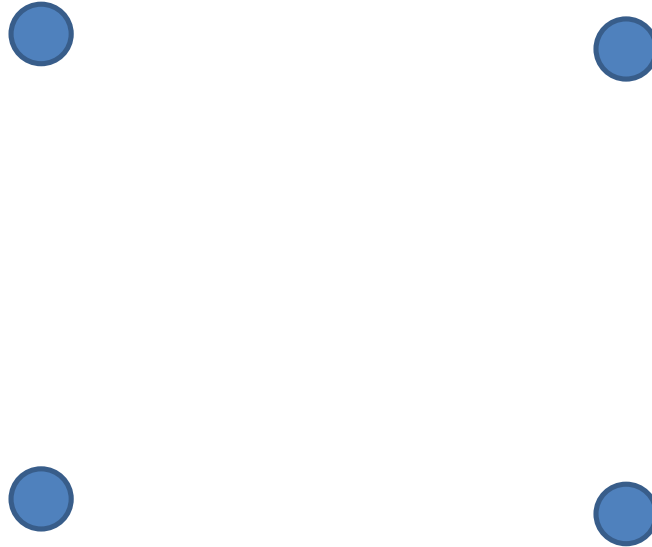
7

8

Τι πράγματα βλέπετε γύρω σας
που έχουν σχήμα Τετράγωνο;;

2 λεπτά. Τρέξτε να βρείτε κάτι
μέσα στο σπίτι που έχει σχήμα
Τετραγωνο

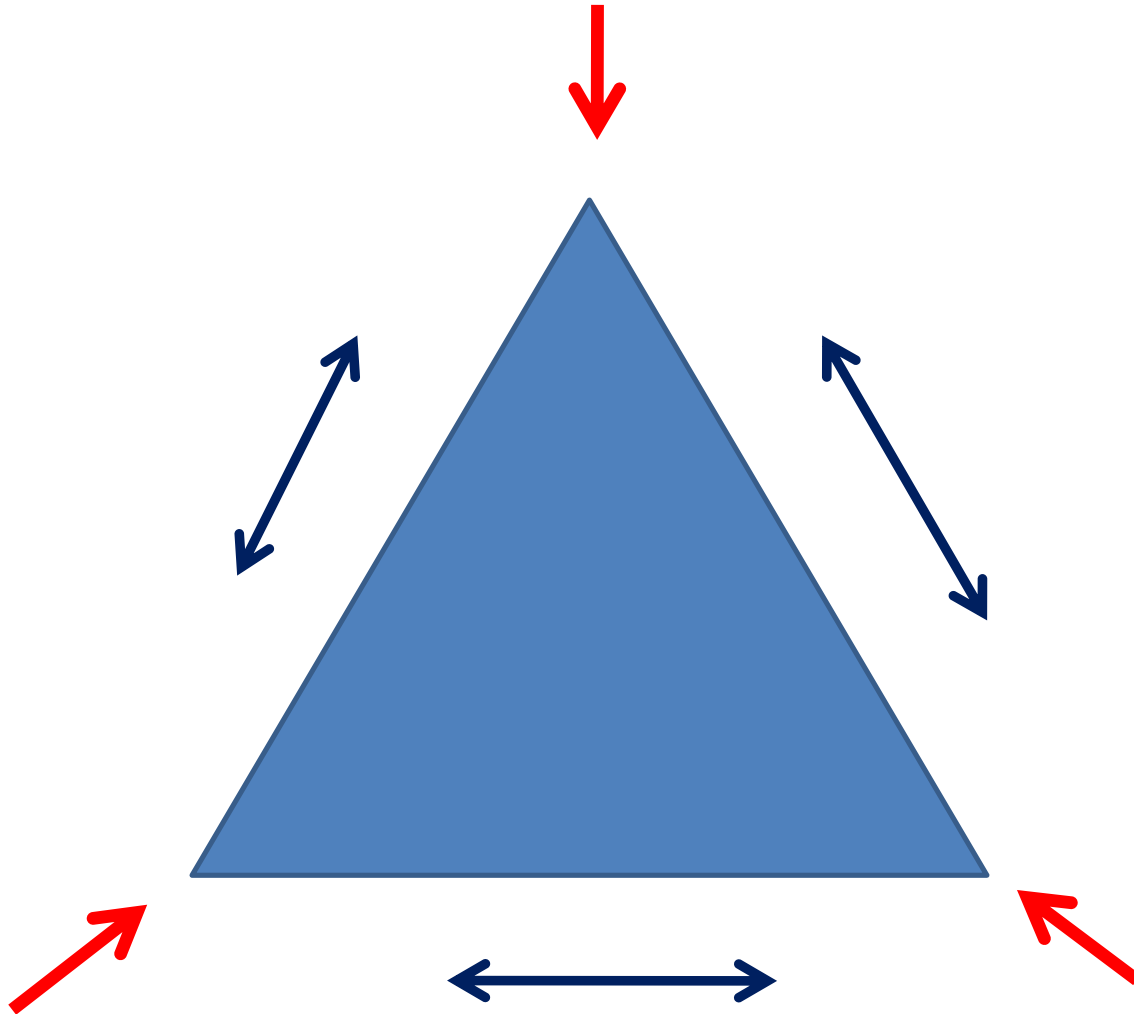
Ένωσε τους κύκλους για να δημιουργηθεί ένα τετράγωνο




Φτιάχνουμε ένα τετράγωνο



Ποιο σχήμα είναι αυτό;
Το Τρίγωνο έχει 3 πλευρές και 3 γωνίες.



Κύκλωσε και μέτρα τις γωνίες του τριγώνου
δείξε και μέτρα τις πλευρές του τριγώνου
Μετράμε μέχρι το 3


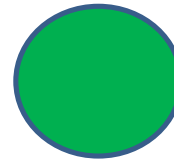


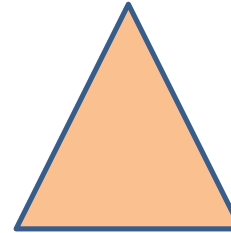
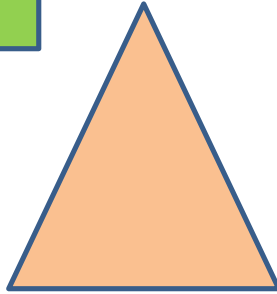




Ας φτιάξουμε ένα τρίγωνο με τα δαχτυλάκια
μας




shutterstock.com • 694623439

Κύκλωσε μόνο τα τρίγωνα .



Πόσα τρίγωνα βλέπεις στην εικόνα;



3

4

2

Πόσα τρίγωνα βλέπεις στην εικόνα;



1


4

2

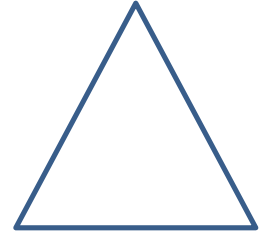
Τι πράγματα βλέπετε γύρω σας
που έχουν σχήμα Τρίγωνο;;

2 λεπτά. Τρέξτε να βρείτε κάτι
μέσα στο σπίτι που έχει σχήμα
Τρίγωνο

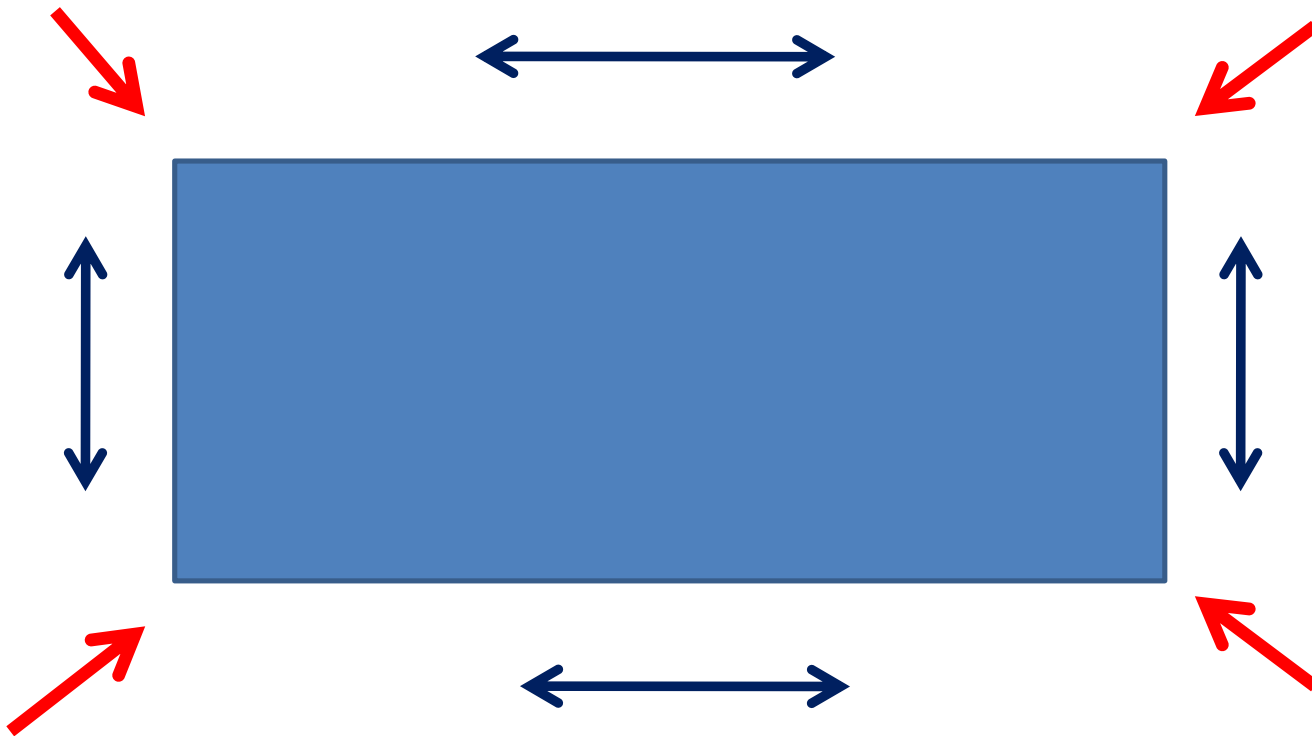
Ένωσε τους κύκλους για να δημιουργηθεί ένα τρίγωνο



Φτιάχνουμε ένα τετράγωνο




Ποιο σχήμα είναι αυτό;
Το ορθογώνιο έχει τέσσερις πλευρές και 4 γωνίες. Ποια είναι
η διαφορά του ορθογωνίου με το τετράγωνο;




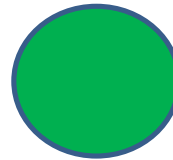


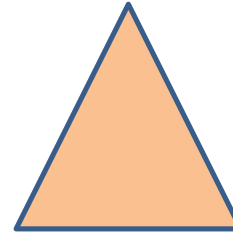
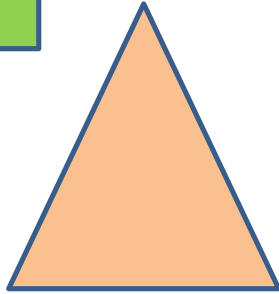



Κύκλωσε και μέτρα τις γωνίες του ορθογωνίου
δείξε και μέτρα τις πλευρές του ορθογωνίου
Μετράμε μέχρι το 4



Ας φτιάξουμε ένα ορθογώνιο με τα δαχτυλάκια
μας



Κύκλωσε μόνο τα ορθογώνια.



Πόσα ορθογώνια βλέπεις στην εικόνα;




1

3

2

Πόσα ορθογώνια βλέπεις στην εικόνα;



8

9

7

Τι πράγματα βλέπετε γύρω σας που έχουν σχήμα Ορθογώνιο;;

2 λεπτά. Τρέξτε να βρείτε κάτι μέσα στο σπίτι που έχει σχήμα ορθογώνιο


Ένωσε τους κύκλους για να δημιουργηθεί ένα ορθογώνιο



Φτιάχνουμε ένα τετράγωνο



Ταίριαξε τις ίδιες λέξεις.



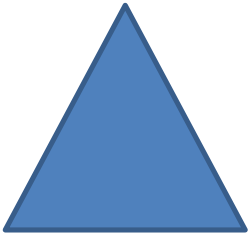
Κύκλος

Τετράγωνο



Τετράγωνο

Κύκλος






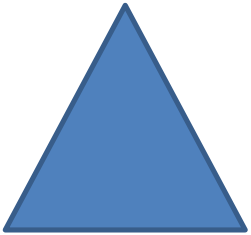

Τρίγωνο

Ορθογώνιο


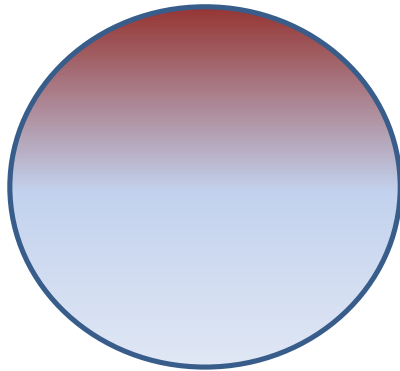
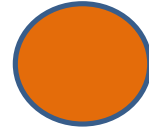



Ορθογώνιο



Τρίγωνο




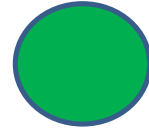

Κύκλωσε το κύκλο που έχει γαλάζιο και πορτοκαλί



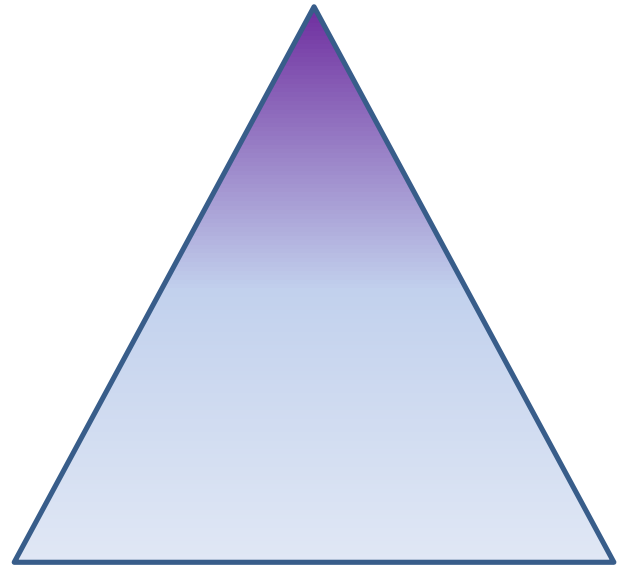
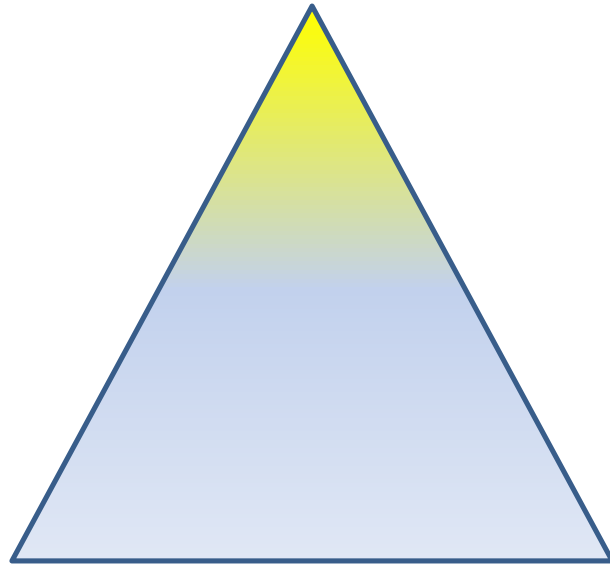


Κύκλωσε το τετράγωνο που έχει γαλάζιο και κόκκινο



Κύκλωσε το ορθογώνιο που έχει γαλάζιο και πράσινο



Κύκλωσε το τρίγωνο που έχει γαλάζιο και κίτρινο



Εργασία για το σπίτι

Φτιάχνω με ζυμαράκι η πλαστελίνη τα 4
σχήματα



Εργασία για το σπίτι

- Η μαμά ή ο μπαμπάς σχεδιάζει τα τέσσερα σχήματα σε ένα χαρτί. Το παιδί τα κόβει και κάνει κολλάζ φτιάχνοντας ένα σπίτι.

