

Ασκήσεις στη γλώσσα
και τα μαθηματικά!!!

Κατεβάζουμε το p.point υπολογιστή μας..

Δεν εκτυπώνουμε!

Στην προστατευμένη προβολή που θα εμφανιστεί, πατάμε **Ενεργοποίηση επεξεργασίας**

Είμαστε έτοιμοι να ακολουθήσουμε τις εντολές και να ολοκληρώσουμε την εργασία μας, μόνο με το ποντίκι του υπολογιστή μας!!!

Άσκηση 1^η

Βάλε στο κάθε πλαίσιο
τη σωστή εικόνα!

Παρατήρησε το πρώτο
γράμμα..

Αυγά



Λαμπάδες



Επιτάφιος



Άσκηση 2^η

Παρατήρησε τις παρακάτω
εικόνες..

Σκέψου τη σειρά των γεγονότων..
Τοποθέτησε τις εικόνες επάνω στο
αστεράκι, ανάλογα με τη χρονική
σειρά!

Θα σύρεις τις εικόνες με το
ποντίκι!!

1

2


3



1

2

3



**Θα μετράς τις μαύρες
βουλίτσες στις πασχαλίτσες
και θα τις αντιστοιχείς με
τον αριθμό..**

0

1

2

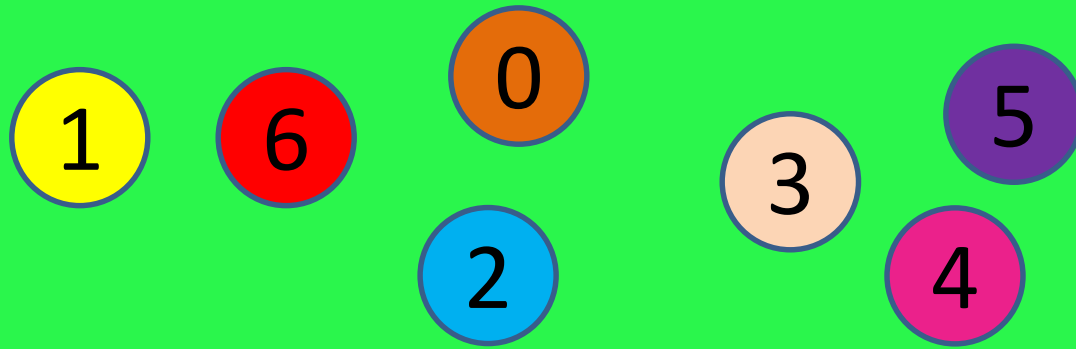
3


4

5

6






Τώρα προσπάθησε να βάλεις μέσα στα κουτάκια τις μπαλίτσες με τους αριθμούς και συ με τη σειρά. Θα κάνεις κλικ στις μπαλίτσες, (π.χ. ) Με τον κέρσορα στο σταυρουδάκι που σχηματίζεται, μπορείς να τις μεταφέρεις..



Ο λαγός έφερε 1 αυγό
μετά έφερε άλλο 1
Τώρα πόσα αυγά έχει;

$$1 + 1 = 2$$





$$1 + 1 = 2$$

Βάλε μέσα στο πλαίσιο το σωστό αριθμό αυγών. Διάλεξε από επάνω, όσα χρειάζεσαι..

