



ΕΠΑΝΑΛΗΠΤΙΚΟ ΜΑΘΗΜΑΤΙΚΩΝ


ΟΝΟΜΑΤΕΠΩΝΥΜΟ: _____ ΗΜΕΡΟΜΗΝΙΑ: _____

1. Ξέροντας πόσο είναι το συνολικό ποσό, βρείτε πόσο είναι το **μέρος**:

 Τα $\frac{5}{6}$ των 120 €	Τα $\frac{7}{8}$ των 20 κιλών
Τα $\frac{2}{3}$ της ώρας (1 ώρα=60 λεπτά)	Τα $\frac{3}{5}$ του 1,5 μέτρου

2. Βρείτε το **συνολικό ποσό** ξέροντας ότι:

 Τα $\frac{4}{10}$ είναι 80 παιδιά	Τα $\frac{6}{7}$ είναι 15 τόνοι
Τα $\frac{2}{3}$ είναι ένας μήνας (1 μήνας = 30 ημέρες)	Τα $\frac{5}{8}$ είναι 2,5 χιλιόμετρα

3. Φτιάξτε δύο προβλήματα παίρνοντας τα στοιχεία από τις ασκήσεις που έχουν αυτό  το σύμβολο.

4. Προβλήματα

Ένας ανθοπώλης είχε φτιάξει 50 ανθοδέσμες για το σαββατοκύριακο.
Από αυτές πούλησε τα $\frac{8}{10}$. Πόσες ανθοδέσμες έμειναν απούλητες;



Ένας οινοπαραγωγός χρησιμοποίησε τα $\frac{3}{4}$ του κρασιού που είχε για να γεμίσει ένα δοχείο 45 κιλών. Πόσα κιλά κρασί είχε;



Μπορείτε να έχετε ανοιχτά τα τετράδια ή τις σημειώσεις σας!

ΚΑΛΗ ΕΠΙΤΥΧΙΑ!!!!!!