


ΜΑΘΗΜΑΤΙΚΑ
ΦΥΛΛΟ ΕΡΓΑΣΙΑΣ 3

ΑΣΚΗΣΗ 1: Βάζω τα κλάσματα στη σωστή σειρά ξεκινώντας από το μεγαλύτερο προς το μικρότερο:

$4/10, 2/10, 7/10, 1/10, 9/10, 5/10, 6/10, 10/10$

ΑΣΚΗΣΗ 2: Χωρίζω και χρωματίζω τον κύκλο ανάλογα με το κάθε κλάσμα:


$1/2$




$2/4$



$3/4$



$1/8$



$4/8$



$7/8$



ΑΣΚΗΣΗ 3: Συνεχίζω τις πράξεις για να βρω το αποτέλεσμα:

$$2 + 18 + \dots = 25$$

$$80 + 3 - \dots = 73$$

$$100 + 200 + \dots = 500$$

$$1000 - 800 + \dots = 1000$$

$$18 - 8 - \dots = 0$$

$$25 + 8 - \dots = 1$$

$$50 + 45 - \dots = 50$$

$$200 + 18 - \dots = 209$$

$$1000 + 1000 - \dots = 900$$

$$33 - 3 + \dots = 100$$

ΑΣΚΗΣΗ 5: Κάνω κάθετα τις παρακάτω διαιρέσεις και στη συνέχεια ελέγχω τα αποτελέσματα με τις επαληθεύσεις:

$$549 : 7, 7431 : 8, 2972 : 6, 2028 : 5, 20910 : 4$$

ΚΑΛΗ ΕΠΙΤΥΧΙΑ

