



**ΜΑΘΗΜΑΤΙΚΑ 4<sup>η</sup> ΕΝΟΤΗΤΑ**  
**Κεφ.25: Οι αριθμοί μέχρι το 50 (3)**

1. Γράφω τους αριθμούς από το 1 έως το 59.

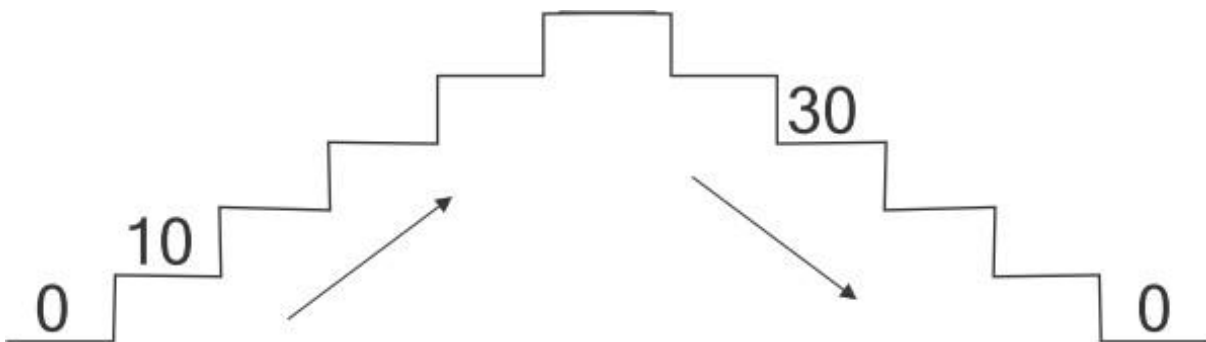

2. Μετρώ **ανά 10** μέχρι το 50.



3. Μετρώ **ανά 5** μέχρι το 50.



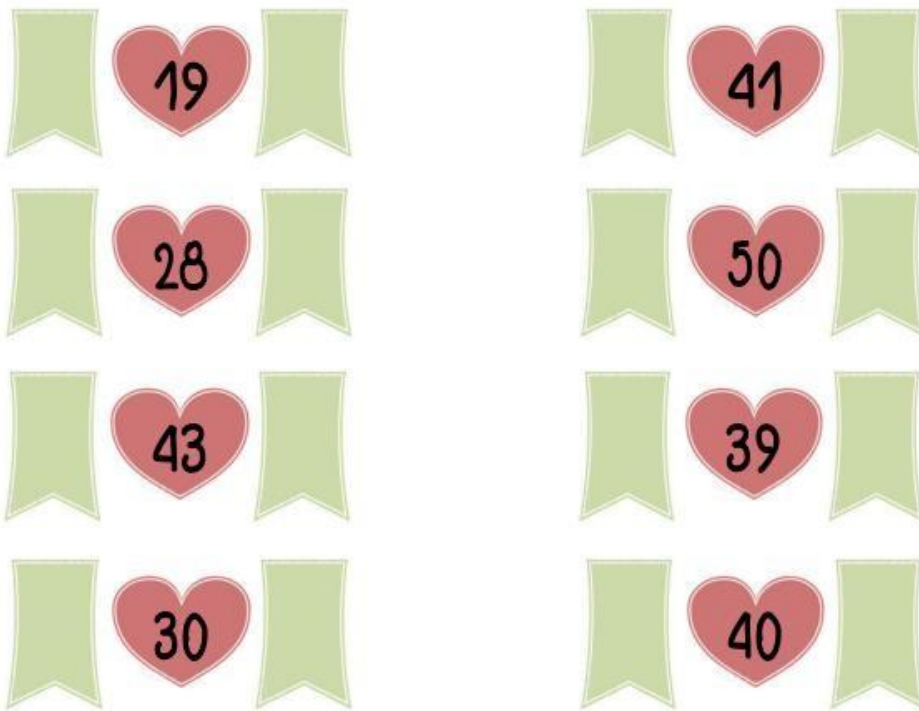
4. **Ανεβαίνω** 10 - 10 τα σκαλάκια και μετά **κατεβαίνω**.



5. Συνεχίζω να μετρώ.



6. Γράφω τον προηγούμενο και το επόμενο αριθμό.



7. Βάζω το σωστό σημαδάκι ( <, =, > ).

